

1. Doplň názov hudobného nástroja:

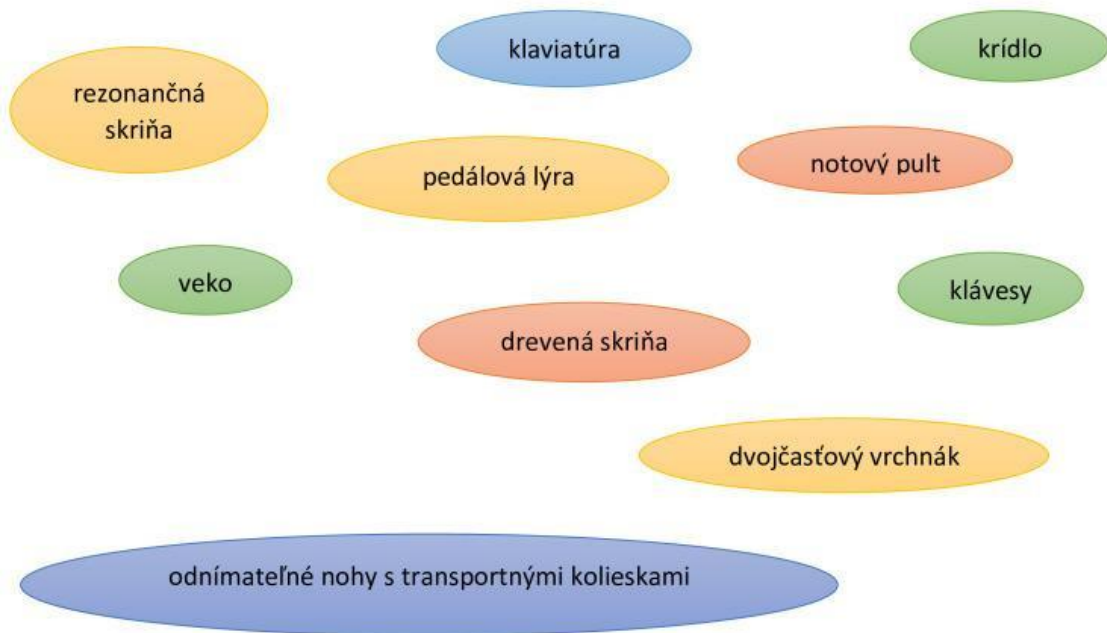


2. Do akej skupiny nástrojov patria?

3. Aký nástroj sa považuje za predchodcu klavíra?

4. Kto ho vynášiel?

5. Priradiť správne názvy k jednotlivým častiam hudobného nástroja:



6. Čo vidíš na obrázku? Prirad' správne názvy:

mechanika

rám

klávesy

rezonančná doska

drevená skriňa


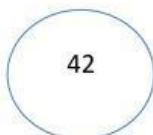

oceľové struny



7. Koľko oktáv má klaviatúra?



8. A koľko kláves?



9. Ktorý klavír sa považuje za najlepšiu svetovú značku?

10. Doplň hudobnú abecedu:

