




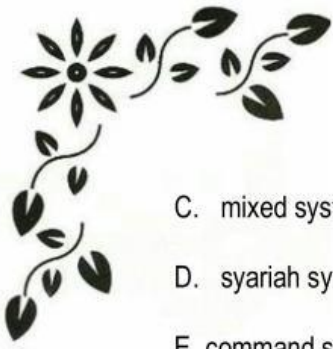
## SOAL SELEKSI KSN EKONOMI

1. Kelancaran berlalu lintas di Jakarta merupakan sesuatu hal yang bernilai mahal dan sulit kita rasakan. Kemacetan berdampak negatif terhadap produktivitas dan tingginya biaya produksi. Berbagai upaya dilakukan pemerintah untuk mengurai kemacetan antara lain adalah dengan memberlakukan pembatasan penggunaan kendaraan pribadi dengan penerapan sistem ganjil genap dan sistem 3 in 1, serta pembangunan MRT dan LRT.  
Dampak positif yang diharapkan dari kebijakan tersebut adalah ....
  - A. peningkatan penjualan mobil pribadi
  - B. peralihan masyarakat ke moda transportasi publik
  - C. peningkatan keuntungan transportasi online
  - D. penambahan ruas jalan raya di Jakarta
  - E. pemberian Surat Izin Mengemudi (SIM) harus diperketat
2. Ajie sold his house for Rp500.000.000,00 that he bought a year ago for Rp500.000.000,00. He says, "at least I didn't lose my money on my financial investment.". His economist friend pointed out that in effect he did lose money, because he could have received at least 5 percent return on the Rp500.000.000,00 if he had bought a bank certificate of deposit instead of a house.  
The economist's analyst in this case incorporates the idea of ....
  - A. normative economics
  - B. cost productions
  - C. opportunity cost
  - D. marginal benefit
  - E. efficiency
3. Which of the following is a positive economic statement?
  - A. If the government increases tax on gasoline, the price people pay for gasoline will rise.
  - B. The government should not let the price of gasoline rise, because this would harm poor people.



- C. The government should let the price of gasoline rise, because this would help retired people who own stock in petroleum companies.
  - D. The government ought not to control the price of gasoline, because its price should be determined in the free marketplace.
  - E. The government increases the gasoline price.
4. Penyelenggaraan Asian Games 2018 di Indonesia ternyata memberi dampak positif bagi usaha Bapak Arnold. Sejak ia memutuskan untuk menghentikan produksi pembuatan seragam sekolah dan beralih memproduksi kaos serta pernik-pernik bertema Asian games, orderan terus berdatangan. Keputusan Bapak Arnold dalam berproduksi menjawab permasalahan ekonomi yang dihadapinya, yaitu ....
- A. what to produce
  - B. how to produce
  - C. when to produce
  - D. for whom to product
  - E. where to produce
5. Why does even a free market economy need some government intervention?
- A. To ensure that the government has the freedom to tax as necessary.
  - B. To provide things that the marketplace could not provide.
  - C. So that the government has some control over factor resources.
  - D. To ensure that the government can fulfill its needs for military personnel.
  - E. To eliminate unemployment.
6. A government sets quotas and prints and distributes posters to inspire workers to increase their productivity. In which type of economy would this most likely take place ....
- A. traditional system
  - B. market system






- C. mixed system
  - D. syariah system
  - E. command system
7. PT. Java Image memproduksi sepatu dengan mengeluarkan biaya tetap Rp2.000.000,00 dan biaya variabel rata-rata Rp800.000,00. Apabila perusahaan tersebut menetapkan harga jual Rp1.000.000,00 per unit, maka berapa produksi minimal yang harus dicapai untuk mencapai titik impas adalah ....
- A. 10 unit
  - B. 100 unit
  - C. 200 unit
  - D. 200.000 unit
  - E. 1.000.000 unit
8. How do industries under monopolistic competition resemble those in pure competition?
- A. Differentiated products are produced in both market structures.
  - B. In the long run, industries in both market structures earn high economic profits.
  - C. Industries in both market structures are price searchers as opposed to price takers.
  - D. In both market structures, barriers to entry are weak or do not exist.
  - E. Industries in both market structures consist of only a few firms.
9. Diketahui suatu fungsi permintaan dinyatakan dengan  $Q_d = 50.000 - 3P$  dan fungsi penawaran  $Q_s = -20.000 + 5P$ , pemerintah menetapkan pajak sebesar Rp500,00 per unit. Berdasarkan data tersebut harga keseimbangan setelah pajak ....
- A. 8.750
  - B. 9.062,5
  - C. 22.812,5
  - D. 23.750







E. 30.000

10. Apabila diketahui pada saat harga barang "X" naik dari 1.200 per unit menjadi 1.500 per unit dan fungsi permintaan yang berlaku  $Q = 10 P - 1000$ . Maka sifat koefisien elastisitas permintaannya adalah ....

A. elastis

B. inelastis

C. elastis uniter

D. elastis sempurna

E. inelastis sempurna

11. Tugas serta wewenang Otoritas Jasa Keuangan (OJK) menurut Undang-Undang Nomor 21 Tahun 2011 adalah sebagai berikut:

1) Melakukan pengaturan dan pengawasan jasa keuangan di sektor perbankan

2) Menetapkan peraturan pelaksanaan terhadap UU OJK

3) Melakukan pengaturan dan pengawasan jasa di sektor perasuransian

4) Melakukan pengaturan dan pengawasan jasa di sektor pasar modal

5) Menetapkan peraturan perundang-undangan di sektor jasa keuangan

6) Menetapkan peraturan mengenai pengawasan

Berdasarkan Undang-Undang tersebut, tugas Bank Indonesia (BI) yang sekarang menjadi tugas OJK adalah nomor ....

A. 1), 2), dan 3)

B. 1), 3), dan 4)

C. 2), 3), dan 5)

D. 2), 4), dan 6)

E. 4), 5), dan 6)

12. Firma ARCO beranggotakan Abdul, Rahman, dan Cori dengan modal yang disetor masing-masing sebesar Rp20.000.000,00, Rp10.000.000,00, dan Rp30.000.000,00. Ketiganya bekerja dan berperan aktif dalam perusahaan dan mendapatkan gaji bulanan. Pada tahun 2018 Firma ARCO memperoleh laba bersih Rp 90.000.000,00. Bila pembagian laba ditentukan secara proporsional berdasarkan



besarnya modal, maka besarnya penerimaan laba untuk masing-masing sekutu (Abdul, Rohman dan Cori) dari perusahaan adalah ....

- A. Rp15.000.000,00 ; Rp30.000.000,00 ; Rp45.000.000,00
- B. Rp20.000.000,00 ; Rp10.000.000,00 ; Rp30.000.000,00
- C. Rp30.000.000,00 ; Rp10.000.000,00 ; Rp20.000.000,00
- D. Rp30.000.000,00 ; Rp15.000.000,00 ; Rp45.000.000,00
- E. Rp45.000.000,00 ; Rp30.000.000,00 ; Rp15.000.000,00

13. Suatu perusahaan memiliki beberapa manajer lini, dengan rincian tugas sebagai berikut:

- 1) Menentukan berapa banyaknya tenaga kerja.
- 2) Menyeleksi bahan baku.
- 3) Membuat inovasi.
- 4) Menyusun anggaran perusahaan.
- 5) Mengendalikan mutu dan teknologi.
- 6) Membuat target pasar.

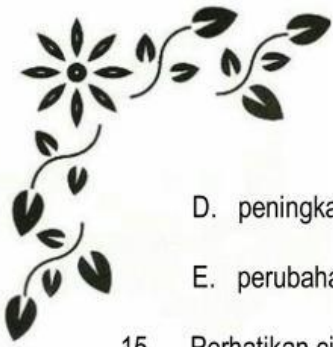
Yang merupakan lingkup kerja manajer produksi adalah nomor ....

- A. 1), 2), dan 3)
- B. 1), 3), dan 6)
- C. 2), 3), dan 5)
- D. 3), 4), dan 6)
- E. 4), 5), dan 6)

14. Menurut Prof. Dr. Simon Kuznet pertumbuhan ekonomi adalah kenaikan jangka panjang dalam kemampuan suatu negara untuk menyediakan semakin banyak jenis barang-barang ekonomi kepada penduduknya. Kemampuan yang dimaksud adalah tumbuh sesuai dengan kemajuan teknologi serta penyesuaian kelembagaan dan ideologis yang diperlukannya. Berdasarkan pengertian tersebut, yang bukan merupakan unsur pertumbuhan ekonomi adalah ....

- A. teknologi maju
- B. penggunaan teknologi secara efisien
- C. inovasi dalam pengetahuan



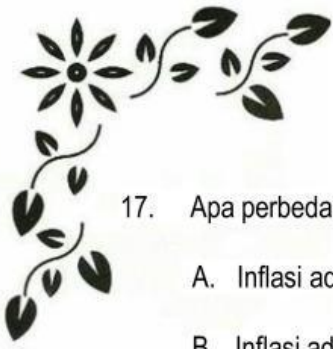


- D. peningkatan persediaan barang secara terus menerus
- E. perubahan struktur ekonomi

15. Perhatikan ciri-ciri kondisi perekonomian suatu negara yang menunjukkan:
- 1) Kenaikan harga secara umum dan terus menerus.
  - 2) Adanya kenaikan permintaan agregat (aggregate demand) barang/jasa.
  - 3) Nilai uang turun.
  - 4) Kapasitas produksi berada dalam kesempatan kerja penuh (full employment).
  - 5) Kondisi perekonomian ini sering kali disebut sebagai inflasi murni. Jenis inflasi yang dimaksud adalah
- A. galloping inflation
  - B. cost-push inflation
  - C. creeping inflation
  - D. demand-pull inflation
  - E. hyper inflation
16. Apa yang dimaksud dengan hukum penawaran dan permintaan dalam ilmu ekonomi?
- A. Hukum yang menyatakan bahwa harga suatu barang akan naik jika permintaan lebih besar dari penawaran.
  - B. Hukum yang menyatakan bahwa harga suatu barang akan turun jika penawaran lebih besar dari permintaan.
  - C. Hukum yang menyatakan bahwa harga suatu barang tetap stabil jika penawaran dan permintaan seimbang.
  - D. Hukum yang menyatakan bahwa harga suatu barang akan naik jika penawaran lebih kecil dari permintaan.







17. Apa perbedaan antara inflasi dan deflasi?
- A. Inflasi adalah penurunan nilai mata uang, sedangkan deflasi adalah kenaikan nilai mata uang.
  - B. Inflasi adalah kenaikan secara umum dari tingkat harga, sedangkan deflasi adalah penurunan tingkat harga.
  - C. Inflasi terjadi ketika ekonomi tumbuh, sedangkan deflasi terjadi ketika ekonomi mengalami resesi.
  - D. Inflasi adalah peningkatan daya beli, sedangkan deflasi adalah penurunan daya beli.
18. Apa yang dimaksud dengan GDP (Gross Domestic Product)?
- A. Total nilai semua barang dan jasa yang dihasilkan oleh warga negara dalam negeri.
  - B. Total nilai semua barang dan jasa yang dihasilkan dalam negeri, tanpa memperhitungkan kebangsaan produsen.
  - C. Total nilai semua barang dan jasa yang dihasilkan oleh warga negara di luar negeri.
  - D. Total nilai semua barang dan jasa yang dihasilkan di luar negeri oleh warga negara.
19. Apa yang dimaksud dengan elastisitas permintaan?
- A. Kemampuan konsumen untuk menggantikan suatu barang dengan barang lain.
  - B. Respons perubahan jumlah barang yang diminta terhadap perubahan harga.
  - C. Kemampuan produsen untuk meningkatkan produksi sesuai dengan permintaan pasar.
  - D. Hubungan antara harga dan biaya produksi suatu barang.
20. Mengapa tingkat pengangguran yang tinggi dapat merugikan perekonomian?
- A. Karena tingkat inflasi akan meningkat.
  - B. Karena konsumen akan memiliki lebih banyak uang untuk dibelanjakan.
  - C. Karena produksi dan pendapatan nasional cenderung menurun.
  - D. Karena investasi dari luar negeri akan meningkat.





21. Apa yang dimaksud dengan alokasi sumber daya ekonomi?
- A. Proses pemerataan pendapatan di antara lapisan masyarakat.
  - B. Penetapan kebijakan moneter oleh bank sentral.
  - C. Distribusi hasil produksi secara merata di pasar.
  - D. Penggunaan sumber daya ekonomi yang terbatas untuk memenuhi kebutuhan yang tidak terbatas.
22. Mengapa masalah efisiensi alokasi sumber daya menjadi krusial dalam ekonomi?
- A. Karena efisiensi alokasi dapat mengurangi tingkat konsumsi masyarakat.
  - B. Karena efisiensi alokasi dapat meningkatkan kekayaan nasional.
  - C. Karena efisiensi alokasi dapat mengatasi masalah inflasi.
  - D. Karena efisiensi alokasi dapat meminimalkan pemborosan sumber daya.
23. Bagaimana dampak globalisasi terhadap masalah alokasi sumber daya ekonomi?
- A. Globalisasi cenderung meningkatkan ketidaksetaraan pendapatan di dalam suatu negara.
  - B. Globalisasi dapat meningkatkan efisiensi alokasi sumber daya melalui akses ke pasar global.
  - C. Globalisasi hanya berdampak pada sektor perdagangan, tidak pada alokasi sumber daya.
  - D. Globalisasi menyebabkan penurunan tingkat konsumsi di negara-negara berkembang.
24. Apa peran pemerintah dalam mengatasi masalah distribusi pendapatan?
- A. Pemerintah harus memastikan bahwa semua warga mendapatkan pendapatan yang setara.
  - B. Pemerintah harus memberlakukan pajak progresif untuk mengurangi ketidaksetaraan pendapatan.
  - C. Pemerintah tidak memiliki peran dalam masalah distribusi pendapatan.
  - D. Pemerintah hanya bertanggung jawab atas distribusi pendapatan di sektor swasta.








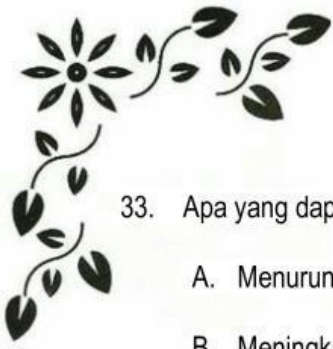
25. Mengapa konsep eksternalitas dianggap sebagai masalah dalam alokasi sumber daya ekonomi?
- A. Karena eksternalitas hanya terjadi di sektor industri tertentu.
  - B. Karena eksternalitas dapat mengakibatkan pemborosan sumber daya dan ketidaksetaraan.
  - C. Karena eksternalitas hanya berdampak pada konsumen, bukan pada produsen.
  - D. Karena eksternalitas hanya terjadi pada ekonomi tertutup, bukan pada ekonomi terbuka.
26. Apa yang dimaksud dengan faktor produksi yang bersifat "rental" dalam kegiatan ekonomi?
- A. Faktor produksi yang dapat diperoleh dengan mudah di pasar.
  - B. Faktor produksi yang bersifat sewa atau disewakan dalam proses produksi.
  - C. Faktor produksi yang bersifat sangat langka dan sulit ditemukan.
  - D. Faktor produksi yang bersifat milik pribadi dan tidak dapat dipertukarkan.
27. Mengapa kegiatan ekonomi sering diukur dengan indikator Gross National Income (GNI) daripada Gross Domestic Product (GDP)?
- A. Karena GNI mencakup pendapatan yang diperoleh warga negara di luar negeri.
  - B. Karena GDP hanya mengukur nilai tambah di dalam negeri tanpa memperhitungkan faktor luar.
  - C. Karena GNI hanya mengukur kegiatan ekonomi di sektor produksi.
  - D. Karena GDP tidak mencerminkan tingkat distribusi pendapatan secara akurat.
28. Apa dampak inflasi yang signifikan terhadap kegiatan ekonomi?
- A. Meningkatkan daya beli masyarakat secara keseluruhan.
  - B. Mengurangi nilai nyata uang dan menghambat investasi jangka panjang.
  - C. Mempercepat pertumbuhan ekonomi secara berkelanjutan.
  - D. Mendorong ekspor dan meningkatkan saldo perdagangan.





29. Bagaimana peran teknologi dalam mengubah dinamika kegiatan ekonomi?
- A. Teknologi hanya berdampak pada sektor industri, tidak pada sektor lainnya.
  - B. Teknologi dapat meningkatkan efisiensi produksi dan menciptakan sektor ekonomi baru.
  - C. Teknologi hanya mempengaruhi negara maju, bukan negara berkembang.
  - D. Teknologi tidak memiliki dampak signifikan pada kegiatan ekonomi.
30. Mengapa diversifikasi portofolio investasi sering dianggap sebagai strategi yang bijaksana dalam kegiatan ekonomi?
- A. Karena diversifikasi memastikan bahwa investasi hanya fokus pada satu sektor ekonomi.
  - B. Karena diversifikasi dapat mengurangi risiko kehilangan investasi secara keseluruhan.
  - C. Karena diversifikasi hanya diperlukan dalam situasi resesi ekonomi.
  - D. Karena diversifikasi hanya berlaku untuk investor besar, bukan individu kecil.
31. Faktor apa yang paling mungkin menyebabkan pergeseran kurva permintaan suatu barang ke kanan?
- A. Kenaikan harga barang tersebut.
  - B. Penurunan pendapatan konsumen.
  - C. Peningkatan harga barang pengganti.
  - D. Perubahan preferensi konsumen terhadap barang tersebut.
32. Bagaimana kebijakan pemerintah terkait peraturan lingkungan yang ketat dapat mempengaruhi pasar?
- A. Menurunkan harga barang dan meningkatkan permintaan.
  - B. Meningkatkan biaya produksi dan menurunkan penawaran.
  - C. Mengurangi daya saing pasar internasional.
  - D. Mendorong peningkatan produksi dan ekspor.

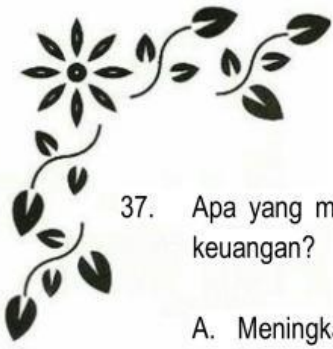




33. Apa yang dapat menjadi dampak peningkatan teknologi pada pasar suatu barang?
- A. Menurunkan harga barang dan meningkatkan penawaran.
  - B. Meningkatkan harga barang dan menurunkan permintaan.
  - C. Menurunkan biaya produksi dan meningkatkan penawaran.
  - D. Mengurangi daya saing pasar internasional.
34. Dalam konteks penawaran, apa yang dimaksud dengan "efek penggunaan faktor produksi yang fleksibel"?
- A. Kemampuan produsen untuk dengan cepat mengubah jumlah produksi.
  - B. Keterbatasan jumlah faktor produksi yang tersedia di pasar.
  - C. Ketidakmampuan produsen untuk menyesuaikan biaya produksi.
  - D. Pembatasan terhadap jenis faktor produksi yang dapat digunakan.
35. Bagaimana kebijakan pemerintah terkait pajak ekspor dapat mempengaruhi pasar global?
- A. Mendorong peningkatan ekspor dan penawaran di pasar internasional.
  - B. Menurunkan daya saing produk di pasar internasional.
  - C. Meningkatkan harga barang dan menurunkan permintaan di pasar domestik.
  - D. Memperkuat nilai mata uang nasional dan meningkatkan daya beli konsumen.
36. Apa peran utama yang diemban oleh Otoritas Jasa Keuangan (OJK) dalam sistem keuangan suatu negara?
- A. Menetapkan kebijakan fiskal untuk mengatasi defisit anggaran.
  - B. Melakukan pengawasan terhadap lembaga keuangan dan pasar modal.
  - C. Mengatur suku bunga dan nilai tukar mata uang nasional.
  - D. Menangani sengketa antara perusahaan dan konsumen.







37. Apa yang menjadi fokus utama OJK dalam menjalankan fungsi pengawasannya terhadap lembaga keuangan?
- A. Meningkatkan profitabilitas perusahaan keuangan.
  - B. Melindungi kepentingan konsumen dan stabilitas sistem keuangan.
  - C. Menyediakan pinjaman kepada masyarakat secara langsung.
  - D. Mengendalikan inflasi dan pertumbuhan ekonomi.
38. Bagaimana OJK dapat memitigasi risiko dalam industri keuangan?
- A. Dengan menurunkan suku bunga secara drastis.
  - B. Dengan mengeluarkan kebijakan yang mendorong tingkat utang perusahaan.
  - C. Dengan melakukan pengawasan ketat terhadap kepatuhan lembaga keuangan terhadap peraturan.
  - D. Dengan memberikan insentif pajak kepada lembaga keuangan yang berisiko tinggi.
39. Apa peran utama lembaga kliring dalam operasi pasar modal?
- A. Menetapkan harga saham di pasar.
  - B. Menjaga keamanan transaksi dan menjamin penyelesaian yang lancar.
  - C. Mengontrol pergerakan harga saham untuk mencegah volatilitas pasar.
  - D. Mengelola portofolio investasi bagi investor.
40. Mengapa indeks saham seperti Dow Jones Industrial Average atau S&P 500 sering digunakan sebagai ukuran kinerja pasar modal?
- A. Karena indeks saham memberikan informasi terperinci tentang setiap saham di pasar.
  - B. Karena indeks saham mencerminkan nilai rata-rata dari seluruh saham yang terdaftar.
  - C. Karena indeks saham hanya mencakup saham dari perusahaan besar.
  - D. Karena indeks saham memiliki volatilitas yang rendah.

