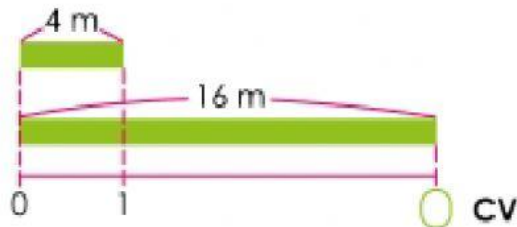




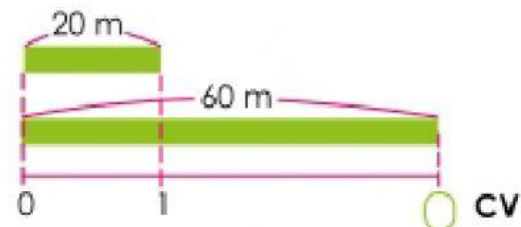
## CANTIDAD DE VECES

1 • Escribo el número adecuado en las casillas:

a) La longitud de la cinta de abajo es  veces la longitud de la cinta de arriba.



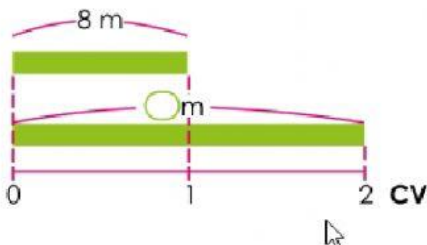
b) La longitud de la cinta de abajo es  veces la longitud de la cinta de arriba.



## CANTIDAD COMPARADA

1 • Encuentro la longitud de la cinta de abajo:

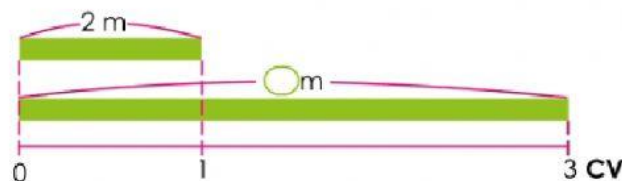
a) La longitud de la cinta de abajo es 2 veces la longitud de la cinta de arriba.



b) La longitud de la cinta de abajo es 4 veces la longitud de la cinta de arriba.



c) La longitud de la cinta de abajo es 3 veces la longitud de la cinta de arriba.





# PROBLEMA



- 1 • Miguel tiene 6 años y su papá tiene 24 años, ¿cuántas veces la edad de Miguel es la edad de su papá?

P.O

R.