

# FICHE 9

## Les barres de mesure

1. **Écris**, de la plus **courte** à la plus **longue**, le nom des **figures de note** (n'emploie pas d'article) :

--	--	--	--	--

2. **Écris**, de la plus **longue** à la plus **courte**, le nom des **figures de silence** (n'emploie pas d'article) :

--	--	--	--	--

3. **Écris** le nom des **notes** vers **l'aigu**. Commence par **si** :

--

4. **Écris** la **gamme de ré** vers le **grave** :

--

5. **Écris** le nom des **notes** vers le **grave**. Commence par **fa** :

--

6. **Écris** la **gamme de la** vers **l'aigu** :

--

7. **Réponds** en employant des **nombres** ou des **chiffres**. Dans le système musical occidental, on emploie, en tout, 

--

**notes différentes**. Parmi elles, les **notes naturelles** sont

--

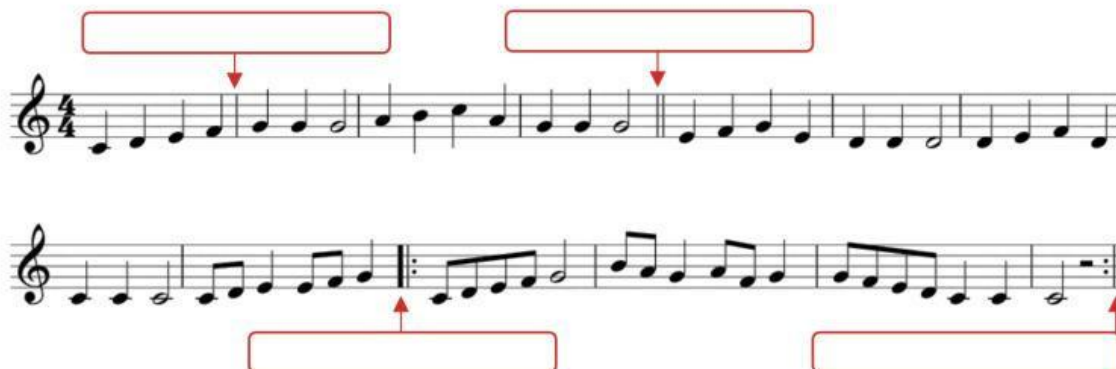
8. **Écris** correctement le nom de ces **symboles musicaux** (n'emploie pas d'article) :




9. **Écris** correctement le nom des cinq **barres de mesure** employées en musique (n'emploie pas d'article) :

Five empty rectangular boxes for labeling different types of musical bar lines.

10. Dans l'image suivante, identifie les **barres de mesure** signalées et **écris** correctement leur nom (n'emploie pas d'article) :

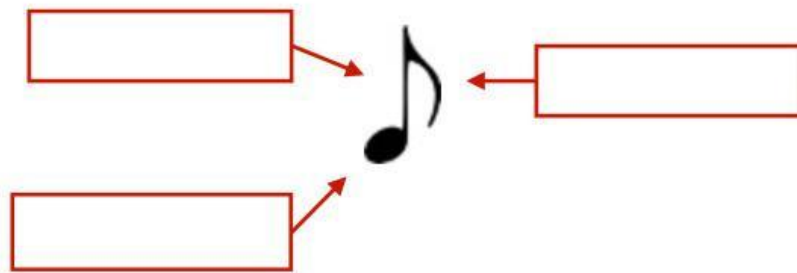


11. **Écris l'ordre** des mesures dans l'**interprétation** en les identifiant par son numéro. Sépare-les par une virgule ou par un espace :



A long empty rectangular box for writing the sequence of measure numbers.

14. **Indique** le nom des **parties** de la figure :



15. **Complète** l'exercice et répond aux questions :



**Combien** de **mesures** il y en a ? Écris un nombre :  Quelle est la **clé** ? N'emploie pas d'article :  Qu'est-ce que nous **indique** le **chiffre de mesure** ?   
 par mesure ou leurs équivalents. **Écris**, en ordre d'apparition, les **notes** dans la **mesure 2** :  Quelle est la seule **figure** dans la **mesure 5** ? N'emploie pas d'article :  En **tout**, combien de **noires** il y en a ? Écris un nombre :   
 Et combien de **croches** ? Écris un chiffre :  Quelles sont les **barres de mesure** qui y apparaissent ? N'emploie pas d'article :

16. **Nomme** les **notes** dans l'exercice suivant. Dans le **premier rang** (rouge), emploie la nomenclature **latine** ; dans le **deuxième rang** (vert), la nomenclature **anglo-saxonne** :