













1. Tariklah garis. Temukan pasangannya.

a  •  • 


b  •  • 

c  •  • 

d  •  • 

5. Isilah dengan bilangan yang benar.

a



10 ditambah 3  
menjadi \_\_\_\_\_

b



10 ditambah 7  
menjadi \_\_\_\_\_

6. Lengkapi operasi penjumlahannya.

a



$10 + 5 =$  \_\_\_\_\_

b



$10 + 6 =$  \_\_\_\_\_