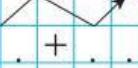


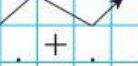
Додаємо і віднімаємо числа  
з переходом через розряд

1. Знайди значення виразів, використовуючи схеми.

$$34 - 5 = 20 + (\dots - \dots) = \dots + \dots = \dots$$



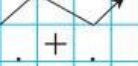
$$82 - 7 = \dots + (\dots - \dots) = \dots + \dots = \dots$$



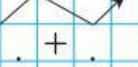
$$58 - 9 = \dots + (\dots - \dots) = \dots + \dots = \dots$$



$$63 - 7 = \dots + (\dots - \dots) = \dots + \dots = \dots$$



$$26 - 7 = \dots + (\dots - \dots) = \dots + \dots = \dots$$



$$25 + 7 = \dots + (\dots + \dots) = \dots + \dots = \dots$$

