

# LKPD

## SISTEM KOORDINASI

.Sistem Indra dan Gangguan Sistem Indra



KELAS

**XI**

SMA/MA

Kelompok:

Kelas:

**LEMBAR KERJA PESERTA DIDIK**  
**PERTEMUAN KE-4 : SISTEM INDRA DAN GANGGUAN SISTEM INDRA**

Kelompok :	
Anggota Kelompok :	1. 2. 3. 4. 5. 6..
Kelas :	

**Identitas LKPD**

Sekolah : SMA Negeri 1 Sumber  
Mata Pelajaran / Tema : Biologi  
Kelas : XI  
Materi Pokok : Sistem Koordinasi (Sistem Indra dan Gangguan Sistem Indra)  
Alokasi Waktu : 20 Menit

**Capaian Pembelajaran**

Pada akhir fase F, peserta didik memiliki kemampuan mendeskripsikan struktur sel serta bioproses yang terjadi seperti transpor membran dan pembelahan sel; menganalisis keterkaitan struktur organ pada sistem organ dengan fungsinya serta kelainan atau gangguan yang muncul pada sistem organ tersebut

**Tujuan Pembelajaran (TP)**

- a) Peserta didik mampu menjelaskan struktur dan fungsi sistem indra pada manusia.
- b) Peserta didik mampu mengidentifikasi gangguan pada sistem indra dan dampaknya pada tubuh manusia.

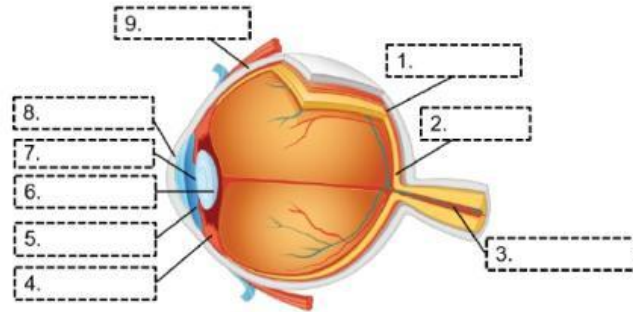
**Petunjuk Pengerjaan**

- Berdoa sebelum memulai kegiatan belajar
- Membentuk kelompok yang terdiri dari 6 orang peserta didik
- Tuliskan identitas kelompok
- Bacalah tiap intruksi yang diberikan pada kegiatan pembelajaran dengan baik.
- Kerjakan LKPD secara berurutan dengan cermat dan teliti.
- Diskusikan bersama anggota kelompok setiap pertanyaan yang ada di LKPD.
- Tanyakan kepada guru jika ada kesulitan
- Carilah beberapa sumber informasi dari berbagai referensi yang tersedia.
- Presentasikan hasil diskusi di depan kelas.

## YUK BERDISKUSI!

### A. Indra Pelihat

1. Perhatikan gambar berikut !



Sebutkan bagian pada gambar tersebut dan jelaskan fungsinya!

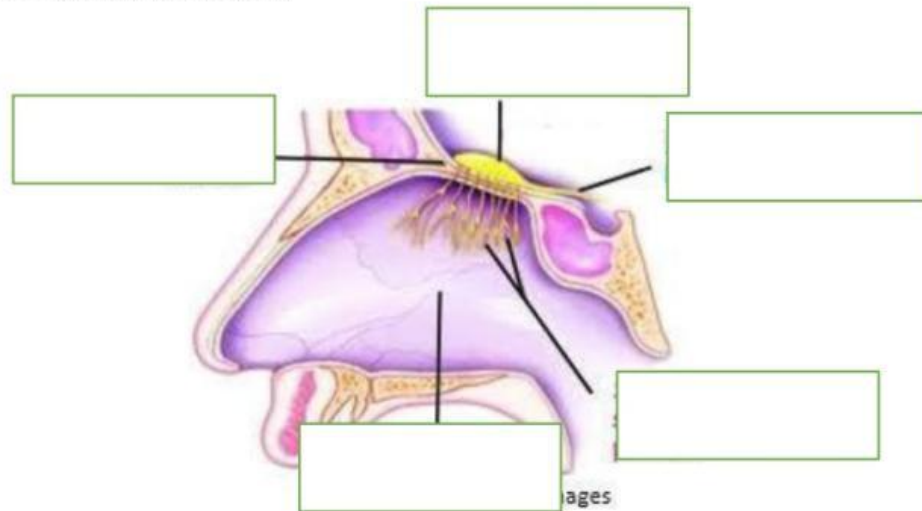
Jawaban :

2. Sebutkan penyakit dan gejala pada sistem indra penglihatan!

No	Penyakit	Gejala
1.		
2.		
3.		

## B. Indra Pembau

1. Perhatikan gambar berikut !



Sebutkan bagian pada gambar tersebut dan jelaskan fungsinya!

Jawaban :

2. Sebutkan penyakit dan gejala pada sistem indra pembau!

No	Penyakit	Gejala
1.		
2.		
3.		

### C. Indra Pengecap

1. Perhatikan gambar berikut !



Sebutkan bagian pada gambar tersebut dan jelaskan fungsinya!

Jawaban :

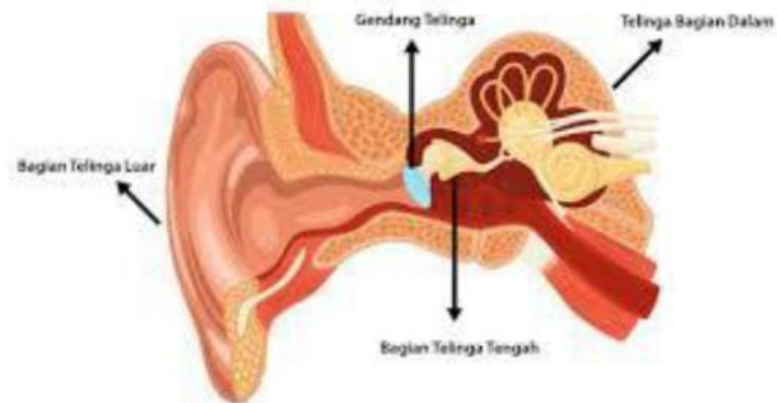
2. Sebutkan penyakit dan gejala pada sistem indra pengecap!

No	Penyakit	Gejala
1.		
2.		
3.		



#### D. Indra Pendengar

1. Perhatikan gambar berikut !



Sebutkan bagian pada gambar tersebut dan jelaskan fungsinya!

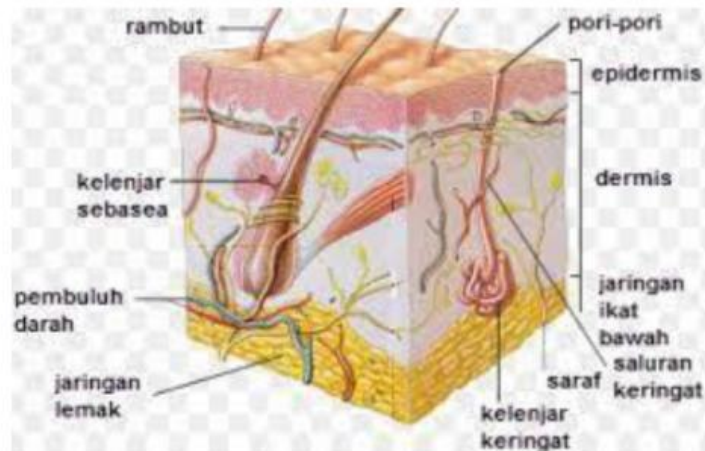
Jawaban :

2. Sebutkan penyakit dan gejala pada sistem indra pendengar!

No	Penyakit	Gejala
1.		
2.		
3.		

## E. Indra Peraba

3. Perhatikan gambar berikut !



Sebutkan bagian pada gambar tersebut dan jelaskan fungsinya!

Jawaban :

4. Sebutkan penyakit dan gejala pada sistem indra peraba!

No	Penyakit	Gejala
1.		
2.		
3.		