

Nama : _____
Kelas : _____
No. Absen : _____

A. Pengetahuan

1. Perhatikan gambar



Gambar diatas merupakan peraga gerakan

- A. Melempar bola ke atas
- B. Melempar bola melambung
- C. Melempar bola meyusur tanah
- D. Melempar bola mendatar

2. Perhatikan gambar



Gambar di atas merupakan alat pemukul dalam permainan

- A. Bola Kasti
- B. Bola Voli
- C. Bola Basket
- D. Bola Tennis

3. Perhatikan gambar



Gambar diatas merupakan peraga gerakan

- A. Melempar
- B. Menangkap
- C. Mendorong
- D. Memukul

4. Perhatikan gambar



Gambar di atas merupakan gerakan melempar bola.....

- A. Melambung
- B. Menyusur Tanah
- C. Mendatar
- D. Mengapung


5. Perhatikan gambar



Gambar di atas merupakan bola yang dapat digunakan untuk permainan.....

- A. Bola Basket
- B. Bola Voli
- C. Bola Futsal
- D. Bola Kasti

6. Perhatikan gambar

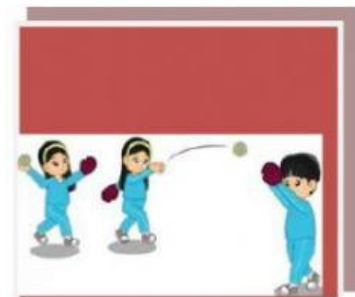



Gambar di atas merupakan peraga gerakan.....

- A. Melempar ke tembok
- B. Melempar ke atas
- C. Melempar ke bawah
- D. Melempar jauh

7. Lebar lapangan bola kasti...
- a. 10 m
 - b. 20 m
 - c. 40 m
 - d. 30 m
8. Panjang tongkat pemukul bola kasti...
- a. 50-60 cm
 - b. 60-70 cm
 - c. 70-80 cm
 - d. 80-90 cm
9. Jumlah pemain bola kasti masing-masing tim...
- a. 11
 - b. 12
 - c. 13
 - d. 14
10. Permainan tradisional beregu yang dilakukan dengan cara memukul dan menangkap bola adalah...
- a. Bola kasti
 - b. Bola Basket
 - c. Bola Voli
 - d. Bola tangan

II. Soal Drop and drag



1 Lemparan menyusuri tanah

2 Lemparan lambung

3 Lemparan datar

4. Tangkapan datar

5. Tangkapan lambung

6. Tangkapan menyusuri tanah

III Soal Menjodohkan Tariklah garis pada kotak yang memuat jawaban yang benar !

1.



Tenis Meja

2.



Bulutangkis

3.



Golf

4.



Bola Kasti