

LEMBAR KERJA PESERTA DIDIK


Traslasi



Untuk memahami materi Translasi putar video berikut




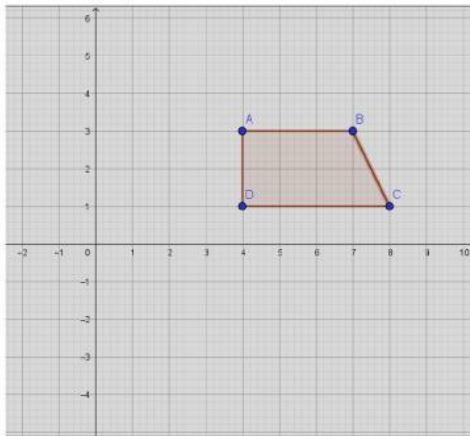
Simulasi Translasi (untuk lebih Memahami Translasi simulasikan/praktekan) Translasi berikut



Setelah memperhatikan video dan simulasi diatas jawablah pertanyaan berikut

1. Perhatikan Gambar berikut! Jika gambar warna merah adalah bayangan manakah gambar berikut yang merupakan hasil translasi pada gambar berikut





2. Trapezium ABCD di translasikan oleh $(-2, 2)$ tentukan

Titik Benda	Bayangan Benda
A (..., ...)	A' (....., ...)
B (...,	B' (.... ,
C (..., ...)	C' (....., ...)
D (.....,	D' (.....,

Selamat Bekerja