








# FIGURAS PLANAS

Nombre:

|   | ¿Qué figura es? | ¿Cuál es su perímetro? |
|---|-----------------|------------------------|
| <br>Uno de sus lados mide 11cm   |                 |                        |
| <br>Uno de sus lados mide 42cm   |                 |                        |
| <br>Uno de sus lados mide 2cm    |                 |                        |
| <br>Uno de sus lados mide 22cm |                 |                        |
| <br>Uno de sus lados mide 15cm |                 |                        |
| <br>Uno de sus lados mide 9cm  |                 |                        |
| <br>Uno de sus lados mide 33cm |                 |                        |

