

Nama :

Kelas :

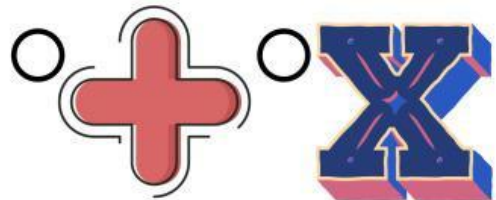
MATEMATIKA

Ceklislah jawaban yang benar !

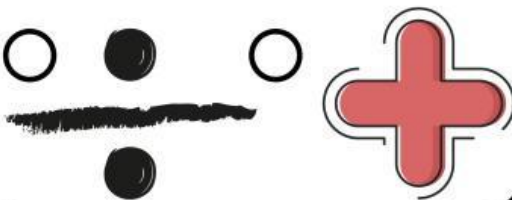
1. Manakah Simbol Pengurangan...



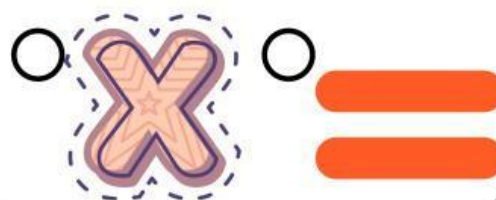
2. Manakah Simbol Perkalian...



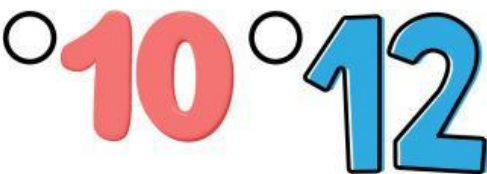
3. Manakah Simbol Penjumlahan...



4. Manakah Simbol Sama dengan...



5. Manakah Hasil Dari Perkalian 2×5 ?



6. Manakah Hasil dari Penjumlahan $20 + 5$?



7. Manakah Hasil Dari Pengurangan $20 - 15$?...



8. Manakah Hasil dari 5×3 ?

