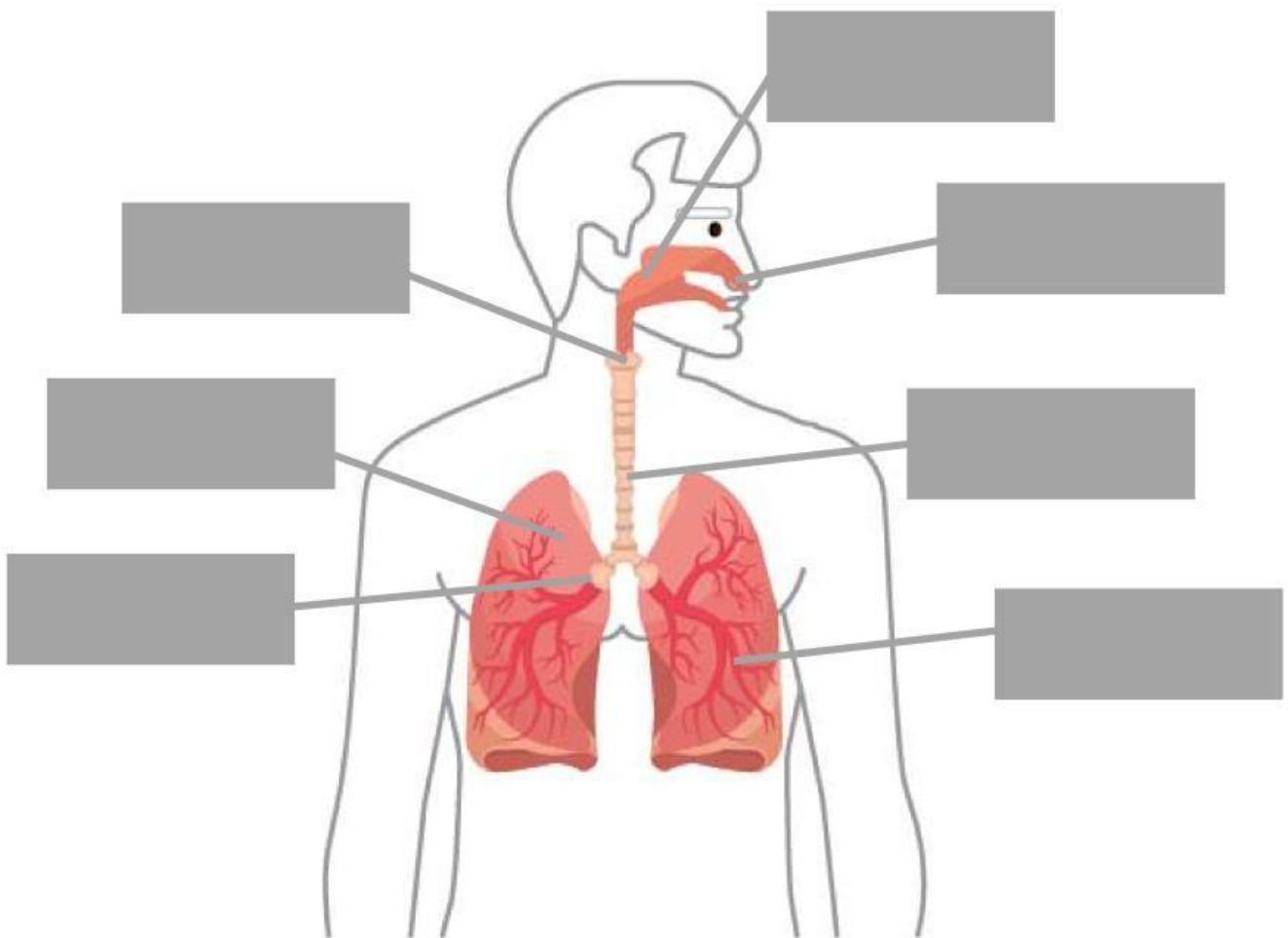


# Lembar Kerja Peserta Didik (LKPD)

Kelompok:

## Sistem Pernapasan Manusia

Lengkapi nama organ pernapasan sesuai dengan gambar yang ditunjuk!



# Sistem Pernapasan Manusia

Tuliskan nama serta fungsi setiap organ berdasarkan gambar yang ditunjukkan.



\_\_\_\_\_

Fungsi:



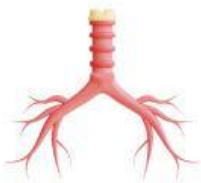
\_\_\_\_\_

Fungsi:



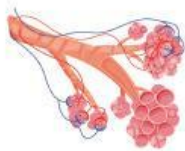
\_\_\_\_\_

Fungsi:



\_\_\_\_\_

Fungsi:



Fungsi:



Fungsi:

**Baca paragraf berikut ini, lalu diskusikan dengan kelompokmu. Setelah itu, tuliskan jawabannya pada kolom yang telah disediakan**

Polusi udara berasal dari asap kendaraan, pabrik, dan pembakaran sampah. Udara kotor dapat masuk ke sistem pernapasan manusia dan menyebabkan penyakit seperti asma atau bronkitis. Oleh karena itu, menjaga kebersihan udara sangat penting untuk kesehatan paru-paru kita. Beberapa cara yang dapat dilakukan adalah menanam pohon, mengurangi penggunaan kendaraan bermotor, dan membuang sampah pada tempatnya.

**1. Sebutkan dua dampak polusi udara terhadap sistem pernapasan manusia.**

**2. Tuliskan tiga cara untuk menjaga udara tetap bersih!**

