

LUAS SEGIEMPAT

NAMA :

KELAS :

MARI BERLATIH SOAL LUAS SEGIEMPAT



Pertanyaan :

- 1 Hila senang bermain catur ketika sedang berkunjung ke rumah pamannya.



Gambar diatas merupakan papan catur miliki pamannya.
Berapa luas papan catur tersebut?

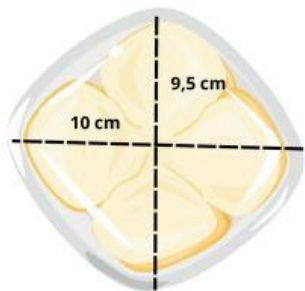
- 2 Yade ingin mengganti pelindung layar HPnya karena sudah pecah. Berikut ini ukuran Hp Yade.



Berapakah luas dari pelindung layar HP Yade?

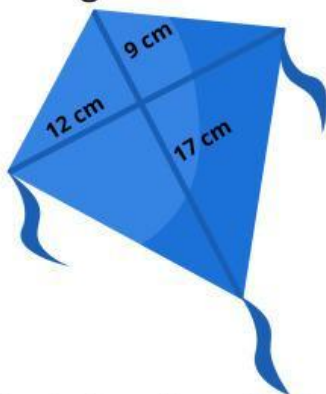


- 3 Dimas memiliki roti seperti gambar berikut.



Dimas ingin menambahkan topping ke atas roti tersebut. Untuk mengetahui banyak topping, apa yang dilakukan Dimas? Berapa luas daerah yang diberi topping Dimas?

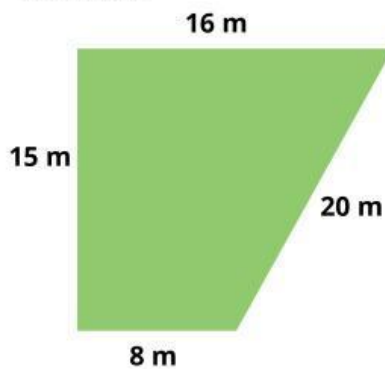
- 4 Penjual mainan ingin membuat layang-layang warna baru sebagai berikut.



Tentukan luas kertas yang dihabiskan untuk membuat layang-layang tersebut!



- 5 Pak Susanto ingin membuat taman dengan ukuran sebagai berikut



Diatas taman tersebut akan diberi atap plastik karena akan dibuat beberapa tanaman hidroponik di taman tersebut. Berapa luas plastik tersebut?

- 6 Apabila nomor 5 dibentuk menjadi jajargenjang dengan tinggi dan sisi alasnya sama seperti sisi atas trapesium, apakah luasnya lebih besar daripada luas taman dengan bentuk trapesium?

