

# LEMBAR KERJA

## PESERTA DIDIK

NAMA :

KELAS :


### AYO KITA JAWAB

Tentukan nilai tempat dari bilangan 57!

- A. 5 puluhan dan 7 satuan
- B. 7 puluhan dan 5 satuan
- C. 5 ratusan dan 7 satuan
- D. 7 ratusan dan 5 puluhan



### AYO KITA JAWAB



Perhatikan gambar di atas!

Ibu membawa 5 anggur. Lalu ayah menambahkan 3 anggur dan kakak memberikan lagi 7 anggur. berapakah jumlah jeruk sekarang?



- A. 15
- B.  $5 + 3 + 7$
- C.  $13 + 2$
- D. 12

## AYO KITA JAWAB

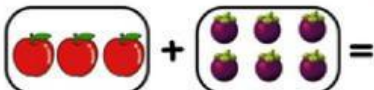
Sebuah pizza yang dipotong menjadi 2 bagian sama besar



Nilai tempat pada bilangan 68 adalah.....

Urutkan bilangan berikut dari yang terkecil ke yang terbesar  
20, 12, 5, 33, 40

3 apel + 6 manggis =




6 puluhan dan 8 satuan


5,12,20,33,40

setengah

9

8 puluhan dan 6 satuan





## AYO KITA JAWAB

Bacalah setiap pernyataan dengan cermat. Tulislah Benar jika pernyataan sesuai, dan Salah jika tidak sesuai.

Pernyataan	Benar	Salah
bilangan 87 terdiri dari 8 pada nilai puluhan dan 7 pada nilai satuan		
Nilai tempat angka 5 pada bilangan 56 adalah satuan.		
Arsha mempunyai berat badan 30kg, kenzi 40kg, dan febri 35 kg. Urutan berat badan dari yang terberat ke yang terkecil adalah kenzi 40kg, febri 35kg, dan arsha 30kg.		
Nilai tempat dari 72 adalah 7 puluhan dan 2 satuan.		
Bilangan 58 lebih kecil dari 49.		