




Lembar Kerja Peserta Didik

LKPD

Penjumlahan Bilangan Pecahan



Nama Kelompok :

Kelas :

TUJUAN :



Melalui kegiatan kerja kelompok peserta didik mampu melakukan operasi penjumlahan pecahan dengan teliti

PETUNJUK UMUM:











- 1 . Berdoa terlebih dahulu sebelum mengerjakan soal**
- 2 . isi identitas yang sudah disediakan pada halaman pertama**
- 3 . Kerjakan soal dengan teliti**
- 4 . Setelah selesai Klik tombol “finish” untuk mengirim jawaban**

PETUNJUK KEGIATAN :

- 1 . Baca soal dengan teliti dan pahami apa yang ditanyakan.**
- 2. Daerah yang di arsir bewarna “Ungu”**
- 3. Jika penyebutnya berbeda, carilah KPK nya terlebih dahulu**
- 4. ketiklah jawaban di kolom yang telah disediakan**
- 5. Setelah selesai Klik tombol “finish” untuk mengirim jawaban**



GOOD LUCK

No	Soal dan Jawaban
1.	 +  =
2.	 +  =
3.	 +  =
4.	 +  =
5.	 +  =