

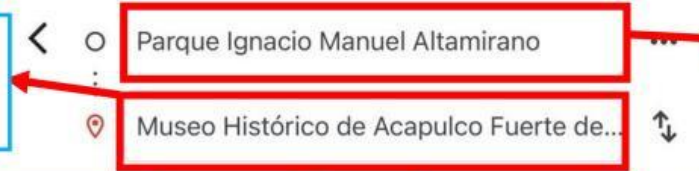


Muévete con Google Maps



I. Selecciona la respuesta correcta, ¿qué significan las partes señaladas?

a) Punto de partida.
b) Punto de llegada.

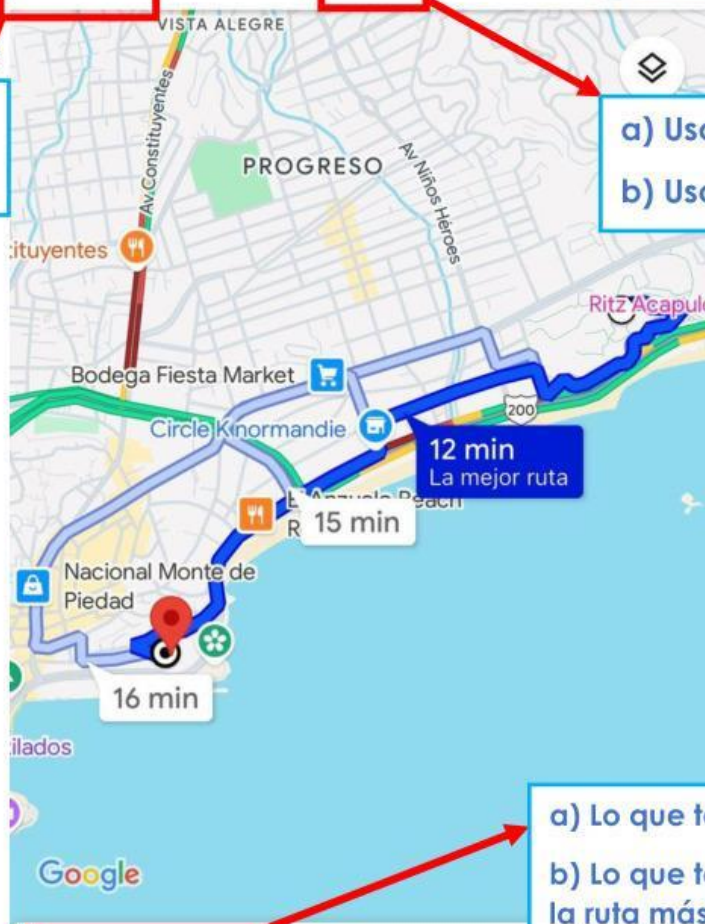


a) Punto de partida.
b) Punto de llegada.

a) Uso de taxi.
b) Uso de tu coche.



a) Uso de taxi.
b) Uso de transporte público.



a) Lo que tardas en ir en bicicleta.
b) Lo que tardas en ir en coche por la ruta más larga.
c) Lo que tardas en ir en coche por la ruta más corta.

12 min (3.2 km)
Mucho tráfico · Subida moderada

>> Vista previa

+ Agregar paradas

✓ Más info

del vehículo



II. Observa la siguiente imagen y responde las siguientes preguntas:

¿De dónde sales?

- a) El Caldero Wizard's Coffee
- b) La Quebrada acantilados

¿A dónde quieres ir?

- a) El Caldero Wizard's Coffee
- b) La Quebrada acantilados

¿Cuánto tiempo tardas en coche en llegar a tu destino?

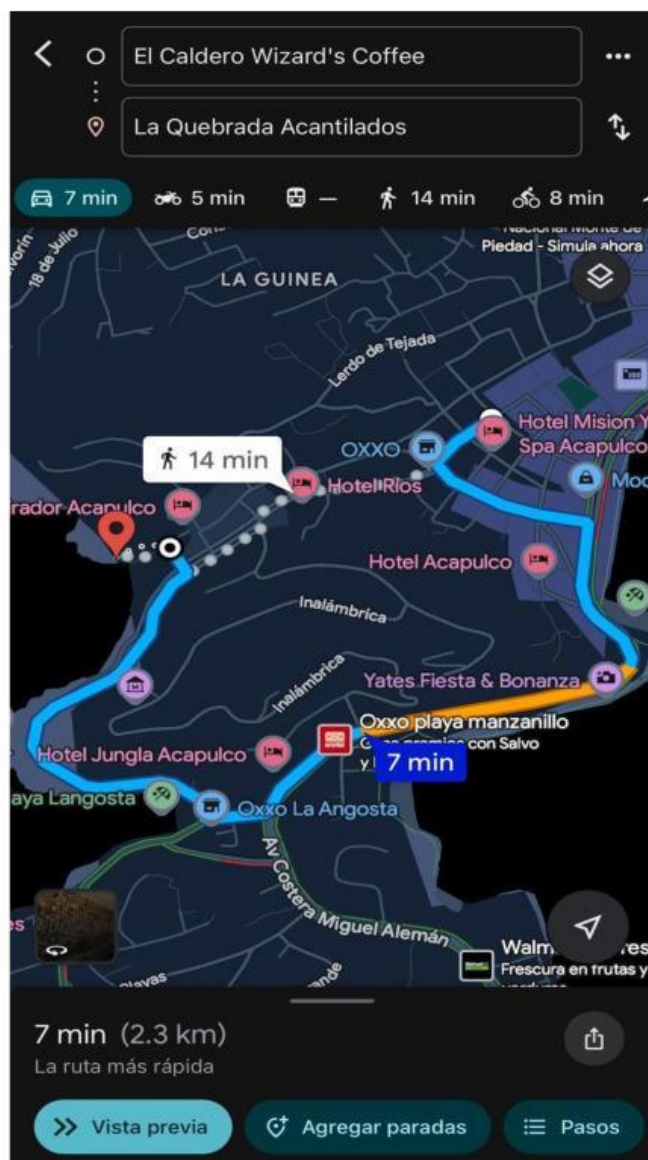
- a) 14 minutos
- b) 7 minutos

¿Cuántos kilómetros hay entre un punto y el otro?


- a) No lo marca la aplicación
- b) 2.3 kilómetros

¿Cuánto tardas en ir a pie por la ruta más corta?

- a) 14 minutos
- b) 7 minutos



Punto extra: ¿Qué lugar aparece al presionar AQUÍ?



Elegir icono del vehículo

