

# LKPD

Lembar Kerja Peserta Didik

Belajar Matematika Dasar



Nama : \_\_\_\_\_  
Kelas : \_\_\_\_\_

Nama: \_\_\_\_\_

Tanggal: \_\_\_\_\_

## Menghitung 1-10

Hubungkanlah dengan garis jumlah jari dan angka yang sesuai!



10



7



6



8









9

# MARI MENGHITUNG SERANGGA!



Hitung jumlah serangga sesuai kelompoknya!

					
3					

## Puzzle Matematika

Susunlah puzzle dibawah ini dengan jawaban yang benar pada tempatnya!

$10 + 8$	$16 - 4$	$15 - 8$	$7 + 9$
$18 - 5$	$12 - 7$	$10 + 10$	$20 - 1$
$5 + 3$	$6 + 5$	$9 - 6$	$13 - 4$

