



# LKPD

## KELAS 6A SD PELITA BANGSA NEGARA DI ENAM BENUA



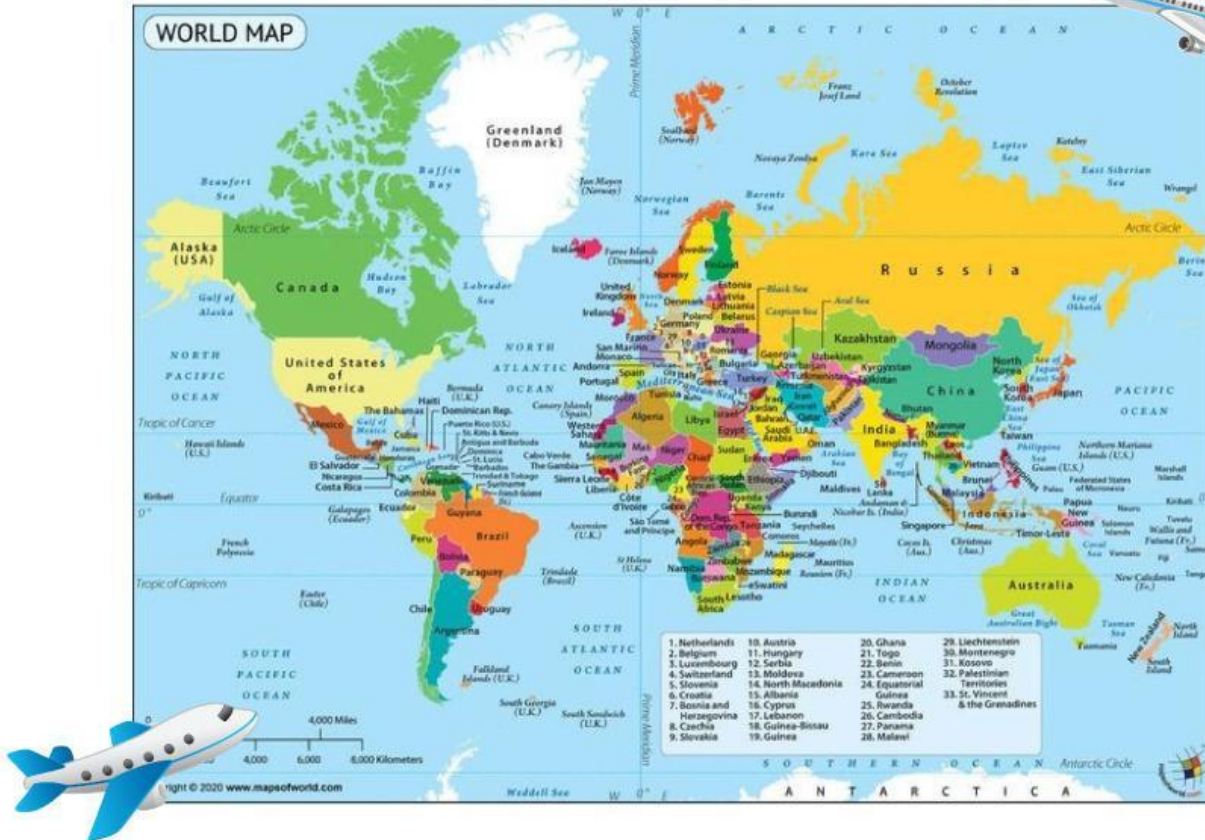
NAMA:.....

KELAS:.....

MATA PELAJARAN:.....

# BAB 3 PELESIR KELILING DUNIA

## TOPIK A: ENAM BENUA DI DUNIA



Pada bab ini, peserta didik akan belajar mengenai benua dan berbagai negara di dunia lewat membaca teliti informasi dari artikel, untuk lalu belajar dianalisis.

Tujuan Pembelajaran:

Peserta didik memahami pembagian enam benua di dunia, dapat menunjukkan letak keenam benua pada peta, dan dapat menyebutkan setidaknya 10 negara di seluruh dunia.



# BENUA

Benua adalah beberapa daratan yang wilayahnya sangat luas di permukaan bumi. Bumi mempunyai enam benua. Semuanya unik dan memiliki ciri khas masing-masing, seperti hewan, tumbuhan, iklim, dan budaya yang berbeda.



Untuk materi lebih lanjut, silakan kalian tonton video di bawah ini!



<https://www.youtube.com/watch?v=HxUqXizN4Xk>



# PRESENSI KEHADIRAN

Sebelum memulai pembelajaran, silakan kalian isi daftar hadir terlebih dahulu!

## PRESENSI KEHADIRAN

SD PELITA BANGSA  
KELAS 6A  
SELASA, 29 OKTOBER 2024

[Sign in to Google](#) to save your progress. [Learn more](#)

\* Indicates required question

Nama Lengkap \*

Your answer

Mata Pelajaran \*

- Bahasa Indonesia
- Bahasa Inggris
- Matematika
- IPAS
- Pendidikan Pancasila
- Seni Rupa

Keterangan \*

- Hadir
- Izin
- Sakit

Page 1 of 1

Submit

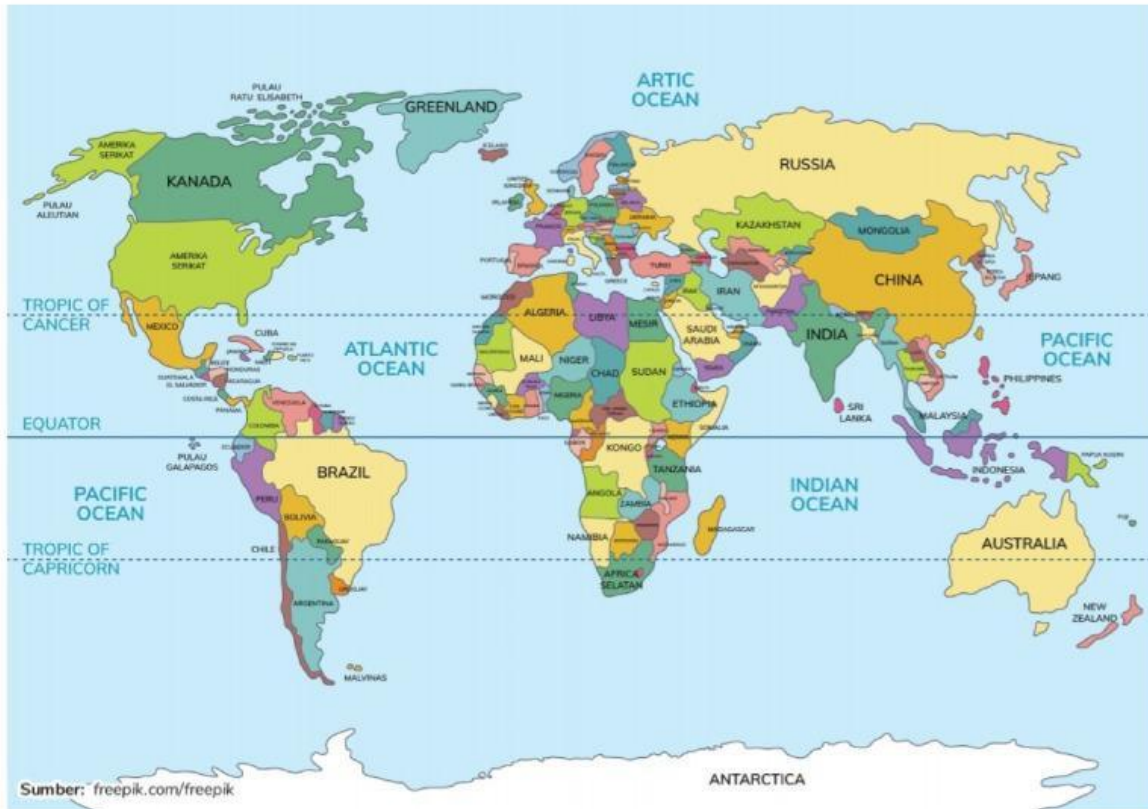
Clear form

<https://forms.gle/ewGAWxPyxSURJykN9>



# KEGIATAN 1

## Di Benua manakah rumah kalian?



Perhatikan Peta Dunia di atas! Dapatkah kalian menemukan di mana letak rumah kalian? Lengkapi tabel di bawah ini dengan menyebutkan nama benua, negara, provinsi, dan kota tempat kalian tinggal!

Benua	.....
Negara	.....
Provinsi	.....
Kota	.....



# KEGIATAN 2

Pada kegiatan 2 ini, coba kalian perhatikan Peta Benua di bawah ini. Lalu sebutkan nama benua dan isi bagian yang kosong pada tabel di bawah peta!

## Benua .....



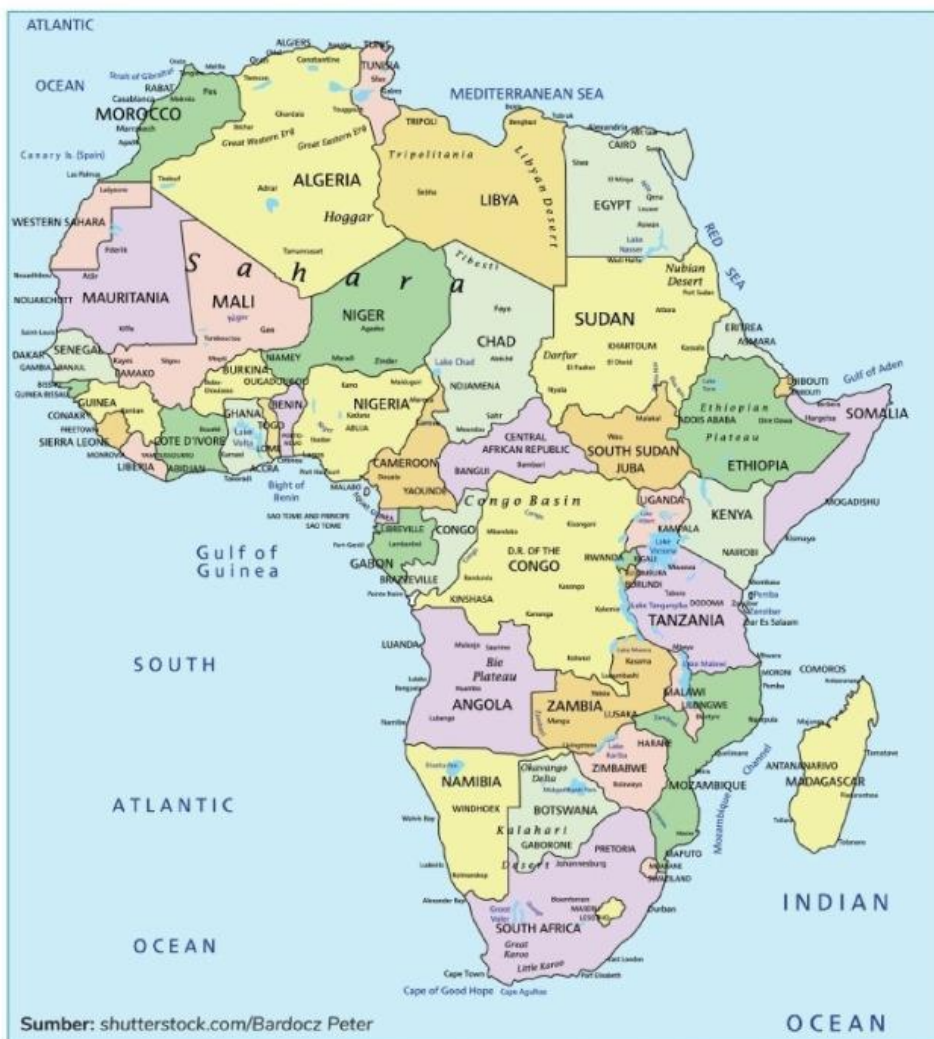
<p><b>Batas benua</b></p> <p>Utara: .....</p> <p>Timur: .....</p> <p>Selatan: .....</p> <p>Barat: .....</p>	<p>Luas wilayah: .....</p> <p>Pembagian wilayah: .....</p> <p>Jumlah negara: .....</p>
<p>Kenampakan alam populer</p> <p>Titik tertinggi: .....</p> <p>Danau terbesar: .....</p> <p>Sungai terpanjang: .....</p>	<p>Sebutkan minimal 3 nama negara!</p> <p>.....</p> <p>.....</p> <p>.....</p>

# Benua .....



<p><b>Batas benua</b></p> <p>Utara: .....</p> <p>Timur: .....</p> <p>Selatan: .....</p> <p>Barat: .....</p>	<p>Luas wilayah: .....</p> <p>Pembagian wilayah: .....</p> <p>Jumlah negara: .....</p>
<p>Kenampakan alam populer</p> <p>Titik tertinggi: .....</p> <p>Danau terbesar: .....</p> <p>Sungai terpanjang: .....</p>	<p>Sebutkan minimal 3 nama negara!</p> <p>.....</p> <p>.....</p> <p>.....</p> <p>.....</p>

# Benua .....



Sumber: shutterstock.com/Bardocz Peter

<p><b>Batas benua</b></p> <p>Utara: .....</p> <p>Timur: .....</p> <p>Selatan: .....</p> <p>Barat: .....</p>	<p>Luas wilayah: .....</p> <p>Pembagian wilayah: .....</p> <p>Jumlah negara: .....</p>
<p>Kenampakan alam populer</p> <p>Titik tertinggi: .....</p> <p>Danau terbesar: .....</p> <p>Sungai terpanjang: .....</p>	<p>Sebutkan minimal 3 nama negara!</p> <p>.....</p> <p>.....</p> <p>.....</p>



# Benua .....



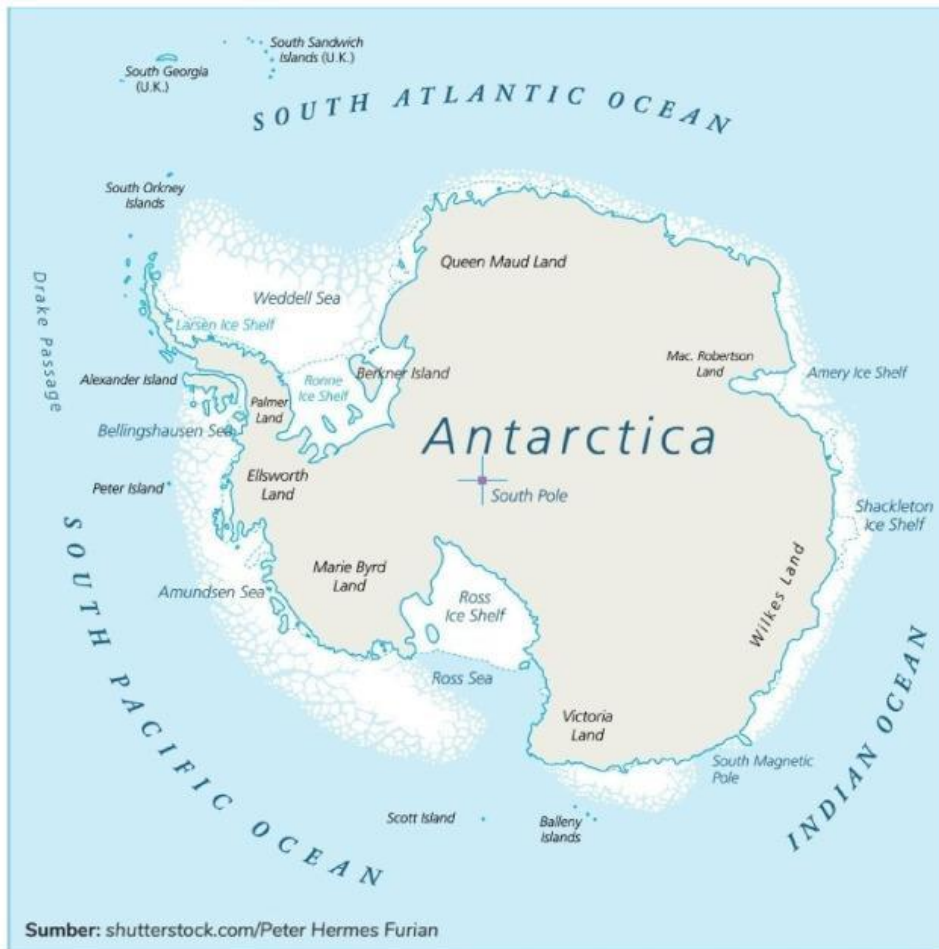
<p><b>Batas benua</b></p> <p>Utara: .....</p> <p>Timur: .....</p> <p>Selatan: .....</p> <p>Barat: .....</p>	<p><b>Luas wilayah:</b> .....</p> <p>.....</p> <p><b>Pembagian wilayah:</b> .....</p> <p>.....</p> <p><b>Jumlah negara:</b> .....</p> <p>.....</p>
<p><b>Kenampakan alam populer</b></p> <p>Titik tertinggi: .....</p> <p>.....</p> <p>Danau terbesar: .....</p> <p>.....</p> <p>Sungai terpanjang: .....</p> <p>.....</p>	<p><b>Sebutkan minimal 3 nama negara!</b></p> <p>.....</p> <p>.....</p> <p>.....</p> <p>.....</p>

# Benua .....



<p><b>Batas benua</b></p> <p>Utara: .....</p> <p>Timur: .....</p> <p>Selatan: .....</p> <p>Barat: .....</p>	<p><b>Luas wilayah:</b> .....</p> <p>.....</p> <p><b>Pembagian wilayah:</b> .....</p> <p>.....</p> <p><b>Jumlah negara:</b> .....</p> <p>.....</p>
<p><b>Kenampakan alam populer</b></p> <p>Titik tertinggi: .....</p> <p>.....</p> <p>Danau terbesar: .....</p> <p>.....</p> <p>Sungai terpanjang: .....</p> <p>.....</p>	<p><b>Sebutkan minimal 3 nama negara!</b></p> <p>.....</p> <p>.....</p> <p>.....</p> <p>.....</p>

# Benua .....



<p><b>Batas benua</b></p> <p>Utara: .....</p> <p>Timur: .....</p> <p>Selatan: .....</p> <p>Barat: .....</p>	<p><b>Luas wilayah:</b> .....</p> <p><b>Pembagian wilayah:</b> .....</p> <p><b>Jumlah negara:</b> .....</p>
<p>Kenampakan alam populer</p> <p>Titik tertinggi: .....</p> <p>Danau terbesar: .....</p> <p>Sungai terpanjang: .....</p>	<p>Sebutkan minimal 3 nama negara!</p> <p>.....</p> <p>.....</p> <p>.....</p> <p>.....</p>



## REFLEKSI DIRI

Setelah mengerjakan 2 kegiatan di atas. Coba simpulkan apa yang telah kalian pelajari. Isi kesimpulan pada kolom di bawah ini.



Selanjutnya untuk mengetahui apakah kalian sudah paham atau masih ada kebingungan, ayo beri warna pada bentuk lingkaran di bawah ini!



Keterangan warna:



: Sudah paham



: Belum paham

## HASIL KERJA PESERTA DIDIK



Nilai:

Catatan:



**Kamu adalah bintang yang bercahaya di dunia pendidikan. Tetap semangat karena setiap usahamu di kelas akan membawa hasil yang berharga.**

LKPD disusun oleh Indri Eka Lestari (1D-PGSD)