

Berdasarkan ukuran



kelompokkan sesuai ukuran

**Kecil**



**Besar**




# ayo berlatih


Lingkari jawaban yang benar



Bangun yang satu kelompok dengan gambar di atas.



Bangun yang satu warna dengan gambar di atas.



Bangun yang satu ukuran dengan gambar di atas.



## C. Menyusun dan Mengurai Bentuk Bangun

Gabungkan dua segitiga yang sama.  
Bentuk apa yang kalian temukan?



Dua segitiga yang sama besar




Segiempat



Segitiga




# Membentuk Bangun Datar





Dua buah segitiga



Segiempat




Segitiga

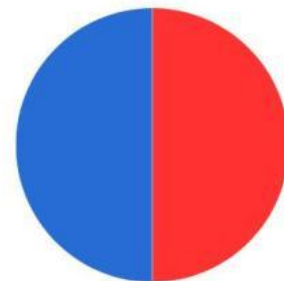


Dua buah kotak

Persegi panjang



Dua buah setengah lingkaran




Lingkaran

Dua bangun datar dapat digabungkan.

# ayo berlatih

Hitunglah banyaknya bentuk bangun pada gambar berikut.



☐ Ada berapa bentuk lengkung =


☐ Ada berapa bentuk segi empat =

☐ Ada berapa bentuk segitiga =

# Kita bisa mengelompokkan benda berdasarkan bentuknya.




Segi empat



Jendela



Dadu



Rubik



Segi empat



Papan tulis



Buku



Pintu

# Kita bisa mengelompokkan benda berdasarkan bentuknya.



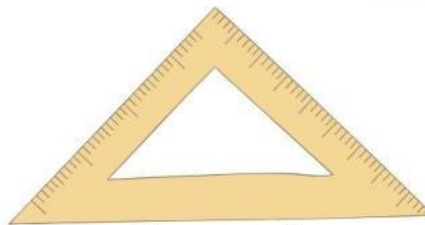
Segitiga



Semangka



Piramida



Penggaris



Lengkung



Jam dinding




Donat



Jeruk




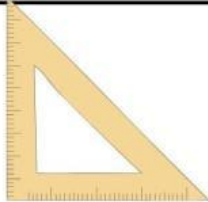



Pasangkan yang bentuknya sama.











## B. Mengelompokkan Benda

Kita bisa mengelompokkan benda berdasarkan bentuk, warna, dan ukuran

berdasarkan bentuk		
segi empat	Segitiga	lengkung
		
		

berdasarkan warna	
Merah	Coklat
	
	
	

# LKPD

# MATEMATIKA

Mengenal Bentuk

Untuk Kelas 1 Sekolah Dasar



+ Disusun oleh : **ABDUL HALIM**

**Mari kita mengenal berbagai  
Bentuk benda**

**Mengenal  
bentuk**

**A.  
Mendeskripsikan  
Benda  
Berdasarkan  
Bentuk**

**B.  
Mengelompokkan  
Benda**

**C.  
Menyusun  
dan Mengurai  
Bentuk Bangun**




# A. Mendeskripsikan Benda Berdasarkan Bentuk

**Berikut adalah berbagai bentuk bangun**

**Bentuk lengkung**



**Bentuk segitiga**



**Bentuk segiempat**

