

Sistem Pemerintahan dan Kegiatan Ekonomi Masyarakat Kerajaan Alam Melayu

BAHAGIAN A Soalan Objektif

Jawab semua soalan.

24 Sistem Pemerintahan

- 1 Pernyataan berikut berkaitan dengan gelaran yang digunakan oleh pemerintah kerajaan di Alam Melayu.

Pemerintah Alam Sejagat

Apakah istilah yang sesuai digunakan dengan pernyataan tersebut? BUKU TEKS m.s.26

- A Kurung Bnam
B Cakravatin
C Rajadhiraja
D Dewa Siva

- 2 Gelaran berikut diguna pakai oleh pemerintah kerajaan Funan. BUKU TEKS m.s.26

Kurung Bnam

Apakah maksud istilah tersebut?

- A Raja gunung
B Penjaga kerajaan
C Raja segala raja
D Alam sejagat

- 3 Senarai berikut berkaitan dengan sistem pemerintahan dan pentadbiran kerajaan Funan. BUKU TEKS m.s.26

- Pentadbiran pusat
- Pentadbiran wilayah

Pentadbiran wilayah ditadbir oleh _____.

- A permaisuri
B putera raja
C brahmin
D datu

- 4 Berapakah bilangan wilayah yang terdapat dalam kerajaan Funan? BUKU TEKS m.s.26

- A Lima buah
B Enam wilayah
C Tujuh wilayah
D Sembilan wilayah

- 5 Apakah gelaran yang digunakan oleh ketua wilayah kerajaan Funan? BUKU TEKS m.s.26

- A Kauthara
B Raja Kecil
C Pradatuan
D Panduranga

- 6 Inskripsi berikut telah dihasilkan oleh masyarakat kerajaan Srivijaya. BUKU TEKS m.s.26



Apakah kandungan inskripsi tersebut?

- A Sistem pemerintahan
B Kegiatan ekonomi
C Penyebaran agama
D Keselamatan wilayah

- 7 Antara berikut, yang manakah merupakan pentadbir wilayah Kedatuan dalam kerajaan Srivijaya? BUKU TEKS m.s.26

- A Datu
B Yuvaraja
C Rajakumara
D Pratiyuvaraja

- 8 Apakah kerajaan awal yang melaksanakan sistem pemerintahan dan pentadbiran berikut? BUKU TEKS m.s.26

- Indrapura
- Amaravati
- Vijaya

- A Kerajaan Funan
B Kerajaan Champa
C Kerajaan Srivijaya
D Kerajaan Angkor

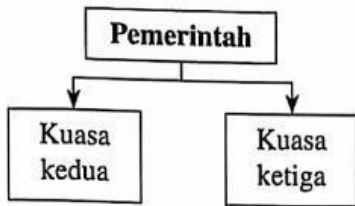
- 9 Golongan berikut wujud dalam sistem pemerintahan kerajaan awal di Alam Melayu.

Sapta Prabu

Pilih padanan jawapan yang betul berkaitan dengan sistem tersebut. BUKU TEKS m.s.27

	Kerajaan	Peranan
A	Funan	Memajukan ekonomi
B	Champa	Menyebarkan agama
C	Majapahit	Majlis Penasihat Diraja
D	Kedah Tua	Majlis Keamanan

- 10 Rajah berikut berkaitan dengan sistem pemerintahan yang dilaksanakan oleh kerajaan Angkor. (BUKU TEKS ms. 27)



Apakah kuasa kedua dan kuasa ketiga tersebut?

- I Bangsawan
 II Pembesar
 III Permaisuri
 IV Raja Muda
 A I dan II C II dan III
 B I dan IV D III dan IV

- 11 Wilayah-wilayah berikut wujud dalam sistem pentadbiran kerajaan di Alam Melayu. (BUKU TEKS ms. 27)

- Kabupaten
- Kawadanan
- Pakuwuan

Pentadbiran tersebut dilaksanakan oleh kerajaan _____.

- A Gangga Nagara
 B Kedah Tua
 C Majapahit
 D Srivijaya

- 12 Rajah berikut berkaitan dengan perubahan pentadbiran kerajaan di Alam Melayu. (BUKU TEKS ms. 27)



Apakah kerajaan X?

- A Kerajaan Funan
 B Kerajaan Majapahit
 C Kerajaan Kedah Tua
 D Kerajaan Angkor

- 13 Golongan wanita turut diberikan kedudukan yang tinggi dalam pentadbiran kerajaan. (BUKU TEKS ms. 27)

Kedudukan tersebut dilakukan oleh kerajaan _____.

- A Champa
 B Kedah Tua
 C Majapahit
 D Angkor

22 Kegiatan Ekonomi

- 14 Jawatan berikut telah diwujudkan dalam kalangan masyarakat di Alam Melayu.

Ketua Air

Jawatan tersebut dilaksanakan oleh _____.

- A Kerajaan Majapahit
 B Kerajaan Srivijaya
 C Kerajaan Champa
 D Kerajaan Angkor

- 15 Apakah tanaman utama yang diusahakan oleh masyarakat Srivijaya? (BUKU TEKS ms. 29)

- A Bunga cengkih
 B Lada hitam
 C Buah pala
 D Padi

- 16 Gambar berikut merujuk kepada tanaman buah pala. (BUKU TEKS ms. 29)



Tanaman tersebut diusahakan oleh masyarakat di _____.

- A Pulau Jawa
 B Pulau Banda
 C Pulau Borneo
 D Pulau Sumatera

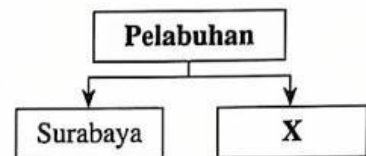
- 17 Apakah peranan 'daik' kepada masyarakat kerajaan awal di Alam Melayu? (BUKU TEKS ms. 27)

- A Mengelakkan banjir
 B Menghalang serangan musuh
 C Menyimpan barang dagangan
 D Memajukan kawasan perlombongan

- 18 Antara berikut, yang manakah barang dagangan yang terdapat di pelabuhan Gangga Nagara? (BUKU TEKS ms. 30)

- A Bijih timah
 B Gading gajah
 C Rumpai laut
 D Gaharu

- 19 Rajah berikut berkaitan dengan pelabuhan kerajaan Majapahit. (BUKU TEKS ms. 30)



Apakah pelabuhan X?

- A Tuban
 B Palembang
 C Pangkalan
 D Maliti

- 20 Anda dilantik untuk menjawat jawatan berikut oleh kerajaan Srivijaya. (BUKU TEKS ms. 30)

Tuhan Vatakvurah

Apakah tanggungjawab anda?

- A Menyelia perdagangan
 B Mengetuai peperangan
 C Mengetuai keagamaan
 D Mentadbir wilayah

- 21 Antara berikut, apakah kerajaan awal yang mempunyai kaitan dengan Sungai Musi? (BUKU TEKS ms. 30)

- A Kerajaan Srivijaya
 B Kerajaan Kedah Tua
 C Kerajaan Majapahit
 D Kerajaan Angkor

22 Apakah barang dagangan yang dibawa oleh pedagang India ke pelabuhan Alam Melayu?

(BUKU TEKST ms. 31)

- A Emas
- B Karnelian
- C Gendang
- D Payung

23 Apakah persamaan barangan dagangan yang dibawa oleh pedagang-pedagang berikut di pelabuhan Alam Melayu?

(BUKU TEKST ms. 31)

- Pedagang Arab
- Pedagang Parsi

- A Sutera
- B Kayu wangi
- C Tembikar
- D Manik

24 Apakah kegunaan barangan berikut terhadap masyarakat kerajaan Alam Melayu?

(BUKU TEKST ms. 32)

Kapur barus

- A Bahan pewangi
- B Bahan kesihatan
- C Bahan makanan
- D Bahan hiasan

25 Apakah hasil galian yang diusahakan oleh masyarakat kerajaan Champa?

(BUKU TEKST ms. 35)

- A Perak
- B Bijih timah
- C Tembaga
- D Bijih bes

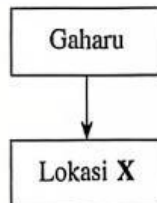
26 Apakah kawasan pengeluar utama kapur barus?

(BUKU TEKST ms. 31)

- A Sumatera
- B Tanah Melayu
- C Sungai Mekong
- D Pulau Jawa

27 Rajah berikut berkaitan dengan pengeluaran hasil hutan di Alam Melayu.

(BUKU TEKST ms. 31)



Apakah lokasi tersebut?

- A Borneo
- B Laut Sulu
- C Tanah Melayu
- D Pergunungan Hue

28 Apakah keistimewaan barangan berikut terhadap masyarakat kerajaan di Alam Melayu?

(BUKU TEKST ms. 32)

Gamat

- A Bahan kraf tangan
- B Bahan perhiasan
- C Bahan makanan
- D Bahan pewangi

29 Barangan berikut telah dihasilkan oleh masyarakat kerajaan awal di Alam Melayu.

(BUKU TEKST ms. 31)



Cuka kelapa

Apakah masyarakat kerajaan awal yang dimaksudkan?

- A Funan
- B Angkor
- C Champa
- D Srivijaya

30 Kegiatan ekonomi berikut telah dihasilkan oleh masyarakat Majapahit.

(BUKU TEKST ms. 31)

Membuat mi

Apakah bahan utama yang digunakan untuk barangan tersebut?

- A Sayur-sayuran
- B Sarang burung
- C Gandum
- D Beras