


Lembar Kerja Peserta Didik

(Bilangan Sampai Dengan 10)

MATEMATIKA
SD 1

Abc

$$1+3$$



A

B

NAMA :
KELAS :



MARI MENGENAL BILANGAN 1-10



1

SATU

ONE

6

ENAM

SIX

2

DUA

TWO

7

TUJUH

SEVEN

3

TIGA

THREE

8

DELAPAN

EIGHT

4

EMPAT

FOUR

9

SEMBILAN

NINE

5

LIMA

FIVE

10

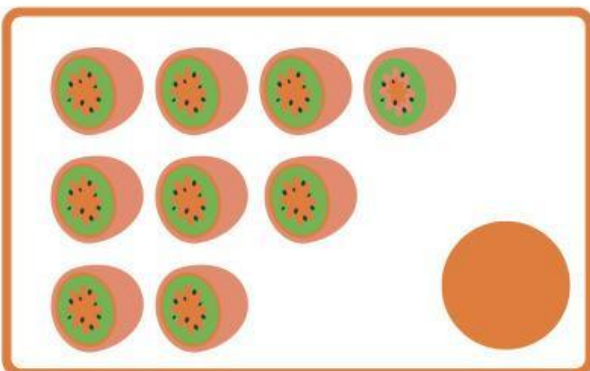
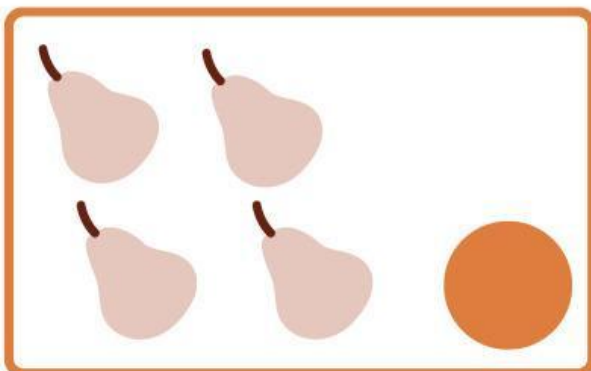



SEPULUH

TEN



Menghitung dari 1 sampai 10

Hitunglah ada berapa banyak buah-buahan dan tuliskan pada lingkaran yang tersedia!







MARI MENGHUBUGKAN



Tariklah Garis Untuk Menghubungkan Antara Buah-Buahan Dengan Angka Yang Benar!



5

3

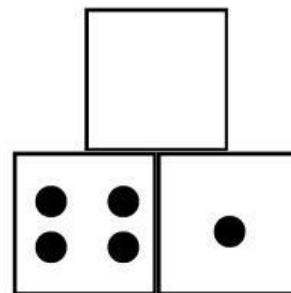
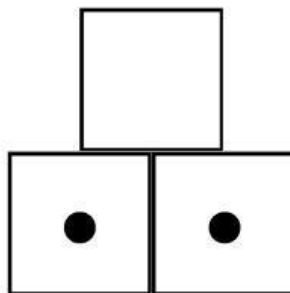

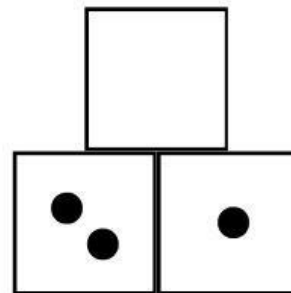
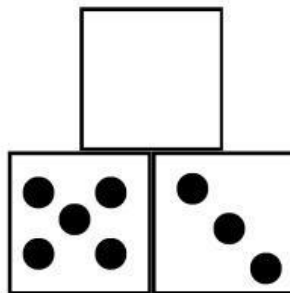
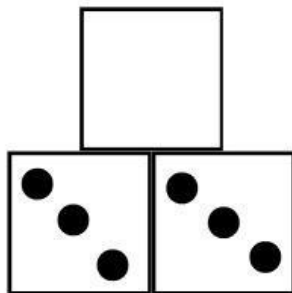
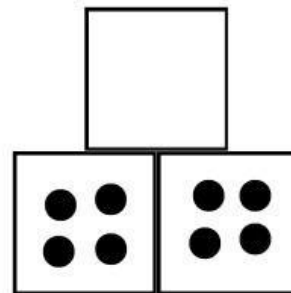
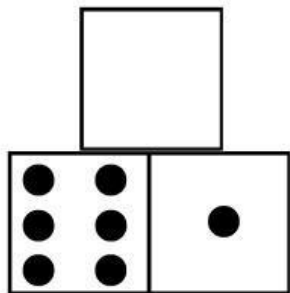
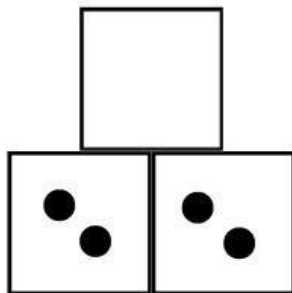

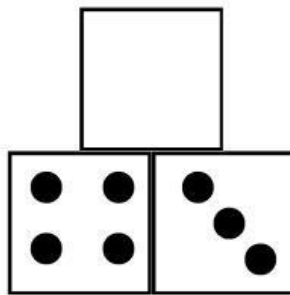

9

10

4

Ayo Berlatih!

Jumlahkan dadu yang ada di dalam kotak lalu masukan angka yang benar sesuai dengan contoh yang ada!





Mencari Kata



Temukan angka satu-sepuluh pada tabel di bawah ini !

T	U	J	U	H	S	B	T	G	A	T
I	N	H	I	T	E	A	I	A	R	P
G	A	C	D	W	M	E	N	A	M	A
O	L	F	F	A	C	M	A	C	I	N
M	I	E	G	M	A	P	B	D	A	A
B	B	T	T	I	G	A	E	C	M	S
A	M	B	D	L	A	T	U	B	H	B
D	E	L	A	P	A	N	A	S	U	U
E	S	E	P	U	L	U	H	A	S	M
M	I	N	Y	A	K	P	S	T	K	I
M	A	T	A	H	A	L	D	U	A	T



- Satu
- Dua
- Tiga
- Empat
- Lima
- Enam
- Tujuh
- Delapan
- Sembilan
- Sepuluh

