




# Lembar Kerja Peserta Didik

## AYO MEMBILANG SAMPAI DENGAN 10



Nama:

Kelas:





# LEMBAR KERJA PESERTA DIDIK 1

pasangkan lambang bilangan yang sesuai dengan namanya



Nol

Satu

Dua

Tiga

Empat

Lima

Enam

Tujuh

Delapan

Sembilan

Sepuluh

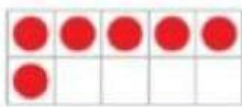




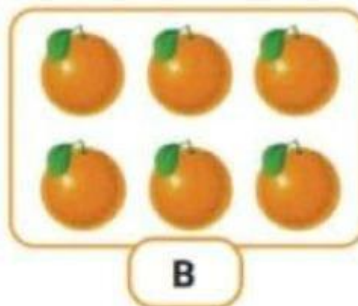
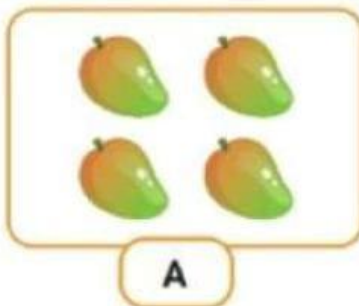
## LEMBAR KERJA PESERTA DIDIK 2

hitunglah banyak benda berikut  
dan tulis lambang bilangannya

1. Hitunglah banyak benda berikut.  
Tulis lambang bilangannya.




2.



Buah mana yang jumlahnya lebih banyak? \_\_\_\_\_

Buah mana yang jumlahnya lebih sedikit? \_\_\_\_\_

3. Lengkapi urutan bilangan berikut.



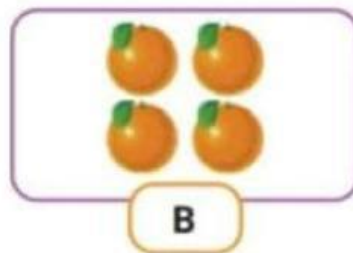
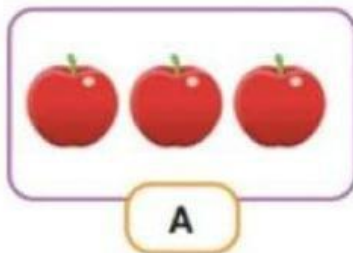


# LEMBAR KERJA PESERTA DIDIK 3



## bandingkan banyak benda

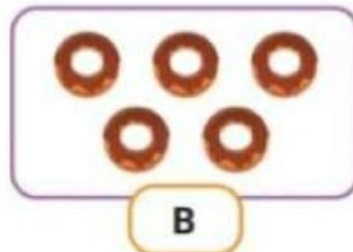
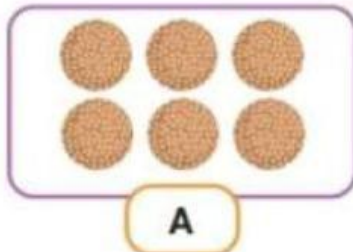
a



Benda mana yang jumlahnya lebih banyak? \_\_\_\_\_

Benda mana yang jumlahnya lebih sedikit? \_\_\_\_\_

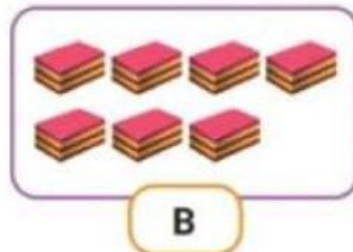
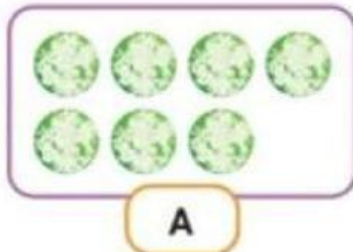
b



Benda mana yang jumlahnya lebih banyak? \_\_\_\_\_

Benda mana yang jumlahnya lebih sedikit? \_\_\_\_\_

c



Apakah jumlah benda pada kotak A dan B sama banyak? \_\_\_\_\_