

Sekolah Dasar
Kelas 6

LEMBAR KERJA PESERTA DIDIK



Perkembangbiakan
Makhluk Hidup

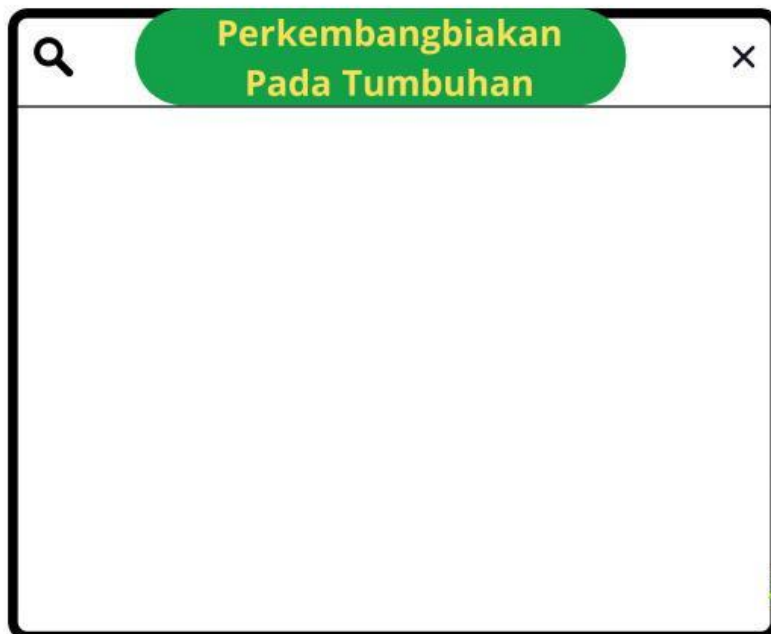
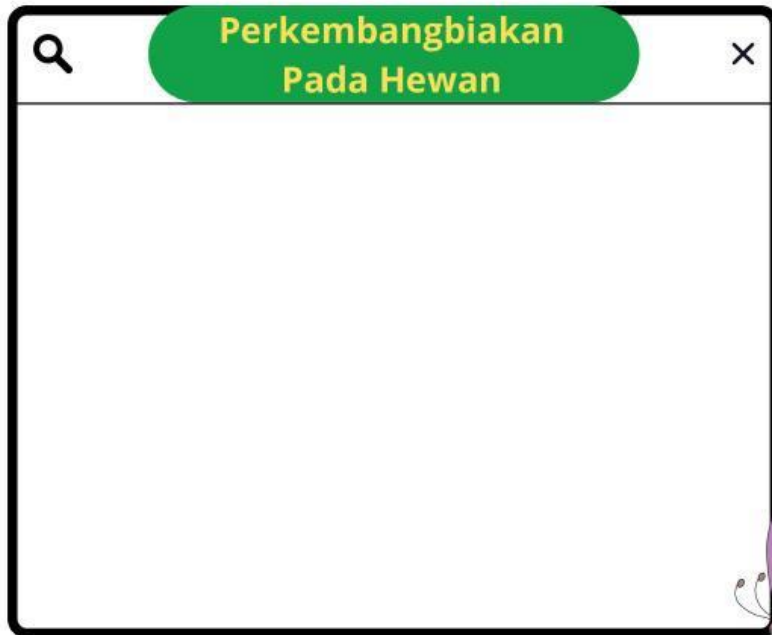


Nama :

Absen :

PERKEMBANGBIAKAN MAKHLUK HIDUP

Ayo simak video dibawah ini dengan baik yaa





Latihan Soal

1. Perkembangbiakan pada hewan dan tumbuhan memiliki 2 macam yaitu secara... dan ...

☐ Generatif dan Ovipar

☐ Vegetatif dan Bertelur

☐ Generatif dan Vegetatif

☐ Tunas dan Membelah diri

centang jawaban yang benar!

2. Perkembangbiakan hewan secara generatif ada 3 yaitu

☐ Ovipar

☐ Ovovivipar

☐ Vivipar

☐ Membelah Diri

3. Tumbuhan yang berkembang biak dengan cara menyetek batang, seperti pada tanaman mawar, adalah contoh perkembangbiakan secara?

☐ Vegetatif alami

☐ Generatif

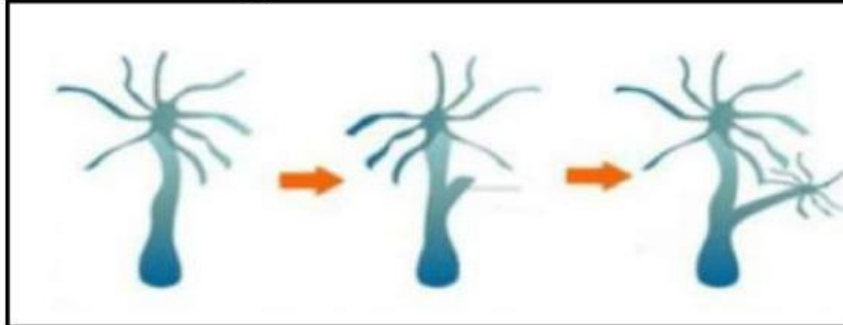
☐ Vegetatif buatan

☐ Generatif buatan



Latihan Soal

Perhatikan gambar ini!



4.gambar diatas merupakan hewan hydra yang berkembangbiakan dengan cara?

5.Perkembangbiakan tumbuhan secara vegetatif buatan biasanya dilakukan dengan cara

- | | |
|---|--|
| <input type="checkbox"/> Menyemai biji | <input type="checkbox"/> Menyetek batang tanaman |
| <input type="checkbox"/> Menyusun spora | <input type="checkbox"/> Menanam akar |

~Selesai~

Good Job!!! Terimakasih Telah mengerjakan latihan soal ini dengan sungguh-sungguh.

Penulis: Kadek Tristina Widyanti (2411021014)