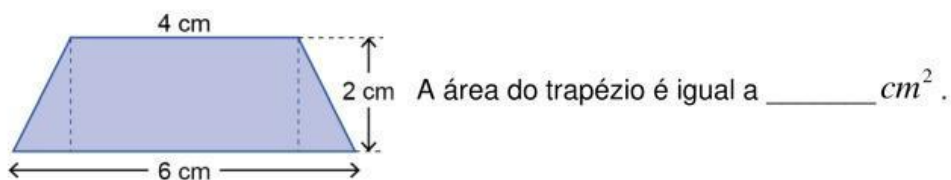
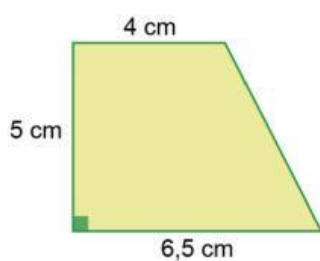


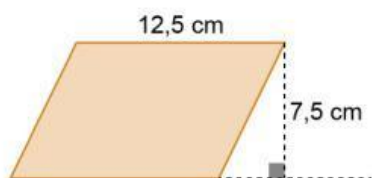
1. Na figura ao lado, $[ABCD]$ é um trapézio isósceles.



2. A área do trapézio representado na figura em baixo é _____ cm^2 .



3. A área do paralelogramo representado na figura em baixo é _____ cm^2 .



4. A figura em baixo é formada por um trapézio e por um retângulo.

