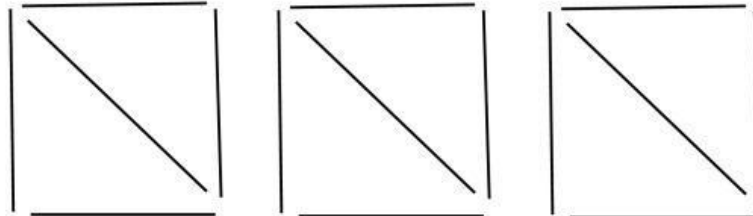


Preguntas con trucoo:

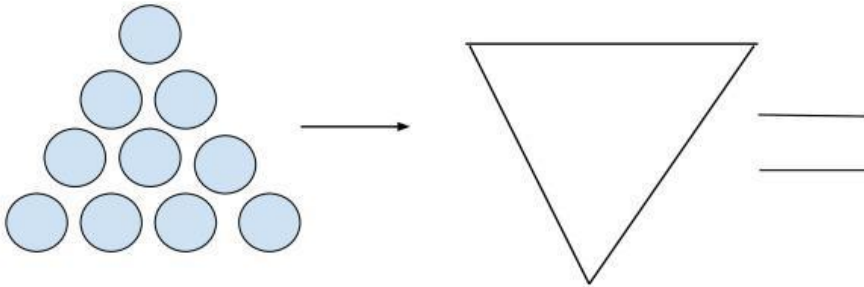
Nombre: _____.

Curso: _____.

1. Quitando CINCO palitos, tiene que quedar uno:



2. Moviendo TRES bolas tiene que quedar el triángulo invertido:



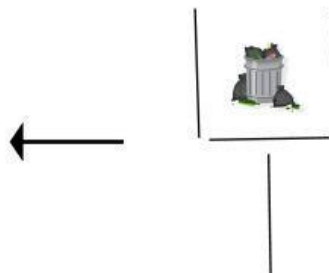
3. Tienes que adivinar la secuencia, y después, adivinar la letra que va en el espacio en blanco:

U D T C C S S O _ D

- Y aquí, es la misma letra, pero la secuencia está en inglés:

O T T F F S S E _ T

4. Moviendo DOS palitos (sin mover la basura), tenéis que sacar la basura fuera del recogedor:



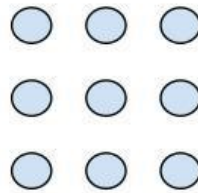
5. Aquí tenemos otra secuencia, ¿eres capaz de adivinar la letra que va en el espacio en blanco?

E F M A M J J A S O _ _ D

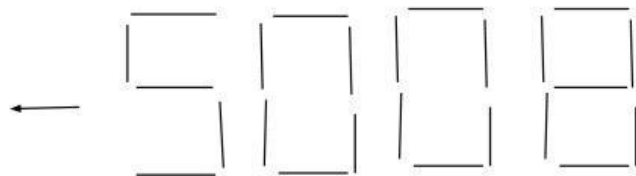
6. Moviendo DOS palitos, tiene que quedar la suma bien. Eso sí, no puedes mover el signo de la suma ni el igual:

$$\begin{array}{|c|} \hline \\ \hline \\ \hline \\ \hline \end{array} + \begin{array}{|c|} \hline \\ \hline \\ \hline \\ \hline \end{array} = \begin{array}{|c|} \hline \\ \hline \\ \hline \\ \hline \end{array}$$

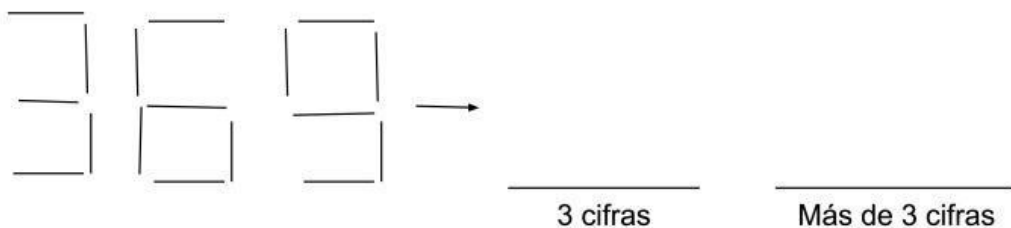
7. Tienes que unir con CUATRO líneas rectas, sin separar el boli o el lápiz, unir los nueve puntos:



8. Moviendo DOS palitos, tienes que conseguir el número más grande:



9. Moviendo DOS palitos, tienes que hacer el número más grande siguiendo las instrucciones que pone debajo de cada casilla:



Ideas de la segunda parte, por Javi (4ºA).
Escrito y hecho por Alex (6ºB).