



Lembar Kerja Peserta Didik

LKPD

Penjumlahan Sampai dengan 10



Disusun Oleh
Kelompok 6

LKPD

NAMA :

KELAS :

TUJUAN :

1. Peserta didik mampu mengidentifikasi contoh-contoh penerapan nilai pancasila dalam kehidupan sehari hari
2. Peserta didik mampu menerapkan nilai-nilai pancasila dalam kehidupan sehari hari

PETUNJUK !

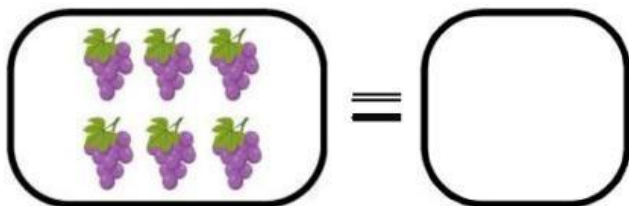



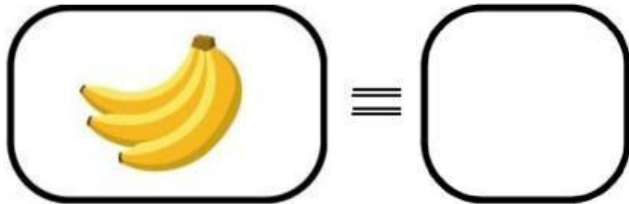

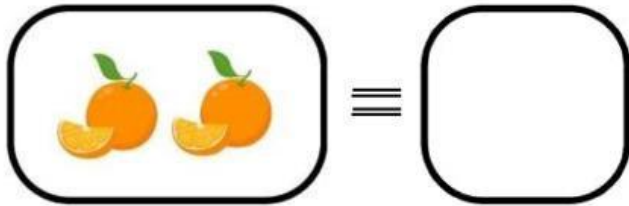

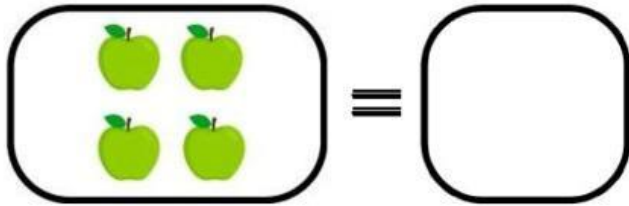

1. Bacalah do'a sebelum mengerjakan LKPD
2. Lengkapi data kalian
3. Bacalah dengan cermat setiap petunjuk yang ada di soal
4. Kerjakanlah setiap kegiatan dengan teliti dan benar
5. Periksa kembali jawabanmu sebelum diserahkan pada guru

Nama :

Kelas :

MENGHITUNG JUMLAH BUAH

Hitunglah jumlah dari buah pada tabel berikut dengan benar !



Nama :

Kelas :

Pasangkan penjumlahan dengan hasil yang benar !

$2+9 =$



$3+7 =$



$5+8 =$



$7+7 =$



13

14

11

10

$1+3 =$



$4+4 =$



$1+4 =$



$3+6$



5

9

4

8

$2+4$



$5+4$



$6+1 =$



$2+1 =$



7

3

9

6