

Lembar Kerja Peserta Didik

# PERKALIAN DAN PEMBAGIAN



Nama:

Kelas:

## PERKALIAN

1

Hitunglah  $2 \times 5 =$

A. 15

B. 10

C. 5

D. 30

2

Hitunglah  $3 \times 7 =$

A. 14

B. 24

C. 21

D. 20

3

Pasangkan gambar dengan kalimat matematika yang tepat !



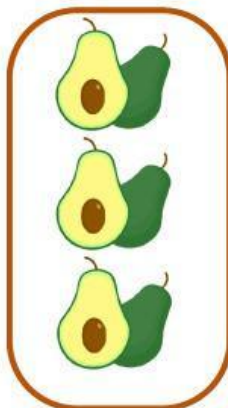
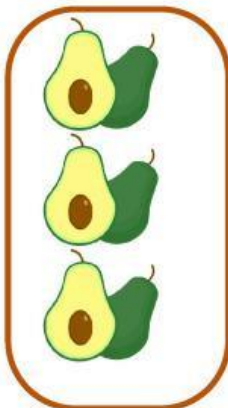
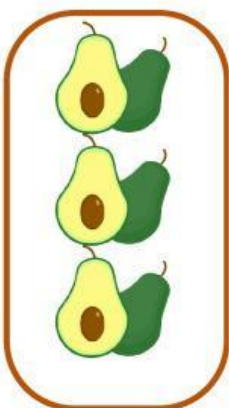
• •

$3 \times 3$



• •

$2 \times 4$



• •

$4 \times 2$

# PEMBAGIAN

1

$$6 : 3 =$$

4

2

$$8 : 2 =$$

10

3

$$20 : 2 =$$

2

4

ibu guru memiliki 20 kue dan akan di bagi ke 4 siswanya, masing masing siswa akan mendapatkan berapa kue ?

A. 5

B. 7

C. 2

D. 10

5

Kakak memiliki 15 kelereng dan akan dibagikan ke 5 temannya. masing-masing akan mendapatkan berapa kelereng ?

A. 5

B. 13

C. 3

D. 2