

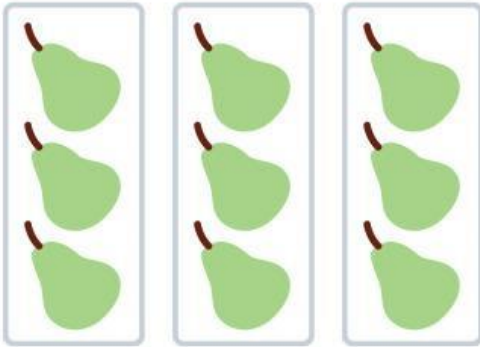
Pasangkan gambar dengan kalimat matematika yang tepat.



•

•

$$3 \times 3$$

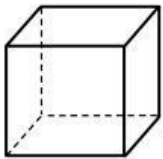


•


•

$$2 \times 3$$

Jawablah pertanyaan berikut dengan tepat.

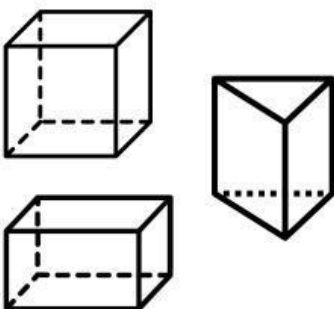


Sebuah kubus memiliki panjang sisi 8 cm.
Hitunglah volume kubus tersebut!



Sebuah prisma segitiga memiliki alas segitiga
dengan panjang 6 cm dan tinggi segitiga 4 cm.
Jika tinggi prisma adalah 10 cm, hitunglah
volume prisma tersebut!

Gunting dan tempelkan bangun ruang sesuaikan dengan nama bangun.



KUBUS

PRISMA

BALOK