

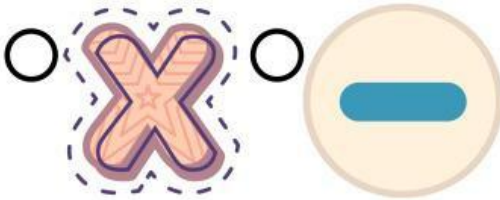
Nama :

Kelas :

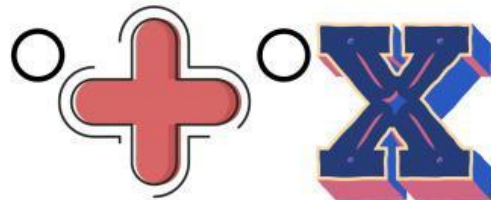
# MATEMATIKA

Ceklislah jawaban yang benar !


1. Manakah Simbol Pengurangan...



2. Manakah Simbol Perkalian...



3. Manakah Simbol Penjumlahan...



4. Manakah Simbol Sama dengan...



5. Manakah Hasil Dari Perkalian  $2 \times 5$ ?

10  12

6. Manakah Hasil dari Penjumlahan  $20 + 5$  ?

20  25

7. Manakah Hasil Dari Pengurangan  $20 - 15$  ?...

15  5

8. Manakah Hasil dari  $5 \times 3$  ?

7  15