



Hola a todos y todas, ánimo que estamos terminando el trimestre y lo estáis haciendo muy bien. Lee despacio y contesta.

1. CALCULA LAS SIGUIENTES MULTIPLICACIONES:

5 x 5			4 x 3			6 x 8	
7 x 2			4 x 4			6 x 1	
8 x 5			6 x 4			6 x 0	
3 x 3			7 x 5			4 x 7	
2 x 9			10 x 8			2 x 2	
0 x 1			1 x 8			1 x 1	
10 x 10			2 x 8			10 x 5	

2. MUEVE LOS TÉRMINOS DE LA MULTIPLICACIÓN A SU LUGAR CORRECTO:

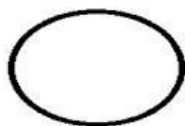



$$\begin{array}{r} 45 \\ \times 3 \\ \hline 135 \end{array}$$

FACTOR

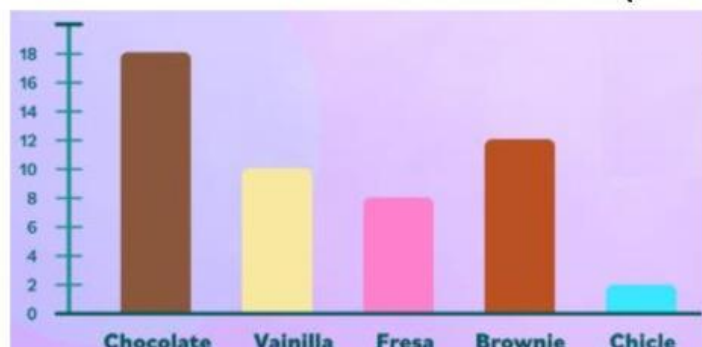
PRODUCTO

FACTOR

3. ELIGE LA OPCIÓN CORRECTA EN CADA CASO:



4. OBSERVA EL GRÁFICO Y CONTESTA (Verdadero – V o Falso – F).



- El helado favorito es de chicle.
- Hay 8 helados de brownie.
- El helado menos favorito es fresa.
- Hay 18 helados de chocolate.

Maestro Alejandro