





Nama:

**Soal Cerita Penjumlahan**




Selesaikan soal-soal cerita berikut lengkap dengan caranya! Kalian bisa menggunakan papan congklak sebagai media berhitungnya!

1.) Karena sudah lama di luar negeri, Hadi meminta tolong Anton untuk membelikan jajanan tradisonal dengan 4 varian yang berbeda. Setiap varian minimal sejumlah 200 biji jajanan. Di toko pertama Hadi membeli 177 buah wajik, 168 buah geblek, 186 buah lumpia, dan 189 buah kue mendut. Karena masih terdapat yang belum memenuhi batas minimal, Hadi membeli lagi 39 buah wajik, 47 buah geblek, 29 buah lumpia, dan 25 buah kue mendut. Tuliskan berapa jumlah wajik, geblek, lumpia, dan kue mendut yang dibeli Anton?

177	168	186	189
39	47	29	25
--- +	--- +	--- +	--- +
... ..	... ..	... ..	... ..
			

Jadi, jumlah wajik.....,geblek..... lumpia....., kue mendut.....

2.) Kakak meminta tolong Adi untuk membelikan oleh-oleh jajanan tradisonal dengan 5 varian yang berbeda untuk rekan-rekan di perantauannya. Setiap varian minimal sejumlah 150 biji jajanan. Di toko pertama Adi membeli 132 serabi solo, 111 sosis solo, dan 151 gethuk goreng. Karena masih terdapat yang belum memenuhi batas minimal, Siska membeli lagi 37 buah serabi solo dan 52 sosis solo. Tuliskan berapa jumlah sosis solo, serabi solo, dan gethuk goreng yang dibeli Adi untuk oleh-oleh Kakak!

111	132	
52	37	
-----+	-----+	
... ..	... ..	
		

Jadi, jumlah sosis solo....., serabi solo ..... , gethuk goreng .....