

EVALUASI FORMATIF (VISUAL)

Nama:

Kelas:

Petunjuk Pengerjaan Soal!

1. Tulis nama dan kelas pada lembar yang tersedia.
2. Bacalah soal dengan teliti, jika ada soal yang belum dipahami silakan tanyakan pada guru.
3. Selamat mengerjakan.

Berilah tanda silang (x) pada jawaban yang benar!

1. Apa yang dimaksud dengan pengurangan?
 - a. Menambah dua bilangan menjadi lebih besar.
 - b. Membagi satu bilangan dengan bilangan lain.
 - c. Menggabungkan dua bilangan menjadi satu.
 - d. Mengambil suatu objek dari sekumpulan objek.
2. Manakah pernyataan yang menunjukkan pengurangan?
 - a. Dina memiliki 15 apel, lalu 7 apelnya diberikan kepada temannya.



- b. Ali memiliki 10 buku dan membeli 5 lagi.



- c. Budi memiliki 8 kelereng, lalu membeli 4 kelereng lagi.



- d. Siti memiliki 12 buah pensil, lalu membaginya ke 3 orang teman.



3. Manakah contoh situasi yang menunjukkan operasi pengurangan?
- a. Tono membagi 12 apel ke dalam 4 keranjang.



- b. Budi memiliki 15 kelereng dan membeli 5 lagi.



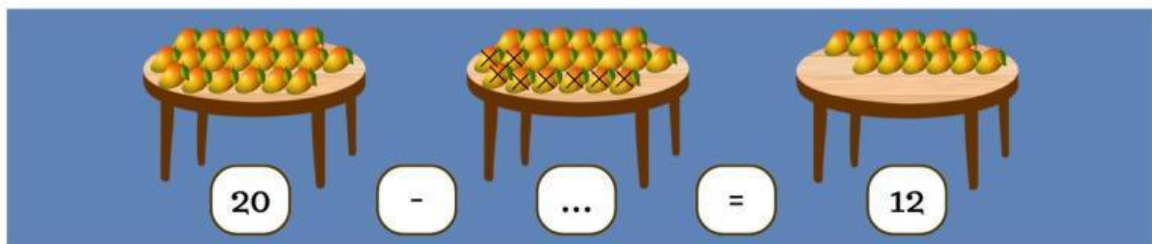
- c. Sinta memiliki 10 buku, lalu memberikan 4 kepada temannya.



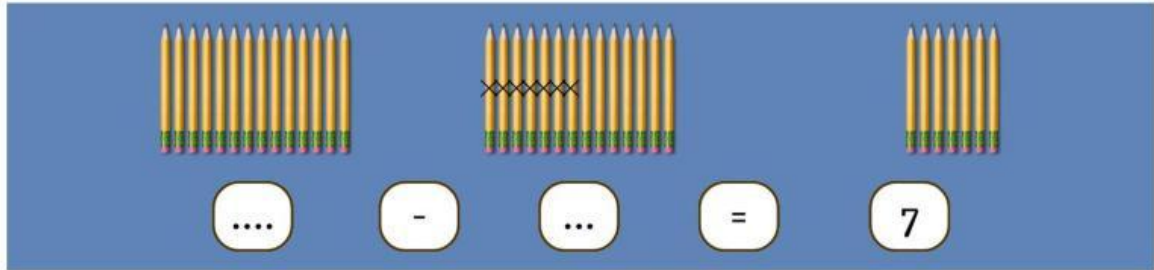
- d. Rani memiliki 12 permen dan membeli 8 lagi.



4. Manakah situasi berikut yang menunjukkan pengurangan?
- Dedi memiliki 12 apel dan membeli 5 apel lagi.
 - Santi memiliki 18 kelereng, lalu kehilangan 7 kelereng.
 - Beni membagi 20 permen kepada 4 teman.
 - Lisa memiliki 10 bunga, lalu diberi 6 bunga lagi.
5. Manakah hasil operasi pengurangan yang benar?
- $16 - 9 = 6$
 - $12 - 8 = 5$
 - $20 - 15 = 5$
 - $14 - 6 = 9$
6. Manakah hasil operasi pengurangan yang benar?
- $12 - 5 = 6$
 - $10 - 4 = 4$
 - $13 - 5 = 9$
 - $19 - 6 = 13$



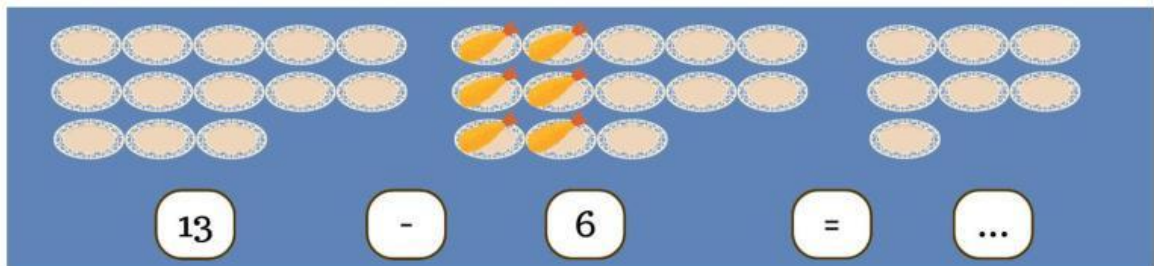
7. Pilihlah bilangan cacah yang tepat untuk mengisi titik-titik pada gambar diatas!
- 6
 - 7
 - 8
 - 5



8.

Pilihlah bilangan cacah yang tepat untuk mengisi titik-titik pada gambar diatas!


- a. 15 dan 6
- b. 14 dan 5
- c. 20 dan 7
- d. 14 dan 7



9.

Ibu sedang memasak udang goreng krispi, udang yang telah masak diletakkan masing-masing pada 13 piring yang tersedia. Berapakah piring yang belum terisi udang goreng krispi?

- a. 6
- b. 5
- c. 7
- d. 4



10.

Kakak sedang menjual 18 gelas es campur di taman kota, setelah berjualan selama 1 jam kakak berhasil menjual 7 gelas es campur. Berapakah sisa es campur yang belum terjual?

- a. 11
- b. 10
- c. 12
- d. 9