

## SOAL EVALUASI VISUAL

Mata Pelajaran : Matematika

Nama:


Kelas:

Petunjuk Pengerjaan Soal!


1. Tulis nama dan kelas pada lembar yang tersedia
2. Bacalah soal dengan teliti, jika ada soal yang belum dipahami silakan tanyakan pada guru.
3. Selamat mengerjakan 😊

Tuliskan jumlah total benda pada gambar di bawah ini, lalu tuliskan jumlah setengah dari total benda tersebut serta tuliskanlah bentuk pecahannya.

1.

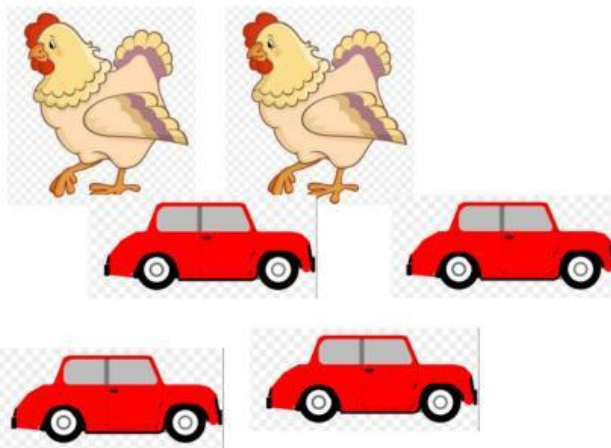


Total benda  
Setengah dari total benda =




Total benda=  
Setengah dari total benda =

2.





Total benda=  
Setengah dari total benda =

3.



benda =



Total benda=

Setengah dari total

## SOAL EVALUASI AUDITORI

Mata Pelajaran : Matematika

Nama:

Kelas:

Petunjuk Pengerjaan Soal!

1. Tulis nama dan kelas pada lembar yang tersedia
2. Bacalah soal dengan teliti, jika ada soal yang belum dipahami silakan tanyakan pada guru.
3. Selamat mengerjakan 😊

**Tuliskan bentuk pecahan yang sesuai dengan setiap soal, kemudian hitung hasilnya.**

No.	Soal	Total keseluruhan benda dan Hasil setengah dari total kumpulan benda
1	Rani memiliki 16 buah kelereng. Ia ingin memberikan setengah dari kelerengnya kepada adiknya. Berapa banyak kelereng yang diberikan Rani kepada adiknya?	
2	Di sebuah keranjang terdapat 20 buah apel. Ibu mengambil setengahnya untuk membuat jus. Berapa buah apel yang digunakan ibu untuk membuat jus?	
3	Di taman bermain, terdapat 14 anak yang sedang bermain ayunan. Setengah dari mereka pindah ke permainan jungkat-jungkit. Berapa banyak anak yang bermain jungkat-jungkit sekarang?	
4	Pak Ali membeli 24 bungkus roti untuk acara keluarga. Ia memberikan setengah dari bungkus roti tersebut kepada tetangganya. Berapa bungkus roti yang diberikan Pak Ali kepada tetangganya?	

## SOAL EVALUASI KINESTETIK

Mata Pelajaran : Matematika

Nama:

Kelas:

Petunjuk Pengerjaan Soal!

1. Tulis nama dan kelas pada lembar yang tersedia
2. Bacalah soal dengan teliti, jika ada soal yang belum dipahami silakan tanyakan pada guru.
3. Selamat mengerjakan 😊

**Isilah soal di bawah ini dengan gambar yang sesuai!**

Tempelkan gambar yang sudah digunting di bawah ini sesuai dengan soal.

No.	Soal	Total benda dan setengahnya	Gambar Hasil setengah kumpulan benda
1	Rani memiliki 8 buah kelereng. Ia ingin memberikan setengah dari kelerengnya kepada adiknya. Berapa banyak kelereng yang diberikan Rani kepada adiknya?		
2	Di sebuah keranjang terdapat 6 buah apel. Ibu mengambil setengahnya untuk membuat jus. Berapa buah apel yang digunakan ibu untuk membuat jus?		

3	Di dalam sebuah kotak, terdapat 4 bola karet. Andi mengambil setengah dari bola-bola tersebut untuk bermain. Berapa banyak bola yang diambil Andi?		
4	Pak Ali membeli 12 bungkus roti untuk acara keluarga. Ia memberikan setengah dari bungkus roti tersebut kepada tetangganya. Berapa bungkus roti yang diberikan Pak Ali kepada tetangganya?		





## LEMBAR GAMBAR

