

Lembar Kerja Peserta Didik

PENJUMLAHAN



Nama:

Kelas:

YUK AMATI GAMBAR DAN HITUNG JUMLAHNYA!

1



Ada kucing.


Lalu, datang

kucing lainnya ikut bergabung.

Jadi, jumlah kucing semuanya ada

.

2



Abian memiliki

pensil.

Ibu memberi Abian

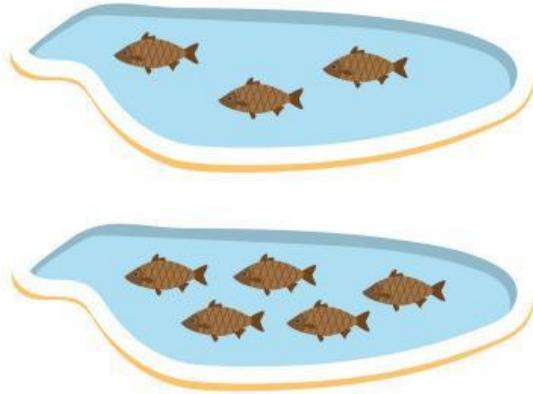
pensil lagi.

Jadi, jumlah pensil Abian ada

.

YUK TULIS KALIMAT MATEMATIKA DENGAN TEPAT!

3




Ada 3 ikan di dalam kolam. Kemudian, ditambahkan 2 ikan lagi ke dalam kolam.

Jadi, sekarang ada 5 ikan.

Kalimat matematika:

$$\underline{\hspace{2cm}} + \underline{\hspace{2cm}} = \underline{\hspace{2cm}}$$

4



Ada 6 bunga tumbuh di taman. Kemudian, tumbuh lagi 2 bunga lainnya.

Jadi, sekarang ada 8 bunga.

Kalimat matematika:

$$\underline{\hspace{2cm}} + \underline{\hspace{2cm}} = \underline{\hspace{2cm}}$$

YUK GAMBAR JUMLAH YANG TEPAT!

5

Ada tiga kupu-kupu sedang terbang di taman. Lalu, tiga kupu-kupu lainnya datang. Ada berapa jumlah kupu-kupu di taman saat ini? Coba gambar!



6

Keisya sedang berulang tahun. Dia menghias ruangan dengan dua balon. Lalu, adik Keisya datang dengan membawa satu balon lagi. Ada berapa jumlah balon saat ini? Coba gambar!

