



PERKUMPULAN DHARMAPUTRI
SD KATOLIK HATI KUDUS
TERAKREDITASI "A"
Jl. SMPN 8, RT. 07 Kel. Rapak Dalam, Kec. Loa Janan Ilir
e-mail : sdkhatikudus@yahoo.com
SAMARINDA 75132 - KALTIM

**PENILAIAN TENGAH SEMESTER GENAP
TAHUN PELAJARAN 2020 – 2021**

TEMA 7 "Indahnya Keragaman di Negeriku"

Hari/Tanggal : Jumat/12 Maret 2020

Waktu : 07.30 – 09.30

Nama :

Kelas :

Petunjuk Umum

1. Kerjakan terlebih dahulu soal-soal yang kamu anggap mudah!
2. Telitilah dan periksalah kembali pekerjaanmu sebelum dikirimkan kepada guru!

Kerjakan soal-soal berikut!

Muatan PPKN KD 3.4

1. Keragaman yang dimiliki oleh bangsa Indonesia meliputi keragaman agama, suku dan budaya. Keragaman ini dapat dijadikan sebagai pemersatu bangsa. Namun, keragaman juga dapat menimbulkan perpecahan apabila tidak disikapi dengan bijaksana. Berikut ini sikap yang dapat menimbulkan perpecahan dalam keragaman adalah
 - A. lebih menyukai budaya bangsa sendiri daripada budaya asing
 - B. bermain dengan teman yang berbeda agama
 - C. menghormati dan mau bekerja sama dengan warga yang berbeda suku dan agama
 - D. memaksakan suatu agama atau keyakinan kepada orang lain
2. Dalam rangka memperingati Hari Kemerdekaan RI, SD Pertiwi akan mengadakan pertunjukan kesenian daerah yang akan menampilkan tari Jaipong yang diiringi dengan alat musik tradisional angklung. Ibu guru mengajak para siswa mempelajari tari Jaipong dan bermain angklung. Jika kamu menjadi siswa SD Pertiwi, sikap yang sebaiknya kamu lakukan untuk memeriahkan acara tersebut terkait dengan pelestarian kesenian daerah adalah
 - A. menolak permintaan guru, karena menari Jaipong itu sulit
 - B. ikut berpartisipasi dalam mengisi acara tersebut dan mempromosikan acara kepada orang lain agar datang berkunjung
 - C. memberi usul kepada guru untuk mengganti tarian
 - D. menolak mempelajari tari Jaipong, karena menurut saya seni tari dari daerah asal saya lebih bagus

3. Keragaman agama, suku bangsa, dan pekerjaan juga saling berkaitan merupakan kekayaan bagi negara kita. Kita harus saling menghormati dan menghargai agar tercipta persatuan dan kesatuan di Indonesia. Sikap persatuan dan kesatuan dapat dilakukan dengan cara-cara berikut ini, **kecuali**
- A. menghormati teman yang sedang beribadah
 - B. mau berteman tanpa membedakan agama dan suku bangsa
 - C. mengganggu teman karena logat bahasa berbeda
 - D. bangga menggunakan bahasa daerah
4. Kelasmu mengadakan kunjungan ke Yogyakarta. Di sana, kamu dan teman-teman mengunjungi sebuah tempat wisata. Di tempat tersebut terdapat rumah adat asli Yogyakarta. Pemandu wisata menjelaskan tentang sejarah dan makna dari bentuk rumah tersebut. Sikap kita saat pemandu wisata menjelaskan tentang rumah adat tersebut adalah
- A. berlarian mengelilingi rumah adat
 - B. menyimak sambil menggambar di setiap sudut rumah adat
 - C. menyimak dan mencatat hal-hal penting tentang rumah adat
 - D. bercerita sendiri dengan teman
5. Orang tua Nanda berbeda suku bangsa. Ayahnya berasal dari Padang sedangkan ibunya berasal dari Bali. Di rumah, Nanda merasa bingung karena ayah dan ibunya berkomunikasi dengan berganti-ganti bahasa. Kadang menggunakan bahasa Padang, kadang bahasa Bali. Ayah dan ibu selalu mengajari Nanda. Namun, Nanda tidak mau mempelajari bahasa daerah asal orang tuanya. Menurutnya, bahasa daerah itu membingungkan. Ia lebih senang menggunakan bahasa Indonesia saat berbicara dengan orang tuanya. Sikap yang tepat untuk menanggapi cerita di atas adalah
- A. setuju, karena sudah seharusnya orang tua mengajari bahasa daerah agar anak-anak mereka hanya bisa berkomunikasi dengan orang yang sukunya sama
 - B. setuju, karena Nanda memang sebaiknya hanya menggunakan bahasa Indonesia saja untuk berkomunikasi
 - C. tidak setuju, karena ayah dan ibu Nanda memaksa Nanda untuk belajar bahasa daerah, seharusnya yang diajarkan hanya bahasa Indonesia saja agar Nanda dapat semakin mencintai Indonesia
 - D. tidak setuju, karena sikap Nanda yang enggan mempelajari bahasa daerah dapat mengurangi generasi penerus daerah. Bahasa daerah merupakan warisan budaya bangsa. Jika bahasa tersebut hilang, maka telah hilang salah satu budaya tersebut.
6. Setiap rumah adat memiliki makna tersendiri bagi masyarakat suatu daerah. Keragaman bentuk dan makna setiap rumah adat membuat Indonesia semakin indah dan kaya. Untuk itu, penting bagi kita untuk melestarikan rumah adat tersebut. Berikut aktivitas yang menunjukkan pelestarian rumah adat adalah
- A. memperkenalkan asal daerah rumah adat pada teman
 - B. tidak memperhatikan pemandu museum saat menjelaskan tentang rumah adat
 - C. tidak menghargai keunikan rumah adat dari suku sendiri
 - D. mengejek rumah adat dari suku lain

7. Setiap provinsi di Indonesia memiliki budaya masing-masing. Budaya suatu daerah dapat berbeda dengan budaya daerah lain. Perbedaan ini membuat budaya Indonesia menjadi beragam. Kita harus memiliki rasa toleransi terhadap keragaman ini agar tidak terjadi perpecahan. Rasa toleransi dalam keragaman budaya dapat diwujudkan dengan cara-cara berikut
- A. mau mempelajari budaya sendiri
 - B. menjaga kerukunan antar umat beragama
 - C. menghormati orang yang sedang beribadah
 - D. berteman tanpa membedakan suku dan ras

Muatan BI KD 3.4

Bacalah teks berikut untuk menjawab soal nomor 8 dan 9!

Tahukah Anda bahwa di dunia ini ada 27 jenis bunga rafflesia? Kebanyakan masyarakat hanya mengenal satu jenis bunga rafflesia, yaitu bunga *Rafflesia Arnoldi* yang sering tumbuh di hutan Bengkulu. Namun ternyata, ada banyak jenis rafflesia lain yang tumbuh di hutan-hutan di Indonesia.

Di Sumatera ditemukan sebelas jenis bunga rafflesia. Di Bengkulu terdapat empat jenis bunga rafflesia yang sering tumbuh di hutan-hutannya. Keempat jenis rafflesia tersebut, yaitu *Rafflesia Arnoldi*, *Rafflesia Gadutensis*, *Rafflesia Haseltii*, dan *Rafflesia Bengkuluensis*.

Menurut peneliti rafflesia dari Universitas Bengkulu (Unib), Agus Susetya, bunga rafflesia yang memiliki daun bunga paling besar di dunia adalah jenis Bengkuluensis. "Dari keempat jenis tersebut, *Rafflesia Arnoldi* merupakan bunga terbesar di dunia dengan diameter 70-100 sentimeter," kata penemu *Rafflesia Bengkuluensis* ini. Selain itu, untuk jenis bunga rafflesia yang memiliki corak terindah dibandingkan dengan ketiga jenis lainnya adalah *Rafflesia Haseltii*. *Rafflesia Haseltii* memiliki ukuran 30-60 sentimeter. Hal itu cukup berbeda dengan rafflesia jenis Gadutensis yang berukuran sekitar 50 sentimeter. Di Bengkulu, bunga-bunga itu bisa ditemukan di beberapa tempat, antara lain di Taman Nasional Kerinci Seblat (TNKS), Taman Nasional Bukit Barisan Selatan (TNBBS), Pusat Penelitian Gajah (PLG), dan Padang Guci Kabupaten Kaur.

8. Informasi mengenai jumlah jenis bunga rafflesia di Indonesia terdapat pada paragraf
- A. pertama
 - B. kedua
 - C. ketiga
 - D. kedua dan ketiga
9. Pertanyaan yang sesuai dengan informasi yang disajikan pada teks di atas adalah
- A. Kapan bunga rafflesia pertama kali ditemukan?
 - B. Berapa jenis bunga rafflesia yang ada di dunia?
 - C. Di manakah bunga rafflesia pertama kali ditemukan?
 - D. Mengapa bunga rafflesia merupakan jenis tanaman langka?

10. Bacalah paragraf berikut

Bahasa Palembang mempunyai dua tingkatan, yaitu *Baso Palembang Alus* dan *Baso Palembang Sari-Sari*. *Baso Palembang Alus* digunakan dalam percakapan dengan pemuka masyarakat, orang tua, atau orang-orang yang dihormati. Sementara itu, *Baso Palembang Sari-Sari* digunakan sehari-hari oleh suku Palembang dan berakar pada bahasa Melayu.

Informasi yang sesuai dengan paragraf di atas adalah

- A. semua tingkatan dalam bahasa Palembang digunakan dalam percakapan untuk orang-orang yang dihormati
- B. *Baso Palembang Alus* merupakan tingkatan dalam bahasa Palembang yang berakar pada bahasa Melayu
- C. *Baso Palembang Sari-Sari* merupakan bahasa yang digunakan sehari-hari oleh suku Palembang
- D. terdapat dua tingkatan dalam bahasa Palembang, yaitu *Baso Palembang Alus* dan *Bebas*

11. Bacalah teks berikut!

Tahukah kamu dimana letak suku Dayak? Suku Dayak merupakan nama yang diberikan penduduk pesisir Pulau Borneo kepada penghuni pedalaman yang mendiami Pulau Kalimantan. Dahulu, budaya masyarakat Dayak adalah budaya maritim atau bahari. Hampir semua sebutan orang Dayak memiliki arti sebagai sesuatu yang berhubungan dengan perhubungan atau sungai, terutama pada nama-nama rumpun dengan nama kekeluargaannya.

Dahulu, budaya masyarakat Dayak adalah budaya maritim atau bahari.

Arti kata *bahari* adalah ...

- A. sesuatu yang berhubungan dengan perairan
- B. sesuatu yang berhubungan dengan daratan
- C. sesuatu yang berhubungan dengan dataran
- D. sesuatu yang berhubungan dengan pegunungan

12. Bacalah teks berikut!

Tari Piring merupakan salah satu tarian tradisional Indonesia. Tarian ini berasal dari Sumatera Barat. Tarian ini biasanya dilakukan oleh perempuan dan laki-laki. Pada awalnya, tarian ini dilakukan untuk membawakan persembahan kepada dewa sebagai rasa syukur. Untuk menarikan tarian ini, penari harus menyiapkan piring. Ada tiga variasi gerakan dalam tarian ini, yaitu *tupai bagaluik*, *bagalombang*, dan *aka malilik*.

Informasi yang sesuai dengan teks di atas adalah (*pilih jawaban lebih dari satu*)

- A. ada empat variasi gerakan dalam tari piring
- B. Tari Piring biasanya dilakukan oleh perempuan saja
- C. Tari Piring merupakan salah satu tarian tradisional Indonesia
- D. Tari Piring dilakukan untuk membawakan persembahan kepada dewa

Bacalah teks berikut untuk menjawab soal nomor 13 dan 14!

Setiap kota di Indonesia memiliki julukan yang khas, termasuk Kota Yogyakarta. Kota Yogyakarta memiliki beberapa julukan, diantaranya kota pelajar, kota budaya, hingga kota aman dan nyaman. Kota Yogyakarta dikenal sebagai kota pelajar karena di sana memang banyak perguruan tinggi. Sementara itu, banyaknya pemak-pernik tradisional yang dijajakan oleh masyarakat sebagai *buah tangan* bagi wisatawan, menjadikan Kota Yogyakarta dikenal dengan julukan kota budaya. Selain kota pelajar dan kota budaya, kota Yogyakarta juga dikenal dengan julukan kota yang aman dan nyaman. Kota Yogyakarta memang masih kental dengan tradisi mereka. Selain itu, Kota Yogyakarta juga terkenal akan keramahan masyarakatnya. Hal itulah yang menjadikan kota Yogyakarta sebagai tempat yang aman dan nyaman bagi para wisatawan.

13. Arti istilah *buah tangan* pada teks di atas yang tepat adalah
- A. barang yang dibawa dari hasil bepergian atau oleh-oleh
 - B. cendera mata khas suatu daerah
 - C. buah-buahan khas suatu daerah
 - D. barang-barang tradisional
14. Pelacong atau turis merupakan kata yang memiliki arti sama dengan kata ... pada paragraf tersebut.
- A. pelajar
 - B. budaya
 - C. tradisional
 - D. wisatawan

Muatan IPA KD 3.3

15. Perhatikan gambar berikut !



- Kegiatan pada gambar menunjukkan bahwa gaya dapat
- A. mengubah sifat benda
 - B. mengubah kecepatan benda
 - C. mengubah wujud benda
 - D. mengubah bentuk benda
16. Bus mogok akan bergerak jika didorong. Dalam hal ini, gaya memengaruhi benda, yaitu
- A. bentuk benda menjadi berubah
 - B. benda diam menjadi bergerak
 - C. benda bergerak menjadi makin cepat
 - D. benda bergerak menjadi makin lambat
17. Berdasarkan keadaan muatannya energi listrik dibagi menjadi dua yaitu listrik statis dan listrik dinamis. Listrik statis dapat terjadi karena
- A. muatan listrik mengalir dari kutub positif ke kutub negatif
 - B. muatan listrik yang tidak mengalir pada suatu benda
 - C. muatan listrik tidak sejenis
 - D. muatan listrik sejenis
18. Perhatikan aktivitas berikut ini !
- 1) Mengangkat ember berisi air
 - 2) Menekan tombol saklar listrik
 - 3) Memukul bola kasti
 - 4) Mengangkat meja
- Aktivitas yang berupa tarikan ditunjukkan oleh nomor
- A. 1 dan 2
 - B. 2 dan 3
 - C. 3 dan 4
 - D. 1 dan 4

19. Perhatikan gambar berikut !



Tujuan ban dibuat beralur seperti pada gambar tersebut adalah

- A. memperbesar gaya gesek
 - B. melindungi permukaan ban
 - C. memperkecil gaya gesek
 - D. mempercepat laju mobil
20. Gaya gravitasi merupakan gaya tarik yang dialami suatu benda terhadap pusat bumi. Berikut ini yang termasuk manfaat gaya gravitasi bumi, kecuali
- A. benda-benda yang ada di bumi tidak terlempar ke luar angkasa
 - B. manusia dapat berjalan di atas permukaan tanah
 - C. menggerakkan kereta maglev yang ketika bergerak dengan sedikit melayang di atas rel
 - D. gas-gas yang ada di atmosfer bumi tertahan, sehingga manusia terlindungi dari meteor
21. Gaya magnet dimanfaatkan dalam berbagai bidang. Berikut ini yang merupakan contoh pemanfaatan gaya magnet adalah
- A. benda-benda akan selalu tertahan di permukaan bumi
 - B. listrik dapat menyalakan benda-benda elektronik
 - C. jarum pada kompas dapat menunjukkan arah
 - D. alas sepatu yang beralur membuat kita tidak jatuh saat berjalan

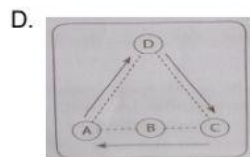
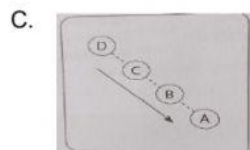
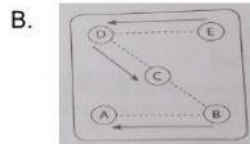
Muatan IPS KD 3.2

22. Rumah ini berbentuk bulat dan atapnya ditutupi alang-alang yang berbentuk kubah. Bangunan rumah terbuat dari rotan, dindingnya dari papan, dan tiang penyangganya dari kayu khusus yang diikat dengan tali hutan dan rotan. Posisi pintu berada pada arah terbit dan terbenamnya matahari. Rumah ini tidak memiliki jendela dengan tujuan untuk mengurangi udara dingin yang masuk dari luar. Rumah adat ini disebut
- A. Rumah Panjang dari Papua
 - B. Rumah Honai dari Jawa Tengah
 - C. Rumah Lamin dari Kalimantan Timur
 - D. Rumah Honai dari Papua
23. Bahasa daerah merupakan alat komunikasi yang digunakan oleh suku tertentu di suatu daerah. Setiap suku bangsa memiliki bahasa daerahnya masing-masing. Setiap suku bangsa memiliki logat dan dialek yang khas sehingga kita dapat membedakannya dengan suku lain. Wilayah Sulawesi menggunakan bahasa daerahnya yaitu
- A. Bugis, Bobongko dan Batui
 - B. Asmat dan Dabu
 - C. Sasak dan Sumbawa
 - D. Batak, Mentawai, dan Lampung

24. Rio sedang mengamati sebuah alat musik tradisional yang dimainkan dengan cara digetarkan. Alat musik ini terbuat dari bambu. Alat musik tersebut merupakan alat musik yang berasal dari daerah Jawa Barat. Alat musik yang dimaksud adalah
- A. kolintang
 - B. angklung
 - C. rebana
 - D. tifa
25. Indonesia merupakan negara yang kaya akan keragaman. Salah satunya adalah keragaman suku bangsa. Wilayah Indonesia yang berbentuk kepulauan memengaruhi keragaman tersebut. Suku Gayo, Batak Karo, dan Enggano adalah suku yang mendiami pulau
- A. Jawa
 - B. Kalimantan
 - C. Sulawesi
 - D. Sumatera
26. Sumber daya alam yang berlimah dan beragam memengaruhi mata pencaharian yang ada di masyarakat. Mata pencaharian yang ada di masyarakat biasanya menyesuaikan dengan kondisi alamnya. Peternak susu sapi merupakan mata pencaharian yang banyak dilakukan oleh masyarakat di daerah
- A. perkotaan
 - B. pegunungan
 - C. dataran tinggi
 - D. dataran rendah
27. Kegiatan ini banyak dilakukan oleh masyarakat yang tinggal di kawasan hutan. Tanaman yang biasa dimanfaatkan, yaitu jati dan rotan. Hasil hutan biasanya dimanfaatkan sebagai bahan baku untuk industri bangunan dan mebel. Penjelasan tersebut merupakan kegiatan ekonomi di bidang
- A. pertanian
 - B. kehutanan
 - C. perkebunan
 - D. peternakan
28. Perhatikan jenis kegiatan ekonomi berikut ini!
- (1) peternakan
 - (2) pertanian
 - (3) perindustrian
 - (4) perdagangan
- Kegiatan di atas, yang termasuk dalam kegiatan ekonomi agraris adalah
- A. (1) dan (2)
 - B. (1) dan (3)
 - C. (2) dan (3)
 - D. (2) dan (4)

Muatan SBdP KD 3.3

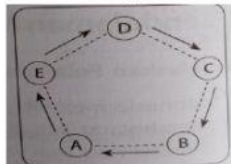
29. Skema berikut yang menunjukkan penari bergerak melalui garis vertikal adalah



30. Setiap tarian yang akan dipentaskan menggunakan pola lantai tertentu. Berikut ini pernyataan yang benar tentang pola lantai adalah

- A. alat pendukung yang digunakan saat menari
- B. kegiatan menampilkan suatu karya seni
- C. gerakan tubuh yang dinamis, ritmis dan estetik
- D. formasi dengan perpindahan, pergerakan, atau pergeseran posisi dalam menari

31. Perhatikan gambar berikut !



Formasi penari berdasarkan gambar di atas membentuk jenis pola lantai

- A. zig-zag
- B. segilima
- C. persegi
- D. segitiga

32. Tari daerah yang dipentaskan biasanya diiringi dengan musik yang membuat pementasan sebuah tari menjadi lebih indah dan menarik. Berikut ini yang termasuk alat musik tradisional yang digunakan untuk pementasan tari daerah adalah

- A. gitar
- B. gamelan
- C. piano
- D. drum

Muatan : SBDP (KD 3.4)

33. Perhatikan gambar berikut !



Gambar di atas merupakan contoh karya seni tempel jenis . . .

- A. mozaik
 - B. montase
 - C. aplikasi
 - D. lukisan
34. Berikut ini yang termasuk langkah awal sebelum membuat karya seni tempel mozaik adalah
- A. mengunting potongan kertas
 - B. memberi lem pada seluruh permukaan kertas gambar
 - C. membuat pola pada kertas gambar
 - D. menempel potongan kertas pada pola
35. Berikut ini yang termasuk bahan utama yang dapat digunakan dalam membuat karya montase adalah
- A. daun-daun kering
 - B. majalah dan koran
 - C. kertas origami
 - D. manik-manik

SELAMAT MENERJAKAN
† TUHAN YESUS MEMBERKATI †