



1. හිස්තැන් පුරවන්න.

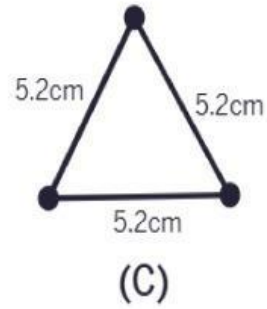
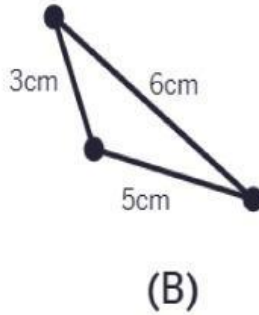
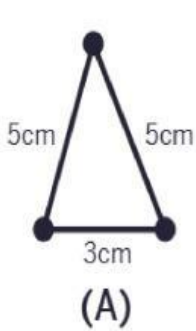
i. චතුරස්‍රයක පාද ගණන කි.

ii. ඡඩ්‍රයක කෝණ ගණන කි.

iii. පංචාස්‍රයක පාද ගණන කි. එහි කෝණ ගණන කි.

iv. අෂ්ටාස්‍රයක් යනු පාද ගණන ක් වූ බහු-අස්‍රයකි.

2. පහත රූප සටහන් ඇසුරින් ප්‍රශ්නවලට නිවැරදි පිළිතුරු තෝරන්න.



සමපාද ත්‍රිකෝණයක් වන්නේ කුමක්ද?

(A) (B) (C)



සමද්විපාද ත්‍රිකෝණයක් වන්නේ කුමක්ද?

(A) (B) (C)

විෂමපාද ත්‍රිකෝණයක් වන්නේ කුමක්ද?

(A) (B) (C)

3. පහත දැක්වෙන බහු-අස්‍ර සඳහා සුදුසු නම තෝරන්න.



චතුරස්‍රය

පඨස්‍රය

අෂ්ටස්‍රය

පච්චස්‍රය

ත්‍රිකෝණය

සජ්ජාස්‍රය