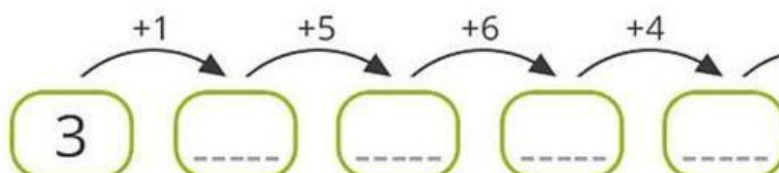
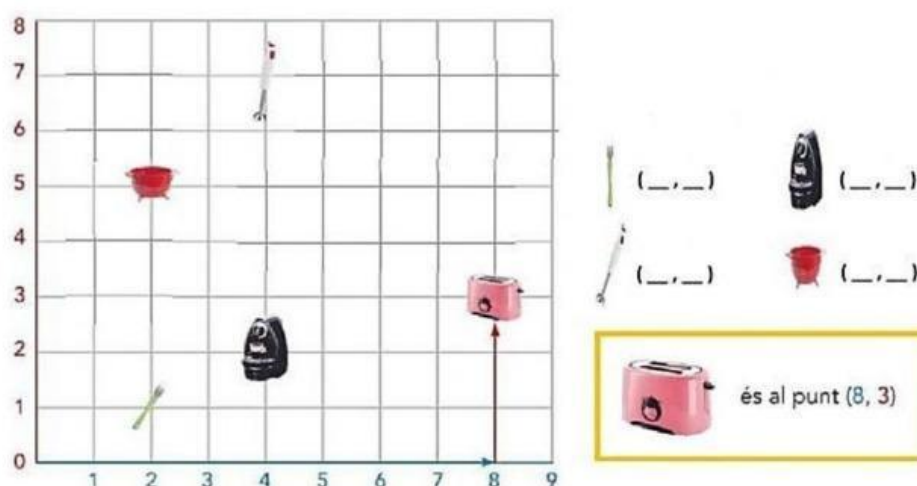


## Matemática

1. Encuentra los siguientes patrones:



2. Señala las coordenadas de cada objeto.



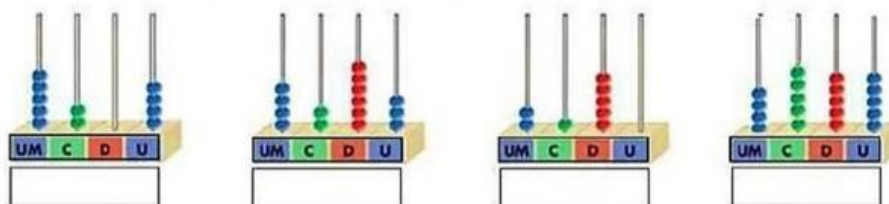
3. Observa el tablero de valor posicional y completa las expresiones.

Um	C	D	U
5	3	2	9

- El valor de 5 es  unidades.
- El valor de 3 es  unidades.
- El valor de 2 es  unidades.
- El valor de 9 es  unidades.

4. Selecciona el número que representa en el ábaco:

2 150	4 555	5 204	4 263
-------	-------	-------	-------



5. Completa el antecesor y sucesor de las siguientes cantidades.

300	
	1.000
659	
	885

6. Una cada número con la escritura de su nombre.

600

Setecientos noventa y nueve

799

Novcientos setenta y ocho

1.200

Mil doscientos

978

Setecientos

7. Resuelve las siguientes multiplicaciones, escribiendo el número que corresponde.

		2	5	3
x				4

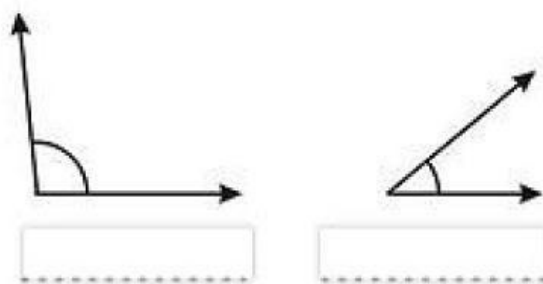
		6	2	4
x				5

8. Realiza las siguientes divisiones de una cifra.

920 | 9

745 | 5

9. Escribe el tipo de ángulo que es:



10. Calcule el perímetro de las siguientes figuras geométricas.

