

EVALUASI

Matematika

MENGURUTKAN DATA

Nama :

.....


Kelas :


.....

Alokasi waktu : 15 menit



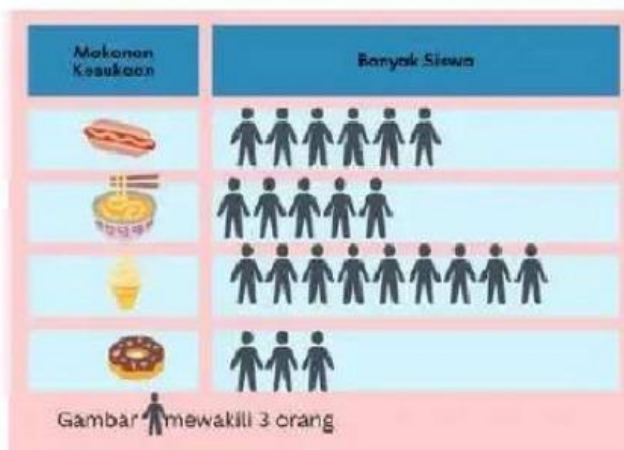
1. Berikut data makanan kesukaan dari siswa kelas V SD Numerasi



Keterangan  mewakili 4 orang
 setelah mengamati diagram piktogram tersebut beri tanda pada kolom pernyataan benar atau salah

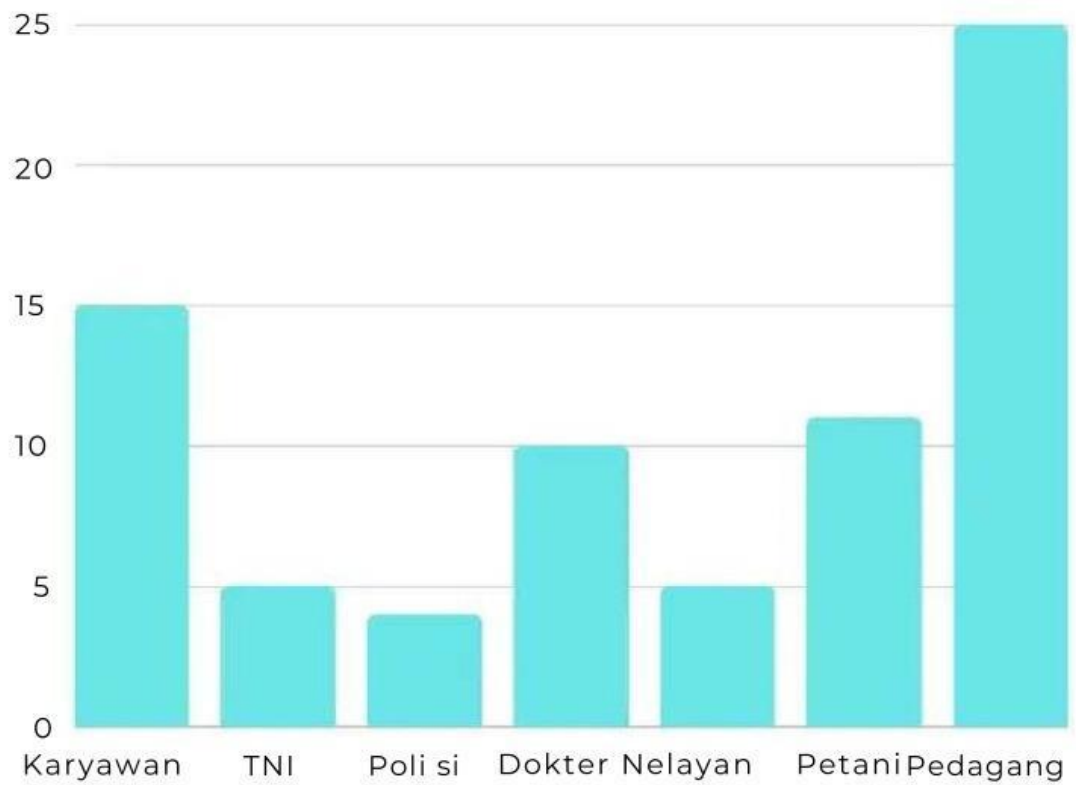
Pernyataan	Benar	Salah
Kentang goreng makanan yang paling diminati oleh siswa SD Numerasi	<input type="checkbox"/>	<input type="checkbox"/>
Ayam goreng berada di posisi urutan ke 2 untuk makanan yang banyak disukai	<input type="checkbox"/>	<input type="checkbox"/>
urutan makanan kesukaan kelas V SD Numerasi dari yang terbanyak adalah kentang goreng, burger, pizza, ayam goreng	<input type="checkbox"/>	<input type="checkbox"/>
Pizza berada di posisi ketiga dari makanan yang kurang disukai	<input type="checkbox"/>	<input type="checkbox"/>

2. Yuk amati diagram berikut! urutkan data makanan kesukaan dari yang paling banyak diminati kemudian ubah ke dalam tabel frekuensi



Makanan Kesukaan	Banyak Siswa

3. Urutkanlah data jenis pekerjaan orang tua siswa di kelas dari jenis pekerjaan paling sedikit sampai yang terbanyak dari diagram batang berikut!



No	Pekerjaan Orang Tua	Jumlah