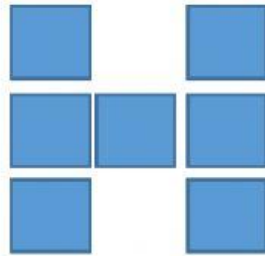
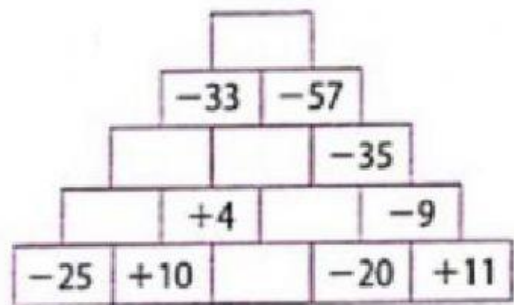
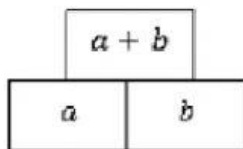


ACTIVIDADES

1. COMPLETA LAS CASILLAS SABRIENDO QUE SE HAN UTILIZADO TODOS LOS NÚMEROS ENTEROS ENTRE EL -3 Y 3. LOS NÚMEROS FUERON COLOCADOS DE TAL MANERA QUE SI HACEMOS LA SUMA DE LOS QUE ESTÁN EN CADA BARRA EL RESULTADO ES UNO.



2. COMPLETA LA PIRÁMIDE RESPETANDO LA REGLA



3. REALIZA LAS SIGUIENTES OPERACIONES:

$$(-2) (-5) + 7 - (-10) =$$

$$12 : 4 - 8 \cdot 3 + (-15) : 3 =$$

$$2 + (-4) 2 - (2 ((-4) - 3)) =$$

$$\frac{2}{2} + \frac{4}{3} =$$

$$\frac{2}{8} + \frac{3}{2} =$$



4. TENEMOS 4 BOTES, EN CADA BOTE HAY 4 BOLSAS Y EN CADA BOLSA HAY CINCO PESCADOS. ¿CUÁNTOS PESCADOS HAY?

ESCRIBE EL RESULTADO UTILIZANDO UNA POTENCIA