

Nama:

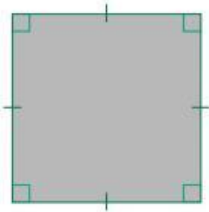
Kelas:



Bangun Datar



Isikan jawaban yang benar pada kolom yang tersedia!

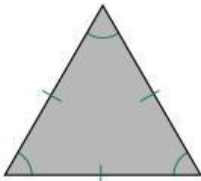


Nama Bangun Datar :

Jumlah Sisi :

Jumlah Sudut :

Jumlah Diagonal :

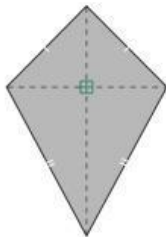


Nama Bangun Datar :

Jumlah Sisi :

Jumlah Sudut :

Jumlah Diagonal :

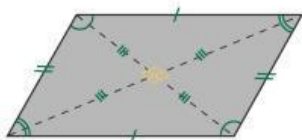


Nama Bangun Datar :

Jumlah Sisi :

Jumlah Sudut :

Jumlah Diagonal :



Nama Bangun Datar :

Jumlah Sisi :

Jumlah Sudut :

Jumlah Diagonal :