





1. Lee la siguiente información, regístrala en la tala de datos y contesta las preguntas.

En un jardín hay varios juguetes, hay 8 balones de baloncesto, 5 balones de fútbol, 7 camiones, 9 carros y 3 muñecas.

Juguete	Marcas	Total
		
		
		
		

- ¿Qué hay más, balones de fútbol o de baloncesto?

- ¿Hay más carros que camiones? _____
- ¿Cuántos balones de baloncesto hay más que balones de fútbol? _____
- ¿Cuántos carros hay en el jardín? _____
- ¿Hay menos balones que juguetes de ruedas? _____
por qué