



Lembar Kerja Peserta Didik

LKPD

Denah Rumah dan Mata Uang



Nama :
Kelas :


TEMA 3 TUGASKU SEHARI-HARI, SUBTEMA 1 TUGASKU SEHARI-HARI DI RUMAH PEMBELAJARAN 1

PETUNJUK Pengerjaan


1. Baca dan Pahami petunjuk pengerjaan dengan baik
2. Tonton video pembelajaran yang telah disediakan terlebih dahulu
3. Jawablah soal-soal dengan benar dan teliti
4. Setelah selesai mengerjakan, klik tombol Finish.

Untuk Lebih Memahami Materi Silahkan Simak Video Pembelajaran Berikut

Materi Denah Rumah



Materi Mata Uang





1. Apa yang dimaksud dengan denah rumah?

- a. Gambar rumah dan lingkungan sekitar yang menunjukkan jalan, taman, dan rumah-rumah lain
- b. Gambar hanya bagian dalam rumah
- c. Gambar rumah besar

2. Jika kamu ingin mencari jalan menuju rumahmu dengan cepat, apa yang bisa kamu gunakan?


- a. Gambar pohon di halaman rumah
- b. Denah rumah dan lingkungan sekitarnya
- c. Gambar pintu dan jendela

3. Fungsi dari denah rumah dan lingkungan adalah?

- a. Untuk menghias rumah
- b. Untuk mengetahui posisi ruangan dan lokasi rumah di lingkungan sekitar
- c. Untuk menggambar pohon di halaman rumah



Amatilah Denah Berikut!



Berdasarkan denah diatas jawablah pertanyaan-pertanyaan Berikut !!

- 4. Disamping Kanan Rumah Ayu adalah rumah.....**
- 5. Disamping Kiri Musala Adalah Rumah.....**
- 6. Di Depan Rumah Bayu adalah Rumah.....**
- 7. Di depan Posyandu adalah rumah.....**
- 8. Di depan toko toko adalah rumah.....**

9. Berdasarkan Denah sebelumnya lengkapilah denah di bawah ini



Kanan



Rumah siti



Kiri

Depan



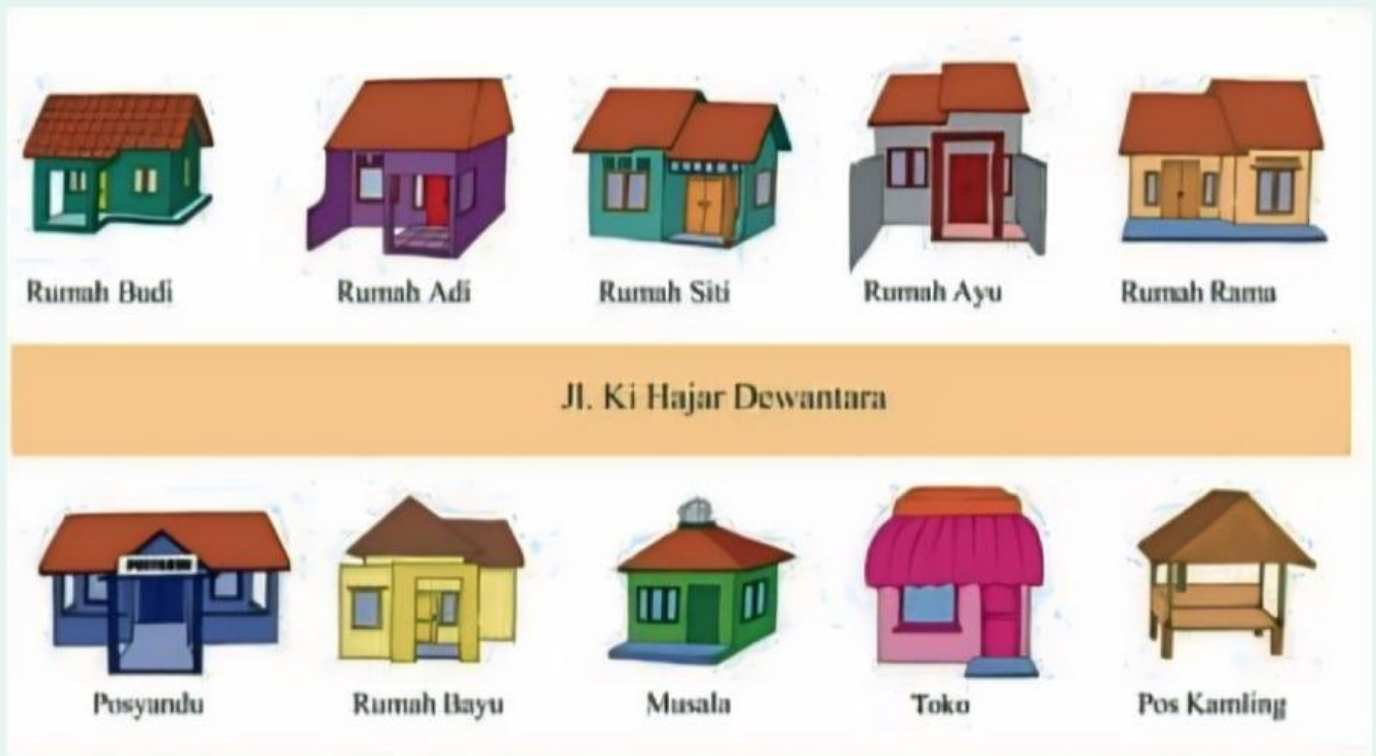
Rumah Adi

Rumah Ayu

mushala



Perhatikan denah dibawah ini



10. Berdasarkan gambar diatas sesuaikan tabel berikut

Tempat	Benar	Salah
Di depan mushala adalah rumah Adi		
Di samping kanan rumah Siti adalah Rumah Adi		
Di depan Posyandu adalah Rumah Budi		





11. Pasangkan Kelompok Uang logam Berikut Yang Bernilai sama


Petunjuk!
Pasangkan kelompok uang logam berikut yang bernilai sama!

The groups of coins are as follows:

- Group 1 (Left): 1x 500 Rupiah coin. (Right: 1x 200, 1x 200, 1x 200, 1x 100, 1x 100)
- Group 2 (Left): 1x 1000 Rupiah coin. (Right: 1x 200, 1x 200, 1x 100)
- Group 3 (Left): 1x 1000 Rupiah coin and 1x 500 Rupiah coin. (Right: 1x 500, 1x 500)
- Group 4 (Left): 2x 1000 Rupiah coins. (Right: 1x 200, 1x 200, 1x 200, 1x 200, 1x 500, 1x 500)
- Group 5 (Left): 2x 1000 Rupiah coins and 1x 500 Rupiah coin. (Right: 1x 500, 1x 500, 1x 500, 1x 200, 1x 100)



12. Urutkan dari nilai uang yang terkecil



13. 3 koin uang 500 sama dengan...

14. Sebutkan harga 1 sisir pisang dari gambar di bawah



15. Sebutkan Barang apa yang paling mahal...

