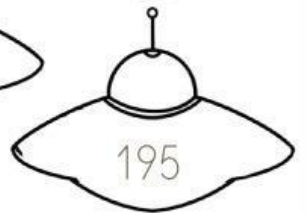




# ADIVINA EL NÚMERO

Sigue las pistas y adivina cual es el número de mi nave.

La cifra de las unidades es un 3.





Tiene 2 C y es mayor de 250.



Mi nave es la número....

La cifra de las decenas es un 8.

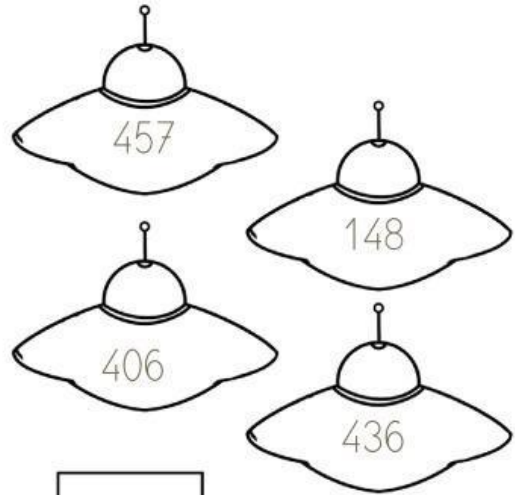
Es menor de 500 y la suma de las cifras de las unidades y las decenas es 9.



Mi nave es la número....

La cifra de las centenas es 4..

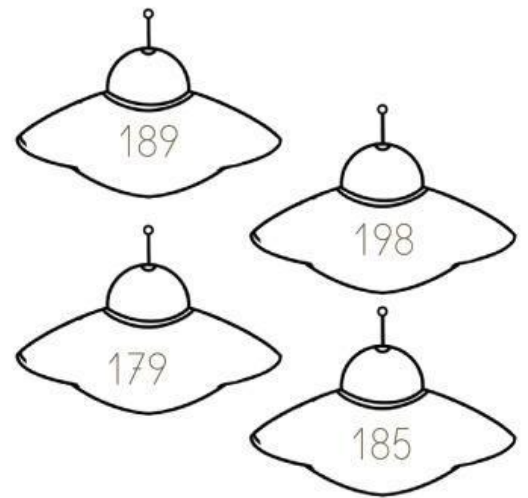
Tengo 6 unidades y ninguna decena.



Mi nave es la número....

Es un número menor de 190 y mayor de 180.

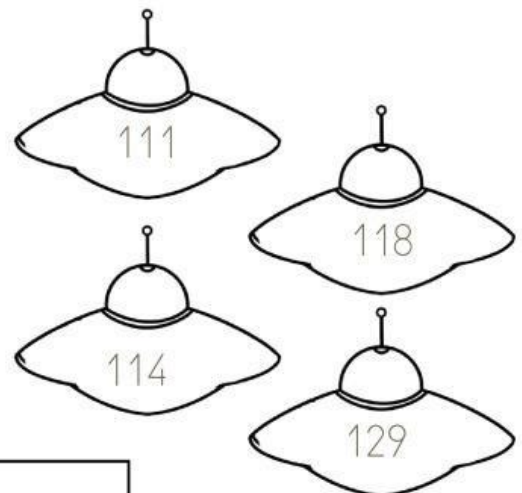
La suma de las cifras de las unidades, decenas y centenas es 14.



Mi nave es la número....

La cifra de las centenas es 1.

Tiene el mismo numero de centenas, decenas y unidades.



Mi nave es la número....