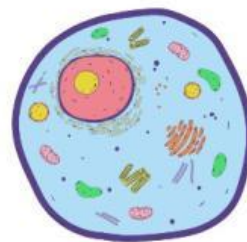
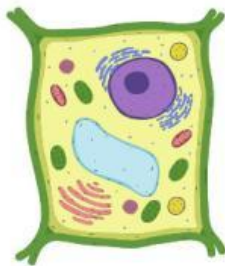


1. **Une** el nombre de la célula con su imagen.

Célula animal

Célula vegetal



2. **Coloca** las partes de la célula que faltan.

Vacuola

Núcleo

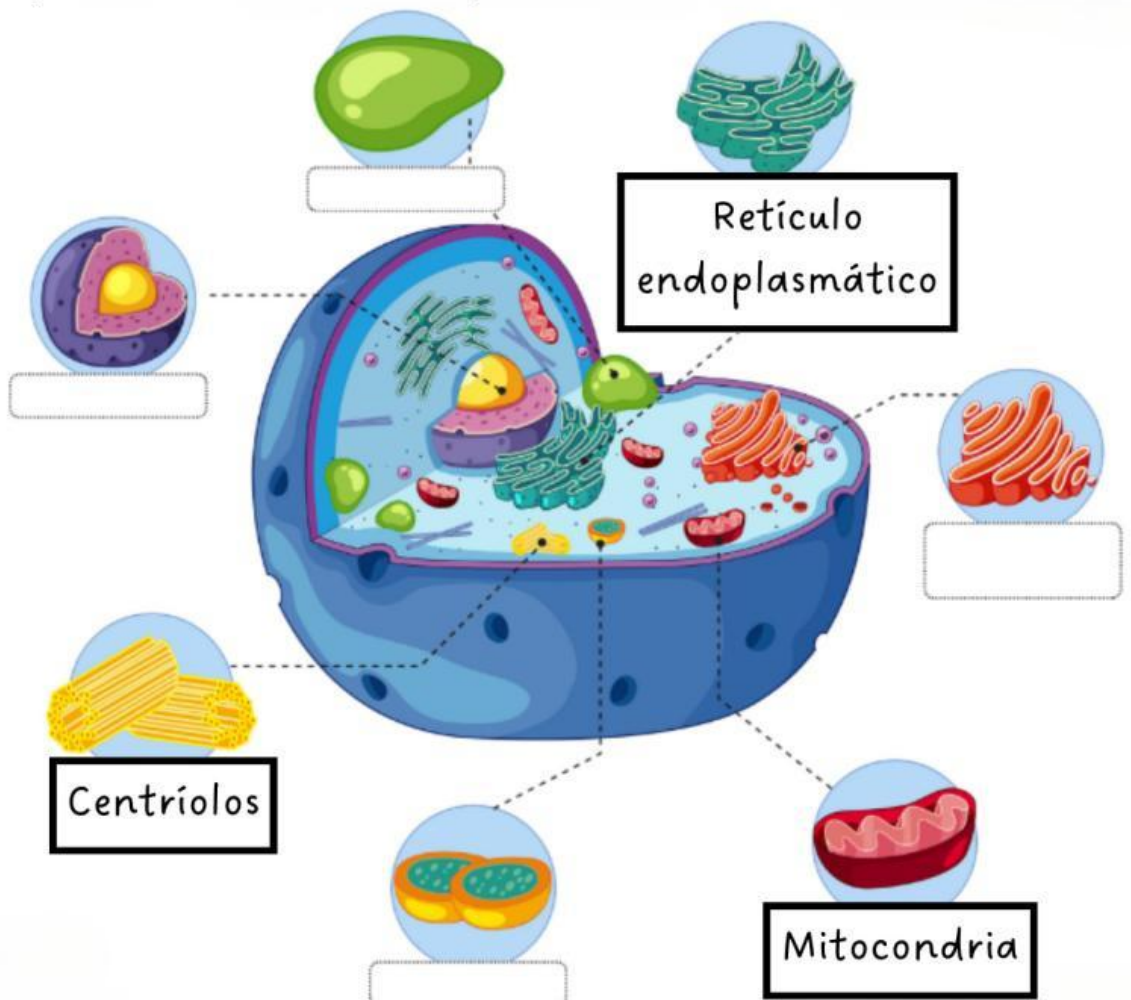
Aparato  
de Golgi

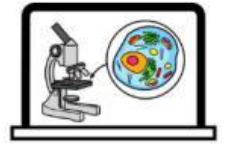
Lisosoma

Centríolos

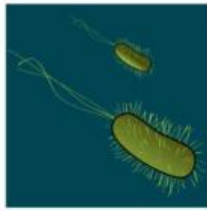
Retículo  
endoplasmático

Mitocondria





3. **Escribe** el nombre de los 5 Reinos.



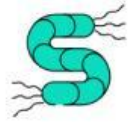
4. **Elige** la respuesta correcta.

Los tipos de bacterias se llaman...

☐ cocos, bacilos, vibrios y espirilos.

☐ coco, bastoncillo, vibrios y espirilos.

☐ cocos, bacilos, vidrios y espiral.



5. **Indica** si es verdadero (V) o falso (F) en las siguientes frases.

Las algas pueden ser verdes, rojas y pardas.

☐

El moho es un tipo de hongo.

☐

La seta es del reino de las plantas.

☐