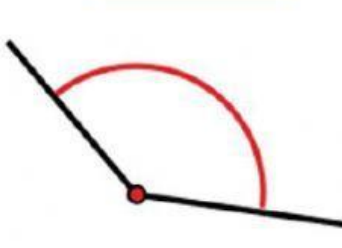


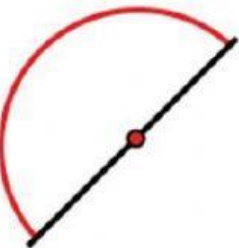
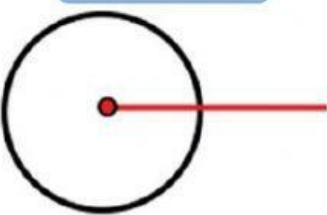


# Tipos de Angulos

1. Los ángulos se miden en grados ( $^{\circ}$ ) y según su medida se clasifican en:





Agudo

Completo

Llano

Obtuso


Recto

2. Complete según corresponda

- a. El ángulo que mide  $90^{\circ}$  se llama
- b. El ángulo que mide menos de  $90^{\circ}$  se llama
- c. El ángulo que mide más de  $90^{\circ}$  se llama
- d. El ángulo que mide  $180^{\circ}$  se llama
- e. El ángulo que mide  $360^{\circ}$  se llama


3. Trace los ángulos solicitados y señale el incorrecto.

incorrecto



120°

incorrecto



45°

incorrecto

