

Examen 2do Trimestre
Grupo: 2° C MATEMÁTICAS

NOMBRE DEL ALUMNO _____




- I. Escucha con atención y escribe en la línea la respuesta correcta del cálculo mental que te dictará tu maestra.

1. 2.- 3.- 4.- 5.-

- II. Lee con atención y resuelve los siguientes problemas razonados.

1.-Cristina y Tomás juntaron su dinero para comprar una patineta. Entre los dos ahorraron \$845. Si Cristina aportó \$530, ¿cuánto dio Tomás?

Análisis	Operación



Tomás aportó \$_____.

2.-El papá de Roberto tiene dos ranchos: en el primero hay 384 vacas y en el segundo, 127 vacas más que en el primero. ¿Cuántas vacas tiene en el segundo rancho?

Análisis	Operación

Tiene _____



vacas en el segundo rancho.

III.- Responde las siguientes tablas de multiplicar.

3	x	3	=	
6	x	4	=	
2	x	9	=	
4	x	1	=	
7	x	10	=	
5	x	8	=	
6	x	6	=	

IV.- Observa y completa

$$3 \times 3 = \underline{\quad} + \underline{\quad} + \underline{\quad}$$

$$2 \times 4 = \underline{\quad} + \underline{\quad} + \underline{\quad} + \underline{\quad}$$

$$4 \times 6 = \underline{\quad} + \underline{\quad} + \underline{\quad} + \underline{\quad} + \underline{\quad} + \underline{\quad}$$

V.-Escribe con letra

1	0	0	0
---	---	---	---

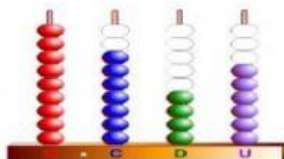
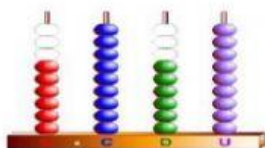
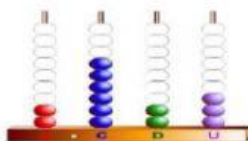
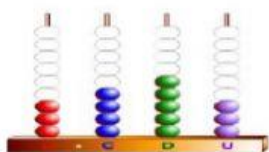
4	0	0	0
---	---	---	---

9	0	0	0
---	---	---	---

3	4	3	7
---	---	---	---

1	3	2	2
---	---	---	---

VI.-Escribe los números que se forman.



VII. Resuelve las siguientes operaciones.

	4	2	6	1
+	5	6	1	2

	3	7	4	5
+	1	1	2	8

	4	3	6	0
-		9	2	8

	4	2	6	1
-	5	6	1	2