

MENYIASAT ALAM FIZIKAL




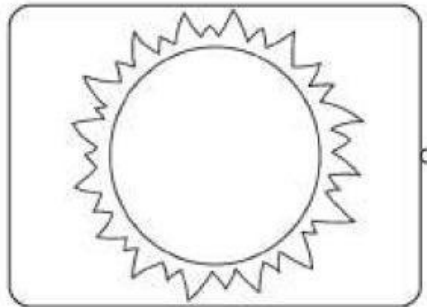
Hari : _____

Tarikh : _____

Nama : _____



Padankan sumber cahaya di bawah.



lilin

matahari

bulan

mentol

SA 5.1.1 Menyatakan pelbagai sumber cahaya

Tandatangan Guru: _____

Tandatangan Ibu Bapa: _____

Tarikh : _____

Tarikh : _____

Penilaian:

Telah Menguasai		Sedang Menguasai		Belum Menguasai	
-----------------	--	------------------	--	-----------------	--

MENYIASAT ALAM FIZIKAL

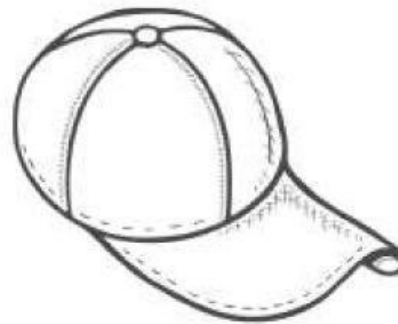
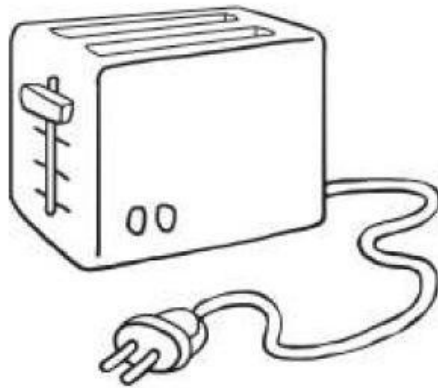

Hari : _____

Tarikh : _____

Nama : _____



Tandakan (/) pada objek yang menghasilkan cahaya.



SA 5.1.1 Menyatakan pelbagai sumber cahaya

Tandatangan Guru: _____

Tandatangan Ibu Bapa: _____

Tarikh : _____

Tarikh : _____

Pentilaian:

Telah Menguasai		Sedang Menguasai		Belum Menguasai	
-----------------	--	------------------	--	-----------------	--

MENYIASAT ALAM FIZIKAL

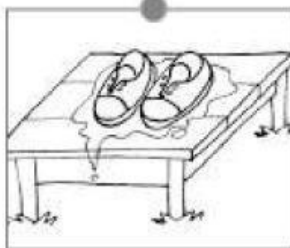
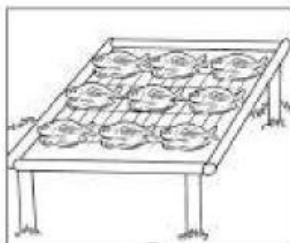
Hari : _____

Tarikh : _____

Nama : _____



Padankan.



SA 5.1.3 Menyiasat kegunaan cahaya matahari dalam kehidupan seharian.

Tandatangan Guru: _____

Tandatangan Ibu Bapa: _____

Tarikh : _____

Tarikh : _____

Pentilaian:	Teah Menguasai	Sedang Menguasai	Belum Menguasai
-------------	----------------	------------------	-----------------