

# Lądy i oceany na Ziemi

## Krajobrazy świata, część 1

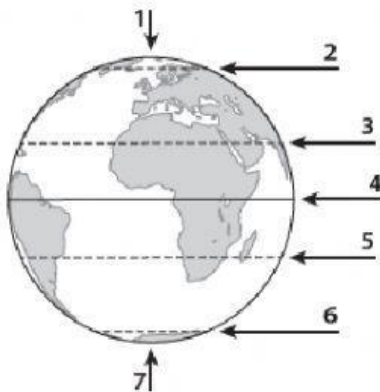
Test sprawdzający

Grupa AA

imię i nazwisko	
klasa	data

1. Na rysunku **cyframi od 1 do 7** oznaczono ważne punkty oraz wybrane elementy siatki geograficznej. Rozpoznaj je na podstawie opisu. Wpisz do tabeli odpowiednie nazwy i cyfry, którymi te elementy zostały oznaczone na rysunku. Wybierz z podanych:

**Koło podbiegunowe północne, Zwrotnik Raka, Zwrotnik Koziorożca, Równik, Biegun Południowy** (2 nazwy podano dodatkowo) **0-6 p.**



Opis	Nazwa linii lub punktu	Cyfra na rysunku
Jeden z pięciu równoleżników, którym nadano nazwy. Leży na półkuli północnej, między zwrotnikiem a biegunem.		
Zwrotnik leżący na półkuli północnej.		
Miejsce, w którym oś ziemską przecina półkulę południową.		

2. Skreśl niepasujące wyrazy tak, aby podane informacje były prawdziwe.

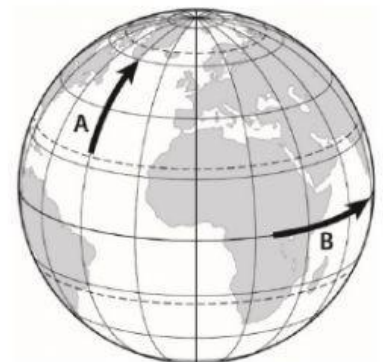
**0-3 p.**

Południki to linie łączące **oś ziemską z biegunem / bieguny Ziemi**. Południki i równoleżniki na globusie przecinają się pod kątem **prostym / ostrym**. Półkulę wschodnią i półkulę zachodnią oddzielają od siebie południki  $0^\circ$  oraz  $90^\circ / 180^\circ$ .

3. Na rysunku strzałkami oznaczono przemieszczające się punkty A i B. Wybierz właściwe spośród podanych nazw kierunków głównych

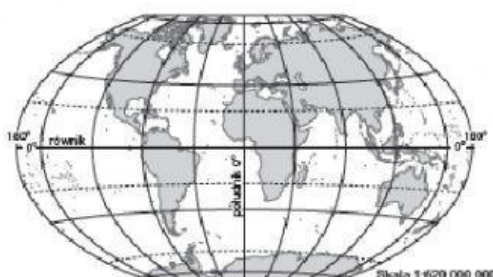
A. Punkt A przemieszcza się na północ południe wschód zachód

B. Punkt B przemieszcza się na północ południe wschód zachód



4. Wybierz na podstawie mapy nazwy trzech kontynentów, które przecina równik.

**0-3 p.**



Azja

Ameryka Południowa

Ameryka Północna

Afryka

Antarktyda

Europa

Australia

5. Wybierz nazwy opisanych kontynentów lub oceanów. Skorzystaj z zamieszczonej mapy. **0–4 p.**

A. Kontynent, który leży w całości na półkuli północnej (N) i półkuli zachodniej (W). Jest trzecim pod względem wielkości kontynentem na Ziemi.

**Azja      Ameryka Południowa      Ameryka Północna**

B. Kontynent, który w całości leży na półkuli południowej (S), a także na półkuli wschodniej (E) i półkuli zachodniej (W). Jest otoczony wodami tylko jednego oceanu.

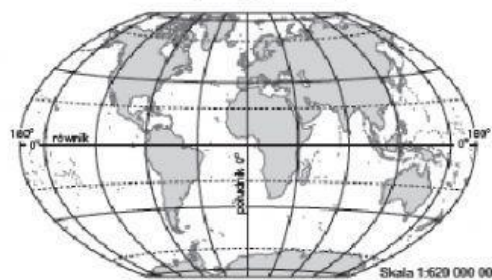
**Antarktyda      Europa      Australia**

C. Ocean, który ma największą powierzchnię. Nazwę nadał mu Ferdynand Magellan.

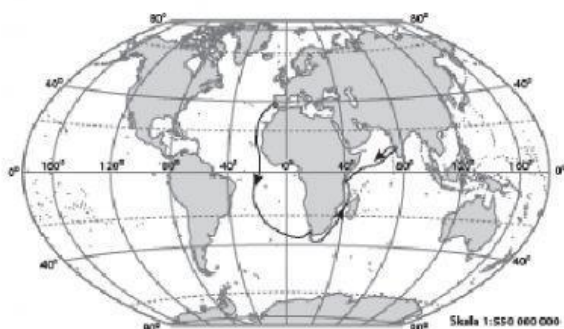
**Ocean Atlantycki      Ocean Spokojny      Ocean Indyjski**

D. Ocean, który oddziela Afrykę od Australii. Jest trzecim pod względem wielkości oceanem na Ziemi.

**Ocean Atlantycki      Ocean Południowy      Ocean Indyjski**



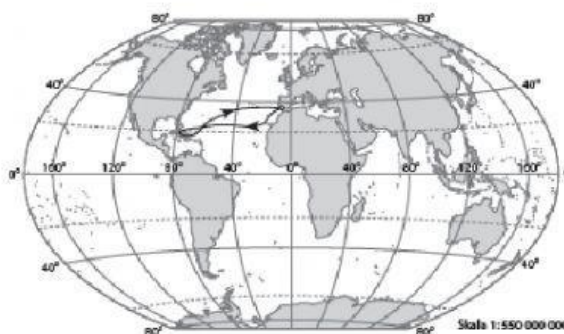
6. Dopasuj do przedstawionych na mapach tras wielkich wypraw geograficznych nazwiska odkrywców oraz obiekty geograficzne. Wybierz nazwy spośród podanych. **0–6 p.**



**A. Odkrywca:** ■ *Krzysztof Kolumb*  
■ *Dawid Livingstone* ■ *Vasco da Gama*

**Obiekt geograficzny:** ■ *Ameryka*

■ *Wodospady Wiktorii* ■ *Przylądek Igielny*

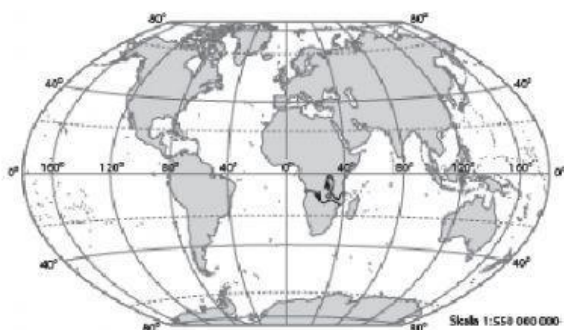


**B: Odkrywca:** ■ *Krzysztof Kolumb*

■ *Dawid Livingstone* ■ *Vasco da Gama*

**Obiekt geograficzny:** ■ *Ameryka*

■ *Wodospady Wiktorii* ■ *Przylądek Igielny*



**C: Odkrywca** ■ *Krzysztof Kolumb* ■ *Dawid Livingstone*

■ *Vasco da Gama*

**Obiekt geograficzny:** ■ *Ameryka* ■ *Wodospady Wiktorii*

■ *Przylądek Igielny*