

OPERASI NOMBOR

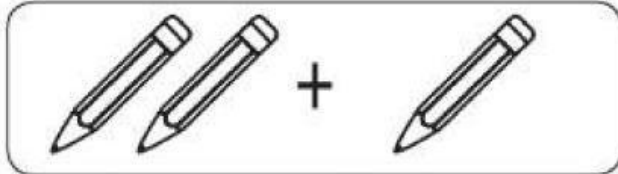
Hari : _____

Tarikh : _____

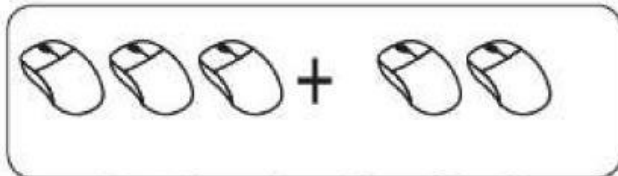
Nama : _____



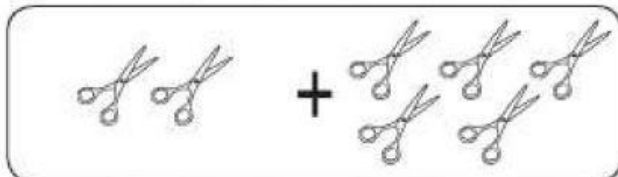
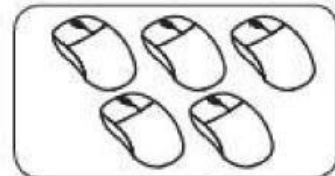
Kira dan tambah.



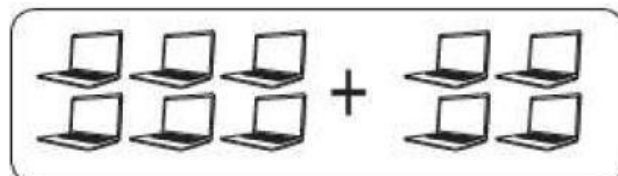
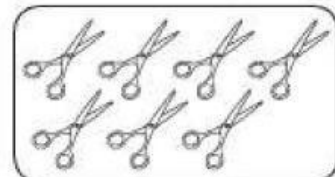
$$2 + 1$$



$$3 + 2$$



$$2 + 5$$



$$6 + 4$$



MA 3.1.1 Menyatakan hasil tambah dua himpunan objek

Tandatangan Guru: _____

Tandatangan Ibu Bapa: _____

Tarikh : _____

Tarikh : _____

Penilaian:

Telah Menguasai		Sedang Menguasai		Belum Menguasai	
-----------------	--	------------------	--	-----------------	--

OPERASI NOMBOR




Hari : _____

Tarikh : _____




Nama : _____



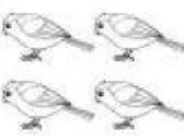

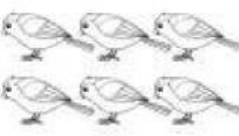
Kira dan tulis jawapan.

 +  = 

+ =

 +  = 

+ =

 +  = 

+ =

MA 3.1 Menyelesaikan masalah operasi tambah dalam lingkungan 18.
MA 3.1.6 Menyelesaikan masalah operasi tambah.

Tandatangan Guru: _____

Tandatangan Ibu Bapa: _____

Tarikh : _____

Tarikh : _____

Penilaian:

Teloh Menguasai		Sedang Menguasai		Belum Menguasai	
-----------------	--	------------------	--	-----------------	--

OPERASI NOMBOR



Hari : _____


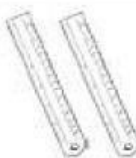
Tarikh : _____

Nama : _____





Tolak dan tulis jawapan yang betul.

  $3 - 2 =$

  $4 - 2 =$

  $6 - 4 =$

  $8 - 3 =$

MA 3.2.3 Menulis dan menyatakan ayat matematik dengan menggunakan simbol tolak (-) dan sama dengan (=).

Tandatangan Guru: _____

Tandatangan Ibu Bapa: _____

Tarikh : _____

Tarikh : _____

Penilaian:

Telah Menguasai		Sedang Menguasai		Belum Menguasai
-----------------	--	------------------	--	-----------------