



Latihan Ulangan Bab 2

A. Pilihlah jawaban yang tepat.

1. Waktu yang ditunjukkan gambar jam di samping adalah pukul



- a. 06.30 c. 08.30
b. 07.30

2. Gambar jam berikut yang menunjukkan pukul 16.35 adalah

a.



b.



c.



3. Ibu memasak mulai pukul 09.15.
Ibu selesai pukul 10.30.
Ibu memasak selama
a. 1 jam 15 menit
b. 1 jam 30 menit
c. 45 menit

4. Fira berolahraga di taman selama 2 jam 15 menit.
Fira mulai berolahraga pukul 06.30.
Fira selesai berolahraga pukul

- a. 08.15
b. 08.30
c. 08.45

5.



Pada gambar di atas, panjang sendok adalah

- a. 5 paku
b. 6 paku
c. 7 paku

6.



Panjang sikat gigi pada gambar adalah

- a. 14 cm
- b. 15 cm
- c. 16 cm

7.



Berat pepaya pada gambar adalah

- a. 2 botol
- b. 3 botol
- c. 4 botol

8.



10.



Volume kotak susu adalah

- a. 6 gelas
- b. 7 gelas
- c. 8 gelas

Benda yang paling berat berdasarkan gambar tersebut adalah

- a. tepung terigu
- b. telur
- c. gula

9. Perhatikan kembali gambar pada soal nomor 8.

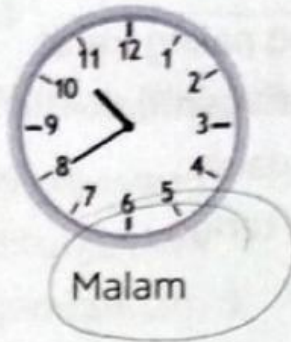
Urutan benda dari yang terberat adalah

- a. tepung terigu, gula, telur
- b. tepung terigu, telur, gula
- c. gula, telur, tepung terigu



Isilah dengan jawaban yang tepat.


1.



Waktu yang ditunjukkan gambar jam di samping adalah


2. Adit belajar di sekolah mulai pukul 06.30 hingga pukul 11.00.
Lama Adit belajar di sekolah adalah ... jam ... menit.

3.



Panjang kuas adalah ... klip.

4.



Benda yang lebih panjang pada gambar di atas adalah

5.

Apel

Jeruk

Mangga



Buah yang paling berat pada gambar di atas adalah

